









## Základní poučení

- není-li v textu uveden směr, vede trasa přímo, nebo jde-li o značenou křižovatku, vede trasa po hlavní silnici
- symbol  vyznačuje úsek, kde se jede stále po asfaltce
- symbol  vyznačuje cestu, případně úsek, kde se střídavě mění cesta v asfaltku a naopak
- značka  označuje místo, kde jsou schovány obálky s teoretickými otázkami. Jednu z obálek si vždy ponechte – slouží jako důkaz o projetí stanovištěm a za její předložení v cíli obdržíte body (první číslo). Za správně zodpovězené otázky pak obdržíte také body (druhé číslo).
- značka  označuje místo, ke kterému je v textu kontrolní otázka, sloužící jako důkaz o projetí stanovištěm. Číslo udává body za její správné zodpovězení.
- maximální možný počet bodů je 460.
- časový limit je 9 hodin. Za každou minutu po vypršení limitu se odečítá jeden bod.

## Trasa 1. etapy závodu

0.0	 START – Tuhnice, u stadiónu, konečná autobusu č. 2. Vydejte se směrem k benzinové pumpě a za ní doleva.	
0.7	Na značené křižovatce odbočte vpravo – na most.	
1.2	Za semaforem odbočte směr „Vaněk-Market“ a jeďte stále po hlavní silnici.	
2.0	Po pravé straně je žlutá zeď.  Kontrolní otázka: Spočítejte všechna písmena na této žluté zdi. Pokračujte dále.	5
3.0	Dojeli jste na hlavní silnici. Vydejte se směrem, do kterého není vidět ukazatel na kemp a po 100 metrech se dejte směr „tmely“.	
3.4	Značená křižovatka. Dejte se z kopce – směrem, ve kterém jsou vidět dvoje velká červenobílá vrata a jeďte stále rovně.	
3.8	Projeli jste kolem značky zákaz vjezdu. Po asi 50 metrech je po levé straně malá parkovací plocha.  Na jejím obvodu hledejte obálku č. 1 s teoretickými otázkami. Pokračujte dále.	5+20
4.3	Asfaltka se změnila v cestu. Pokračujte dále.	
4.5	Doprava odbočuje cesta. Pokračujte rovně a po 80 m (tam, kde se vaše cesta rozdvouje) pokračujte vpravo, stále po stejném typu cesty.	
4.7	Vyjeli jste na vodorovnou plochu s křižovatkou cest do čtyř směrů.  Kontrolní otázka: Napište název dopravní značky, která je z křižovatky vidět. Pokračujte nahoru v průběžném směru (neodbočujte vpravo ani vlevo) a jeďte stále rovně po stejném typu cesty.	10

6.7	 <p>Přijeli jste na křižovatku cest, u níž se nachází cedule chráněné krajinné oblasti. Kontrolní otázka: Pod kterou obec spadají zdejší městské lesy? Zkontrolujte funkci brzd na svém kole. Čeká vás velmi prudké klesání! Dejte se vlevo – z kopce.</p>	10
7.3	 <p>Sjeli jste z kopce a dojeli k rozcestníku. Kontrolní otázka: Sečtete všechny kilometrické údaje na všech směrových ukazatelích. Pokračujte po značené turistické cestě, jejíž ukazatel je z roku 1992 – samozřejmě směrem, kam tento ukazatel ukazuje.</p>	5
10.9	<p>Po pravé straně je rozcestník. Pokračujte dále po stejné značené turistické cestě.</p>	
12.0	 <p>Přijeli jste na asfaltku. Po pravé straně je dopravní značka. Kontrolní otázka: Jakou rychlost nesmíte překročit? Pokračujte dále po stejné značené turistické cestě.</p>	10
13.2	 <p>Dojeli jste k rozcestníku, kde značená turistická cesta, po které jste jeli, končí. Kontrolní otázka: Čí pomník stojí u křižovatky? Pokračujte směrem, do kterého je součet na kilometrovníku 14.5, a jeďte po této značené turistické cestě.</p>	5
14.0	 <p>Přejeli jste železniční přejezd a po 100 metrech jste před mostem odbočili doprava. Bezprostředně za odbočkou se vlevo nachází kanál a za ním velký kus betonu. U něj hledejte obálku č. 2 s teoretickými otázkami. Pokračujte dále po stejné značené turistické cestě.</p>	10+20
14.6	<p>Přijeli jste k objektu „V.H. P.K. Vřesová“. Dejte se po asfaltce doprava a jeďte stále rovně (nikde z ní neodbočujte).</p>	
15.3	<p>Dojeli jste na hlavní silnici. Dejte se směrem, do kterého není vidět značka dej přednost v jízdě a pokračujte stále po hlavní silnici.</p>	
16.3	 <p>Po levé straně je v lese ukryta malá kamenná stavba. Kontrolní otázka: Jaké je na ní číslo? Pokračujte dále.</p>	15
17.4	 <p>V obci je po pravé straně autobusová zastávka. Kontrolní otázka: V kolik hodin jede dnes z této zastávky poslední autobus do Vřesové? Pokračujte dále.</p>	15
18.6	 <p>Křižovatka, u které je žlutá cedule s černými nápisy. Kontrolní otázka: Jaký signál se vyjadřuje voláním „nestřílet“ a kdo tento signál dává? Pokračujte dále po hlavní silnici.</p>	5
20.3	<p>Přijeli jste do obce. Pokračujte stále rovně – po hlavní silnici.</p>	
20.9	 <p>Křižovatka před železničním mostem. Kontrolní otázka: Kolikakolejná trať vede po mostě? Nejezděte pod most – pokračujte doprava (po hlavní silnici).</p>	10

- 23.2 Přijeli jste do obce.  
Pokračujte po hlavní silnici až k vlakovému nádraží.
- 23.6 Dojeli jste k nádraží.  
Jeďte rovně (kolem hostince U Heleny).  
Kontrolní otázka: Jaké číslo autobusové linky jede do Podlesí? 15  
Pokračujte po hlavní silnici.
- 24.0 Dojeli jste na světelnou křižovatku.  
Dejte se směrem, do kterého je před křižovatkou na ukazateli číslo „7“ a pokračujte stále po hlavní silnici do následujícího stanoviště, které je až po necelých jedenácti kilometrech.
- 34.8 Přijeli jste na křižovatku, kde se vaše silnice rozděluje. Do jednoho směru je na ukazateli před křižovatkou číslo „8“, do druhého „17“.  
Vydejte se směrem, do kterého je číslo „17“.
- 35.2 Naproti restauraci U Havrana je rozcestník.  
Kontrolní otázka: Od jakého roku je tato obec známa? 15  
Vydejte se po značené turistické cestě.
- 37.6 Vyjeli jste na vrchol kopce a po levé straně je strom s rozcestníkem.  
U něj hledejte obálku č. 3 s teoretickými otázkami. 15+20  
Pokračujte dále po značené turistické cestě.
- 38.3 Dojeli jste na křižovatku značených turistických cest.  
Vydejte se po jiné značené turistické cestě, než po té, po které jste sem přijeli.
- 41.2 Po pravé straně se hned u silnice nachází zelený sloup elektrického vedení, který má žluté číslo.  
Kontrolní otázka: Jaké? 15  
Pokračujte dále po značené turistické cestě.
- 41.5 Značená turistická cesta odbočuje.  
Vy ale pokračujte rovně, stále po stejné silnici.
- 42.0 Dojeli jste na hlavní silnici.  
Dejte se směrem, do kterého je na ukazateli před křižovatkou „12“.
- 42.6 Přes silnici vedou kolmo dvě značené turistické cesty.  
Dejte se směrem nahoru a pokračujte po té značené turistické cestě, která je vyznačena jako první (nahore) a po ní jeďte stále až do stanoviště 46.4.
- 43.4 Pokračujte stále po stejné značené turistické cestě.
- 43.7 Po pravé straně je zábradlí.  
V okruhu 50 m od jeho středu hledejte obálku č. 4 s teoretickými otázkami. 35+20  
Pokračujte dále po stejné značené turistické cestě.
- 44.1 Dojeli jste opět na asfaltku.  
Pokračujte stále po stejné značené turistické cestě.
- 44.6 Minuli jste závoru.  
Pokračujte stále po stejné značené turistické cestě.
- 45.5 U cesty je rozcestník.  
Kontrolní otázka: V jaké jste nadmořské výšce? 5  
Pokračujte stále po stejné značené turistické cestě.

45.7	Vyjeli jste krátké stoupání a po levé straně vidíte mezi stromy tmavou dřevěnou stavbu. Kontrolní otázka: Jaký lidský orgán se nachází zevnitř objektu nad vchodovými dveřmi? Pokračujte stále po stejné značené turistické cestě.	40
46.4	Značená turistická cesta odbočuje, vy ale pokračujte rovně, stále po stejné asfaltce.	
46.8	Po pravé straně je dům číslo 51. Kontrolní otázka: Co se zde hlásí? Pokračujte dále.	5
47.0	Přijeli jste do obce a hned na začátku je křižovatka. Dejte se směrem, ve kterém je vidět značka zákaz zastavení.	
47.4	Dojeli jste na hlavní silnici. Dejte se směrem, do kterého není na ukazateli před křižovatkou násobek pěti a pokračujte stále po hlavní silnici.	
51.4	Po pravé straně je rozcestník. Kontrolní otázka: Co se stalo s osadou, vzniklou v 16. století? Pokračujte dále.	15
51.5	Značená turistická cesta, na kterou jste se dostali, odbočuje do zákazu vjezdu motorových vozidel. Na stromě u odbočky je červený kříž a u něj číslo. Kontrolní otázka: Jaké? Pokračujte k závoře a dále po dotyčné značené turistické cestě.	25
53.4	Přijeli jste na křižovatku, kde značená turistická cesta odbočuje. Vy ale jeďte na druhou stranu.	
54.0	Po levé straně je feromonový kůrovcový lapač. Kontrolní otázka: Jaké má evidenční číslo? Pokračujte dále.	40
54.9	Míjíte závoru. Po její pravé straně je pařez.  U něj hledejte obálku č. 5 s teoretickými otázkami. Pak dojeďte na hlavní silnici a dejte se směrem, do kterého není vidět plot.	15+20
56.2	Přejeli jste hranici okresu a po 100 metrech je značka nebezpečné klesání. Kontrolní otázka: Kolik má klesání podle údaje na značce procent? Pokračujte dále.	15
58.3	Minuli jste značku hlavní silnice. Odbočte doleva – tam, kde je cedule „zákaz volného pobíhání psů“, kolem rybníka zahněte doprava a stoupejte směrem vzhůru.	
58.8	Po pravé straně jste minuli plot. Asi 50 m za ním odbočte doprava kolem hnědobílé chaty. Dojedete k další chatě, která má číslo popisné 293. Zde je cíl 1. etapy.	
58.9	CÍL.	