









## Základní poučení

- není-li v textu uveden směr, vede trasa přímo, nebo jde-li o značenou křižovatku, vede trasa po hlavní silnici
- symbol  vyznačuje úsek, kde se jede stále po asfaltce
- symbol  vyznačuje cestu, případně úsek, kde se střídavě mění cesta v asfaltku a naopak
- značka  označuje místo, kde jsou schovány obálky s teoretickými otázkami. Jednu z obálek si vždy ponechte – slouží jako důkaz o projetí stanovištěm a za její předložení v cíli obdržíte body (první číslo). Za správně zodpovězené otázky pak obdržíte také body (druhé číslo).
- značka  označuje místo, ke kterému je v textu kontrolní otázka, sloužící jako důkaz o projetí stanovištěm. Číslo udává body za její správné zodpovězení.
- maximální možný počet bodů je 320.
- časový limit je 5 hodin. Za každou minutu po vypršení limitu se odečítá jeden bod.

## Trasa 2. etapy závodu

0.0	START. Vydejte se směrem, kterým jste sem přijeli, a až po pravé straně minete kostel a po levé rybník a dojedete na hlavní silnici, dejte se doleva – z kopce.	
1.3	Po pravé straně je telefonní budka a lávka přes potok.  Kontrolní otázka: Kolikátého stupně hygienického ochranného pásma je tento vodní zdroj? Pokračujte dále.	5
2.4	Dojeli jste na hlavní silnici. Dejte se do směru, do kterého před křižovatkou ukazuje bílá šipka s písmenem G.	
3.5	Přijeli jste do obce. Pokračujte po hlavní silnici.	
4.9	Po pravé straně je dlouhá cihlová stavba.  Kontrolní otázka: Z kolika řad cihel je postavena část na jejím levém konci (počítejte od kamenné zdi po horní okraj oken) ? Pokračujte dále po hlavní silnici.	5
6.4	100 metrů za železničním přejezdem (u telefonní budky) odbočte doleva – do kopce.	
6.5	Křižovatka. Pokračujte stále nahoru po témže typu silnice (neodbočujte doprava).	
6.6	Po levé straně je hřbitov.  Kontrolní otázka: Kdy se narodila Klara Himml (zemřela 21.7.1968) ? Pokračujte dále do kopce.	40
7.3	Po levé straně je betonová zeď.  U jejího konce hledejte obálku č. 1 s teoretickými otázkami. Pokračujte doprava – na hlavní silnici, na které se dejte směrem, ve kterém je vidět cedule obce.	10+20
7.8	Křižovatka, do které ústí široká písčitá cesta. Odbočte na asfaltku prudce doleva a po 200 metrech pokračujte do směru, ve kterém je vidět značka průjezd zakázán.	

9.2	Sjeli jste z kopce a dojeli na křižovatku. Dejte se do směru, ve kterém jsou vidět břízy, a na křižovatce po 100 metrech pokračujte rovně (horní silnicí).	
9.8	Po levé straně je cedule „vstup zakázán“. Kontrolní otázka: Jakou barvou je napsána? Pokračujte rovně.	5
10.4	Přejíždíte železniční přejezd. Kontrolní otázka: Z kolika betonových panelů je přejezd složen? Pokračujte dále.	5
11.0	Křižovatka. Pokračujte směrem, do kterého je na ukazateli před křižovatkou „6“.	
11.5	Další železniční přejezd. Na křižovatce za ním pokračujte rovně.	
12.5	Po levé straně jste minuli domek, po jehož pravé straně je rampa. Kontrolní otázka: Spočítejte počet otvorů v jejím pravém nájezdu. Pokračujte dále.	5
13.4	Po levé straně je cedule s červeným křížem. Kontrolní otázka: Jaké je pod ním číslo? Pokračujte dále.	5
14.0	Křižovatka. Dejte se do směru, do kterého mohou traktory jen na povolení MÚ a pokračujte po značené turistické cestě.	
15.1	Po levé straně je řada garáží. Kontrolní otázka: Kolik jich je? Pokračujte dále po značené turistické cestě.	5
15.6	Po levé straně je vedle sebe pět garáží, z nichž první má číslo 119. Kontrolní otázka: Kolik je součet čísel na všech pěti garážích? Pokračujte dále po hlavní silnici.	5
16.2	Dojeli jste na hlavní silnici. Dejte se směrem k přechodu pro chodce a pokračujte po hlavní silnici.	
16.8	Po pravé straně je betonové monstrum.  Zde hledejte obálku č. 2 s teoretickými otázkami. Pokračujte dále.	15+20
18.2	Dojeli jste na hlavní silnici. Dejte se směrem, do kterého je na ukazateli před křižovatkou „7“.	
18.7	Po pravé straně je výkupna surovin. Kontrolní otázka: Kolik korun dostanete ve výkupně v Chodově za 293 kg troleje? Pokračujte dále.	5
18.9	Na křižovatce u mateřské školy odbočte do obytné zóny a pokračujte rovně.	
19.4	Po pravé straně je samoobsluha. Kontrolní otázka: V jakém závodě byla vyrobena váha v prodejně (název+město) ? Pokračujte rovně.	5

- 19.5 Na křižovatce u knihovny jedte rovně směrem k modrému plotu s číslem 13 a pokračujte dále po téže typu cesty.
- 19.6 Vyjeli jste z obytné zóny a dojeli na křižovatku. Dejte se směrem „Kemp-hostinec“.
- 20.4 Křižovatka. Dejte se do zákazu vjezdu.
- 20.9 Po pravé straně je tenisové hřiště. Pokračujte dále (po rozbité asfaltce).
- 21.1 Křižovatka. Vlevo je dům č. 87, vpravo č. 29.  
 Kontrolní otázka: Jaký je na domě č. 29 nápis pod napodobeninou Švejka? 10  
Pokračujte rovně.
- 21.4 Dojeli jste na hlavní silnici. Dejte se směrem k zastávce ČSAD a pokračujte po hlavní silnici.
- 22.0 Přejeli jste most se zákazem vjezdu vozidlům těžších než 17 tun. Pokračujte dále.
- 24.5 Křižovatka s ulicí „V březinkách“.  
 Kontrolní otázka: Jaká vozidla nemohou do této ulice? 5  
Pokračujte dále po hlavní silnici.
- 24.6  Po pravé straně je značka zákaz vjezdu a za ní cedule s modrými nápisy. U ní hledejte obálku č. 3 s teoretickými otázkami. 15+20  
Pokračujte dále po hlavní silnici.
- 25.9 Po levé straně je mateřská škola.  
 Kontrolní otázka: Spočítejte okna na straně přivrácené k silnici. 5  
Pokračujte dále.
- 26.0 Dojeli jste na hlavní silnici. Dejte se směrem, ve kterém není vidět přechod pro chodce, a po 30 metrech odbočte směrem ke značce zákaz zastavení a pokračujte po hlavní silnici.
- 26.9 Po pravé straně je dům s cedulí „plnění kyvet“.  
 Kontrolní otázka: Od kolika do kolika hodin zde mají svačinu? 5  
Pokračujte dále.
- 27.0 Dojeli jste na hlavní silnici. Dejte se vlevo. Po 50 metrech přejíždíte železniční přejezd a po levé straně je značka s červeným číslem 1 a černým číslem 130.  
 Kontrolní otázka: Co tato značka znamená? 10  
Pokračujte dále po hlavní silnici.
- 28.4 Přijeli jste do obce. Po asi 250 metrech na značené křižovatce odbočte směrem „m-elektro“ a pokračujte po hlavní silnici.
- 30.1 Křižovatka, před kterou je ukazatel se třemi cíli, ale jen u jednoho je kilometrický údaj. Tím směrem se vydejte.

- 30.7 Křižovatka, před kterou je ukazatel se dvěma směry, ale jen u jednoho je kilometrický údaj.  
Tím směrem se vydejte.
- 30.8 Přijeli jste do obce.  
Kontrolní otázka: Jaké číslo má dům, na kterém je siréna, vyhlášující v této obci poplach při požáru?  
Pokračujte po hlavní silnici. 15
- 32.3 Asi 150 metrů za koncem obce se silnice rozděluje doleva a doprava.  
Pokračujte směrem na kemp.
- 33.4 Po levé straně je hned u silnice dřevěný posed.  
Na něm hledejte obálku č. 4 s teoretickými otázkami.  
Pokračujte dále. 20+20
- 33.8 Vpravo je hned u silnice bílo-červená tyč s malou bílou cedulkou.  
Kontrolní otázka: Co je na ní (kromě slov „Poškození se trestá“) napsáno?  
Nyní vás čeká klesání dlouhé přes 2 kilometry.  
Pokračujte po hlavní silnici a nikde neodbočujte. 15
- 36.2 Dojeli jste k mostu přes řeku.  
Přejedte přes něj a dejte se doprava.
- 38.1 Na konci obce je po pravé straně dům číslo 26.  
Kontrolní otázka: Z kolika skleněných tabulí je složen výklenek na pravé straně domu?  
Pokračujte dále. 15
- 39.4 Doleva odbočuje silnice se zákazem vjezdu vozidlům těžším než 3 tuny.  
Tou se dejte.
- 41.3 Doprava odbočuje silnice se zákazem vjezdu motorovým vozidlům.  
Vy ale jeďte rovně.
- 41.5 Dojeli jste k hlavní silnici.  
Kontrolní otázka: Jaká zákazová dopravní značka je vidět vpravo?  
Přejedte kolmo silnici a vydejte se cestou, která do ní z opačné strany ústí.  
Tou pokračujte stále rovně. 10
- 42.3 Přijeli jste k hlavní silnici.  
Dejte se do směru, do kterého je značka zákaz vjezdu nákladním vozidlům.
- 42.7 Vyjeli jste kopec a silnice začala klesat.  
Po asi 150 metrech se na značené křižovatce dejte vlevo (do kopce) a po 50 metrech odbočte vpravo na cestu, u které je značka zákaz vjezdu nákladním vozidlům.
- 43.1 Přijeli jste na asfaltku.  
Dejte se vpravo a jeďte rovně až do místa cíle.
- 43.5 CÍL – Lidická ulice, konečná autobusu č. 1 a 10.