









Základní poučení

- ❶ není-li v textu uveden směr, vede trasa po hlavní silnici; pokud nelze určit průběh hlavní silnice, vede trasa rovně
- ❷ symbol  vyznačuje úsek, kde se jede stále po asfaltce
- ❸ symbol  vyznačuje cestu, případně úsek, kde se střídavě mění cesta v asfaltku a naopak
- ❹ symbol  vyznačuje úsek na kole sjízdny jen obtížně
- ❺ značka  označuje místo, kde jsou schovány obálky s teoretickými otázkami; jednu z obálek si vždy ponechte – slouží jako důkaz o projetí stanovištěm a za její předložení v cíli obdržíte body (první číslo); za správně zodpovězené otázky pak obdržíte také body (druhé číslo)
- ❻ značka  označuje místo, ke kterému je v textu kontrolní otázka, sloužící jako důkaz o projetí stanovištěm; číslo udává body za její správné zodpovězení
- ❼ maximální možný počet bodů je 320
- ❽ časový limit je 6 hodin; za každou minutu po vypršení limitu se odečítá jeden bod

Trasa 2. etapy závodu

	0.0		START. Vydejte se směrem, kterým jste sem přijeli (po asfaltce z kopce dolů).	
	0.9		Dojeli jste na hlavní silnici. Vydejte se směrem, ve kterém jsou vidět autobusové zastávky.	
	1.0		Dojeli jste na křižovatku, u níž je "Večerka". Pokračujte stále po hlavní silnici.	
	3.6		Dojeli jste na křižovatku uprostřed obce, kde hlavní silnice odbočuje doleva. Vy ale jeďte rovně.	
	3.7		Další křižovatka.	
			Kontrolní otázka: Jak se jmenuje hotel, ke kterému byste dojeli, kdybyste jeli rovně?	10
			Odbočte do jednosměrné ulice. Kontrolní otázka: V jakých měsících platí po levé straně této ulice zákaz zastavení?	10
			Pokračujte touto jednosměrkou.	
	3.8		Dojeli jste na křižovatku, u níž je prodejna "Sněženka". Odbočte do opačného směru, než ve kterém je vidět červený hydrant.	
	3.9		Dojeli jste na hlavní silnici. Dejte se směrem, ve kterém jsou vidět ukazatele s čísly "12" a "3" a pokračujte po hlavní silnici.	
	4.2		Těsně před koncem obce se po pravé straně nachází šedý sloupek. Kontrolní otázka: Co je na něm kromě slov "SPT TELECOM" napsáno?	10
			Pokračujte dále.	
	6.2		Přijeli jste do obce. Pokračujte po hlavní silnici.	
	7.0		Po pravé straně jste minuli Obecní úřad a za ním je most. Kontrolní otázka: Jaké má tento most číslo?	5
			Pokračujte dále po hlavní silnici.	
	9.1		Před autobusovou zastávkou odbočuje doprava cesta, u které je sloupek se dvěma žlutými směrovými cedulemi. Vydejte se po ní.	

9.2	 	<p>Po pravé straně je sloup elektrického vedení. U něj hledejte obálku č. 1 s teoretickými otázkami. Kontrolní otázka: Jaké číslo je na tomto sloupu? Pokračujte dále.</p>	<p>10+20 10</p>
9.3		<p>Dojeli jste na křižovatku cest. Pokračujte doprava a z této cesty nikde neodbočujte.</p>	
10.7		<p>Po levé straně je posed. Kontrolní otázka: Z kolika svislých příček jsou složeny obvodové stěny horní části posedu? Pokračujte dále.</p>	<p>10</p>
11.5		<p>Po levé straně je další posed. Kontrolní otázka: Z kolika svislých příček půlkruhového profilu jsou složeny obvodové stěny horní části posedu? Pokračujte dále.</p>	<p>10</p>
12.4		<p>Přijeli jste na asfaltku. U křižovatky je červený kříž. Kontrolní otázka: Jaké číslo je u červeného kříže? Pokračujte směrem ke kříži a pak spodní cestou (ne do kopce).</p>	<p>5</p>
14.2		<p>Křižovatka, u níž je červený kříž s číslem 69. Pokračujte horní cestou (ne z kopce).</p>	
 15.7		<p>Po levé straně je posed. Kontrolní otázka: Kolik příček má žebřík na posed? Pokračujte dále.</p>	<p>10</p>
16.2		<p>Po pravé straně je červený kříž a pod ním číslo. Kontrolní otázka: Jaké? Pokračujte dále.</p>	<p>10</p>
16.9		<p>Přijeli jste na křižovatku značených turistických cest. Kontrolní otázka: Sečtěte všechny kilometrické údaje na všech směrových ukazatelích. Pokračujte směrem, do kterého je součet kilometrických údajů na ukazateli 20, a jeďte po této značené turistické cestě.</p>	<p>10</p>
17.1		<p>Přijeli jste k dalšímu rozcestníku. Vydejte se do směru, do kterého je součet kilometrických údajů na ukazateli 19,7. Jeďte stále po této značené turistické cestě.</p>	
20.2		<p>Značená turistická cesta, po které jedete, odbočuje. Odbočte také a pokračujte stále po této značené turistické cestě.</p>	
20.7		<p>Po pravé straně je rozcestník. Kontrolní otázka: V jaké jste nadmořské výšce? Pokračujte dále po značené turistické cestě.</p>	<p>10</p>
21.4		<p>Přijeli jste k hlavní silnici. Těsně předtím jste minuli strom se značkou "zákaz vjezdu". U něj hledejte obálku č. 2 s teoretickými otázkami. Pokračujte směrem, ve kterém je vidět značka "zákaz zastavení - začátek úseku".</p>	<p>20+20</p>
22.5		<p>Přijeli jste do obce. Po pravé straně je placené parkoviště. Kontrolní otázka: Jakou má pracovní dobu? Pokračujte dále.</p>	<p>10</p>
 23.0		<p>Přijeli jste k hlavní silnici. Dejte se směrem, ve kterém je vidět služebna Policie.</p>	

23.3	▢	Doprava je asfaltová odbočka, u které je dřevěná bouda s cedulí "Ski-areál". Vydejte se do této odbočky.	
23.4		Za mostem se zeleným zábradlím se asfaltka rozděluje. Jeďte tam, kde je v dálce vidět značka "zákaz vjezdu".	
23.6	✉	Po levé straně je utržený kus silnice, kde je několik kamenů. Mezi nimi hledejte obálku č. 3 s teoretickými otázkami. Pokračujte dále.	15+20
28.0	○	Po levé straně je rozcestník. Kontrolní otázka: Ze kterého roku je nejstarší z ukazatelů? Pokračujte po značené turistické cestě, jejíž směrová cedule je na tomto ukazateli nejnižší.	5
28.3		Dojeli jste k dalšímu rozcestníku. Pokračujte stále po stejné značené turistické cestě.	
28.4	○	Dojeli jste ke schátralé stavbě. Kontrolní otázka: Jaký nápis se nachází nad dveřmi do pravé místnosti v prvním patře? Pokračujte stále po stejné značené turistické cestě.	10
28.5	○	Po pravé straně je zrezivělý komínek a u něj kanál. Kontrolní otázka: Co je na tomto kanálu napsáno? Pokračujte stále po stejné značené turistické cestě.	10
28.9	○	Dojeli jste k posedu, jehož horní část je uzavřená. Kontrolní otázka: Jaké číslo dostanete, vynásobíte-li počet příček žebříku na posed a počet okének v horní části posedu? Pokračujte stále po stejné značené turistické cestě.	10
29.0		Přijeli jste na kamenitou cestu. Pokračujte stále po stejné značené turistické cestě.	
29.7	⌚	Přijeli jste na křižovatku s rozbitou asfaltkou. Opusťte značenou turistickou cestu a pokračujte doprava.	
30.3		Za prudkou pravotočivou zatáčkou je závora. Pokračujte dále.	
30.6	○	Přijeli jste na hlavní silnici. Proti vám se nachází dům s číslem 2, což je rekreační středisko. Kontrolní otázka: Jaké společnosti toto rekreační středisko patří? Pokračujte tam, kde je vidět cedule konce obce.	10
32.6		Přijeli jste na hlavní silnici. Dejte se z kopce.	
33.4		Přijeli jste na křižovatku, před kterou je stopka. Dejte se přes most a pak do směru, kam ukazuje jediný ukazatel za mostem.	
33.5	○	Po pravé straně je autobusová zastávka. Kontrolní otázka: V kolik hodin jede v pracovní den z této zastávky poslední autobus do Karlových Varů? Pokračujte dále.	10
35.2		Doprava je bílá směrovka k hotelu. Vy ale pokračujte rovně.	

- 36.1 Přijeli jste do obce.
Pokračujte dále.
- 38.5 Po levé straně je železný sloup elektrického vedení s číslem "35".
U něj hledejte obálku č. 4 s teoretickými otázkami.
Pokračujte dále. 10+20
- 39.7 Přijeli jste do obce.
Pokračujte dále.
- 39.9 Značená křižovatka.
Pokračujte směrem, do kterého jsou na ukazateli před křižovatkou dva cíle.
- 41.0 Přijeli jste do obce.
Pokračujte po hlavní silnici.
- 42.2 Po levé straně je dům s bílou cedulí, na které je nápis "Kalibra".
Kontrolní otázka: Jakou barvou je nápis proveden?
Pokračujte dále po hlavní silnici. 10
- 43.2 Přijeli jste do obce.
Pokračujte dále.
- 44.5 Vpravo jste minuli kostel a přijeli na hlavní silnici.
Dejte se vpravo a na bezprostředně následující křižovatce odbočte do zákazu vjezdu
nákladních vozidel a jeďte stále rovně až na konec ulice.
- 44.7 Dojeli jste na konec ulice.
Zde se vydejte po chodníku z kopce.
- 44.9 Sjeli jste z kopce a dojeli k silnici.
Přejeďte hlavní silnici a vydejte se doleva a pokračujte přes most, před kterým je značka
"stezka pro chodce a cyklisty".
- 45.1 Přejeli jste most.
Pokračujte k nechráněnému železničnímu přejezdu, který je lemovaný několika červeno-
bílými sloupky, přejeďte přes něj a dojeďte k hlavní silnici.
- 45.2 Přijeli jste k hlavní silnici.
Neodbočujte - jeďte rovně.
- 45.5 Za autobusovou zastávkou odbočuje hlavní silnice doleva.
Vy ale pokračujte stále rovně až na konec této ulice, kde je cíl.
- 45.8 CÍL - Šumavská ulice.