
























Základní poučení












- 1 není-li v textu uveden směr, vede trasa po hlavní silnici; pokud nelze určit průběh hlavní silnice, vede trasa rovně
- 2 symbol  vyznačuje úsek, kde se jede stále po asfaltce
- 3 symbol  vyznačuje cestu, případně úsek, kde se střídavě mění cesta v asfaltku a naopak
- 4 symbol  vyznačuje úsek na kole sjízdný jen obtížně
- 5 značka  označuje místo, kde jsou schovány obálky s teoretickými otázkami; jednu z obálek si vždy ponechte – slouží jako důkaz o projetí stanovištěm a za její předložení v cíli obdržíte body (první číslo); za správně zodpovězené otázky pak obdržíte také body (druhé číslo)
- 6 značka  označuje místo, ke kterému je v textu kontrolní otázka, sloužící jako důkaz o projetí stanovištěm; číslo udává body za její správné zodpovězení
- 7 maximální možný počet bodů je 460
- 8 časový limit je 9 hodin; za každou minutu po vypršení limitu se odečítá jeden bod








Trasa 1. etapy závodu

	0.0		START – Šumavská ulice. Vydejte se k lampě veřejného osvětlení, za ní doprava a na následné křižovatce po 50 m opět doprava do zákazu vjezdu.	
	0.1		Za lampou veřejného osvětlení se značkou hlavní silnice odbočte do kopce.	
	0.4		U modrého plotu pokračujte rovně.	
	0.5		Dojeli jste na konec ulice. Dejte se do zákazu vjezdu motorovým vozidlům a na asfaltce po 10 m pokračujte opačným směrem, než ve kterém je vidět závora.	
	1.1		U řady garáží asfaltka skončila. Pokračujte dále.	
	1.2		Vrátili jste se na asfaltku. Pokračujte tam, kde je vidět značka zákaz vjezdu do jednosměrné ulice, a na následující křižovatce po 80 m odbočte opět do zákazu vjezdu do jednosměrné ulice.	
	1.3		Po pravé straně je značka stezka pro chodce a cyklisty. Vydejte se do kopce po značené turistické cestě.	
	1.5		Značená turistická cesta odbočuje. Vy ale pokračujte rovně.	
	1.7		Vlevo jsou zelená vrata s bílou cedulí. Kontrolní otázka: Čím je podle této cedule střežen objekt za vraty? Pokračujte dále.	10
	1.8		Křižovatka. Dejte se z kopce a až po 50 m dojedete k hlavní silnici, vydejte se směrem, ve kterém je vidět zastávka MHD a pokračujte po hlavní silnici.	
	2.4		Minuli jste značku parkoviště a za ní odbočuje do kopce cesta z dlažebních kostek. Po ní se vydejte.	
	2.8		Doprava odbočuje asfaltka, u které je značka zákaz vjezdu motorovým vozidlům. Tou se vydejte.	

- 3.6  Po levé straně je mramorová kniha.
Kontrolní otázka: Jaké číslo je napsáno na levé stránce této knihy?
Pokračujte dále po asfaltce. 10
- 4.0  Na křižovatce u přístřešku s lavičkami se vydejte doleva.
- 4.6 Dojeli jste na křižovatku, u níž je na jednom ze stromů rozcestník.
Vydejte se směrem, na jehož ukazateli je slovo „MHD“.
- 4.7 Minuli jste závoru.
Pokračujte dále.
- 5.6 Křižovatka.
Pokračujte tam, kde je vidět zelená bouda.
- 5.7 Křižovatka, u které je přístřešek s několika směrovými cedulemi.
Pokračujte směrem, do kterého ukazuje ukazatel s nejmenším počtem písmen.
- 5.9 Asfaltka se rozdvouje.
Vydejte se směrem, který není z kopce.
-  6.7   Dojeli jste na křižovatku, u které je sud.
Kontrolní otázka: V jaké jste nadmořské výšce?
Pokračujte z kopce. 20
- 7.8 Dojeli jste na křižovatku, u které je pískoviště a houpačky.
Vydejte se směrem k zelenému zábradlí.
- 8.7 Přijeli jste k hlavní silnici.
Dejte se doprava a po 50 m odbočte doleva po značené turistické cestě.
- 8.8 Přejeli jste železniční přejezd.
Pokračujte dále po značené turistické cestě.
- 9.4  Po levé straně jsou vily se jmény.
Kontrolní otázka: Jak se jmenuje vila mezi Juttou a Andreou?
Pokračujte dále. 15
- 9.8 Dojeli jste k domu, na jehož stěně je velké zelené písmeno „K“.
Projeďte kolem něj, za ním odbočte doleva a po 50 m u růžového penzionu doprava.
- 10.0 Další křižovatka.
Pokračujte ke staré rozpadající se věžovité stavbě a za ní směrem, ve kterém je vidět značka zákaz stání, a pokračujte rovně kolem značky zákaz vjezdu motorových vozidel.
- 11.1  Po pravé straně je malý hnědý přístřešek se zelenou cedulí.
U něj hledejte obálku č. 1 s teoretickými otázkami.
Pokračujte dále. 10+20
- 13.4   Přejeli jste zpomalovací práh. Po pravé straně je žlutá tabule.
Kontrolní otázka: Jak se jmenuje skála mezi „Zámkem“ a „Tchánem“?
Pokračujte dále. 10
- 13.7 Křižovatka – pokračujte směrem, který nevede do oploceného prostoru.
-  14.3 Křižovatka, u které je dřevěná lavička.
Pokračujte rovně (ne doprava).

17.2		Dojeli jste na velkou křižovatku, u které je strom s jednou směrovou cedulí na obě strany. Kontrolní otázka: Jakou barvu má kolečko na této směrové ceduli? Pokračujte směrem, do kterého tato cedule neukazuje.	30
18.5		V dlouhé levotočivé zatáčce je křižovatka s cestou, u které je strom s bílými nápisy „K 25“ a šipkou. Zde opusťte asfaltku a vydejte se po značené turistické cestě.	
19.2		Po pravé straně je posed. Kontrolní otázka: Kolik příček má žebřík na posed? Pokračujte dále po značené turistické cestě.	20
 19.7		Křižovatka cest. Pokračujte dále po značené turistické cestě.	
21.1		Přijeli jste na asfaltku. Kontrolní otázka: Na rozcestníku u křižovatky sečtete všechny kilometrické údaje. Pokračujte dále po značené turistické cestě.	15
21.7		U křižovatky je další rozcestník. U něj hledejte obálku č. 2 s teoretickými otázkami. Pokračujte směrem, do něhož ukazuje směrový ukazatel, na kterém je součet kilometrických údajů 4,5.	10+20
23.2		Přijeli jste k hlavní silnici – dejte se z kopce.	
23.6		Přijeli jste k hlavní silnici. Dejte se směrem, do kterého je za křižovatkou na směrovém ukazateli „8“.	
 26.6		U autobusové zastávky je po levé straně růžová stavba. Kontrolní otázka: Co se zde prodává? Pokračujte dále.	10
29.3		Dojeli jste k železničnímu mostu. Kontrolní otázka: Koho miluje Ája? Pokračujte dále.	20
29.8		Přijeli jste do obce. Pokračujte dále.	
30.4		Na křižovatce u hospody se vydejte tam, kde není vidět značka nerovnost vozovky.	
31.2		Přijeli jste na křižovatku, kde hlavní silnice odbočuje prudce doprava. Kontrolní otázka: Jaké město je partnerským městem tohoto města? Pokračujte z kopce.	10
31.9		Přejeli jste železniční přejezd. Pokračujte dále.	
32.4		Po pravé straně je hřbitov. Kontrolní otázka: Kdy zemřel Franz Goldhaamer (nar. 9.7.1890)? Pokračujte dále.	15
 33.6		Přijeli jste k mostu, pod kterým vede železnice. Po pravé straně před mostem hledejte obálku č. 3 s teoretickými otázkami. Pokračujte dále.	10+20

34.3	 Vpravo je řada garáží s bílými čísly na červených tabulkách. Kontrolní otázka: Sečtete všechna tato čísla. Pokračujte dále.	15
36.8	Přijeli jste k viaduktu. Pokračujte pod něj a dále.	
37.7	 Přijeli jste na okružní křižovatku. Pokračujte směr „PRIOR“.	
38.0	Křižovatka u Autocentra. Pokračujte směr „Zvláštní škola“.	
 39.8	 Přejeli jste železniční přejezd a za ním je doprava odbočka se závorou. Kontrolní otázka: Spočítejte počet červených pruhů na závoře. Pokračujte dále po hlavní silnici.	15
40.6	 Za mostem se zákazem vjezdu vozidlům těžším než 25 t odbočte doleva.	
41.3	 Po levé straně je sloup elektrického vedení s červeným číslem 16. U něj hledejte obálku č. 4 s teoretickými otázkami. Pokračujte dále.	10+20
43.2	 Po pravé straně je strom s červeným křížem. Kontrolní otázka: Jaké číslo je pod červeným křížem? Pokračujte dále.	15
45.6	 Minuli jste značku hlavní silnice a za ní je směrová tabule. Kontrolní otázka: Sečtete všechna čísla na této směrové tabuli. Pokračujte dále.	10
 47.0	Nad vámi vede elektrické vedení a doprava odbočuje cesta – tou se vydejte.	
47.2	 Přejeli jste železniční přejezd a po rozbité asfaltce dojeli na rozcestí. Po pravé straně je oplocený objekt. Kontrolní otázka: Jaký prostor se nachází v tomto objektu – tam, kde je zákaz vstupu? Pokračujte směrem k truhlářství.	15
47.3	Za mostem se cesta rozdvouje. Pokračujte směrem k ptačí budce a do zákazu vjezdu třem druhům vozidel.	
47.6	Rozcestí, u kterého je zařízení s nápisem „SR 01/04“. Pokračujte směrem k tomuto zařízení a pak stále rovně až na hlavní silnici.	
47.9	Přijeli jste k hlavní silnici. Dejte se doleva.	
48.2	Za značkou hlavní silnice odbočuje prudce doprava cesta. Tou se vydejte.	
48.3	 Po levé straně je bílo-oranžový sloupek. U něj hledejte obálku č. 5 s teoretickými otázkami. Pokračujte dále po staré, místy velmi rozbité asfaltce.	10+20
49.4	U modré šipky pokračujte spodní cestou – stále po staré rozbité asfaltce.	
49.9	U domu č. 17 pokračujte rovně – do kopce.	

- 50.2  Připojili jste se na značenou turistickou cestu a dojeli k rozcestníku.
Kontrolní otázka: Z jakého roku je nejnovější cedule na rozcestníku? 30
Pokračujte po značené turistické cestě – směrem, do kterého je součet kilometrických údajů 37,5.
-  51.1 Přijeli jste na silnici.
Pokračujte do kopce.
- 53.1 Přijeli jste k hlavní silnici.
Pokračujte směrem, ve kterém je vidět dodatková tabulka „1 km“.
- 53.8  Po pravé straně je bílo-oranžový sloupek.
Kontrolní otázka: Co je napsáno na bílé cedulce na sloupku? 15
Pokračujte dále.
- 56.6 Přijeli jste do obce.
Pokračujte dále.
- 57.0  Přijeli jste k hlavní silnici.
Vydejte se opačným směrem, než ve kterém je vidět služebna policie.
- 57.3  Přejeli jste most a vpravo je telefonní budka.
Kontrolní otázka: Jaké má tato telefonní budka číslo? 10
Pokračujte dále.
- 57.5  Na křižovatce před autobusovými zastávkami odbočte směr „autoservis“.
- 58.4 V prudké pravotočivé zatáčce je žlutá směrovka s nápisem „KIOSEK“.
Tímto směrem se vydejte a dojedete k domu, který má číslo 253.
Zde je cíl 1. etapy.
-  58.5 CÍL.