





























Základní poučení

- 1 není-li v textu uveden směr, vede trasa po hlavní silnici; pokud nelze určit průběh hlavní silnice, vede trasa rovně
- 2 symbol  vyznačuje úsek, kde se jede stále po asfaltce
- 3 symbol  vyznačuje cestu, případně úsek, kde se střídavě mění cesta v asfaltku a naopak
- 4 symbol  vyznačuje úsek na kole sjízdný jen obtížně
- 5 značka  označuje místo, kde jsou schovány obálky s teoretickými otázkami; jednu z obálek si vždy ponechte – slouží jako důkaz o projetí stanovištěm a za její předložení v cíli obdržíte body (první číslo); za správně zodpovězené otázky pak obdržíte také body (druhé číslo)
- 6 značka  označuje místo, ke kterému je v textu kontrolní otázka, sloužící jako důkaz o projetí stanovištěm; číslo udává body za její správné zodpovězení
- 7 maximální možný počet bodů je 320
- 8 časový limit je 6 hodin; za každou minutu po vypršení limitu se odečítá jeden bod

Trasa 2. etapy závodu

	0.0		START. Vydejte se po asfaltce z kopce.	
	0.9		Dojeli jste na hlavní silnici. Pokračujte směrem, ve kterém nejsou vidět autobusové zastávky a jeďte po hlavní silnici.	
	1.4		Křižovatka za hotelem. Vydejte se směrem, do kterého je na směrovém ukazateli před křižovatkou součet kilometrických údajů 16.	
	1.6		Po pravé straně je pod zeleným přístřeškem popelnice s červeným číslem. Kontrolní otázka: Jakým? Pokračujte dále.	10
	3.9		V obci je u autobusových zastávek po pravé straně sloup veřejného osvětlení a na něm několik směrových cedulí. Kontrolní otázka: Na jakou vlnu odkazuje jedna ze směrových cedulí? Pokračujte dále.	10
	4.0		Na křižovatce před kostelem se vydejte směrem, ve kterém je vidět pošta.	
	4.3		Po pravé straně je rekreační středisko OkÚ Karlovy Vary. Kontrolní otázka: Jaké má tento dům číslo? Pokračujte dále.	10
	6.2		V pravotočivé zatáčce je po levé straně rozcestník. Kontrolní otázka: Jaký je ciferný součet na nejnižší tabulce? Pokračujte dále.	10
	7.0		Po levé straně je bílo-červený sloupek. U něj hledejte obálku č. 1 s teoretickými otázkami. Pokračujte dále.	10+20
	7.3		Po pravé straně je sloupek se žlutou cedulkou. Vydejte se po cestě, kam ukazuje šipka na žluté cedulce.	
	8.1		Míjíte závoru. Kontrolní otázka: Kolik bílých pruhů má závora? Pokračujte dále.	10

9.1		Po levé straně je rozcestník. Kontrolní otázka: Vynásobte všechny kilometrické údaje na směrových ukazatelích. Pokračujte dále.	10
9.4		Cesta, po které jedete, se pomalu změnila na asfaltku a dojeli jste na rozcestí. Pokračujte tam, kam směřuje velká šipka s německými nápisy.	
10.8		Za závorou se cesta rozdvojuje – pokračujte z kopce.	
 12.0		Přijeli jste k silnici – vydejte se po ní do kopce.	
12.5		 Přijeli jste na křižovatku. Kontrolní otázka: Jaká značka piva je na velké bílé ceduli na stavbě po levé straně? Pokračujte směrem, ve kterém není vidět značka zákaz otáčení.	10
12.6		Další křižovatka. Pokračujte směrem, do kterého je před křižovatkou číslo „4“.	
14.7		Minuli jste značku hlavní silnice a doprava je odbočka na hotel Sibera. Kontrolní otázka: Jaká televize je v každém pokoji tohoto hotelu? Pokračujte dále po hlavní silnici.	10
16.2	 	Po levé straně je železný sloup elektrického vedení. U něj hledejte obálku č. 2 s teoretickými otázkami. Pokračujte dále.	10+20
17.6		Za prudkou pravotočivou zatáčkou je vpravo vjezd do objektu se zákazem vjezdu. Kontrolní otázka: Pro jaká vozidla tato značka neplatí? Pokračujte dále.	10
19.9		 Po levé straně je občerstvení. Kontrolní otázka: Který den v týdnu není otevřené? Pokračujte dále.	10
 21.9		V prudké pravotočivé zatáčce je po levé straně bílá cedule pásma hygienické ochrany. Kontrolní otázka: Na jakém je stromě? Pokračujte dále.	10
22.5		Vlevo je zelený plot. Kontrolní otázka: Pod jakou pokutou je zde zákaz skládky? Pokračujte dále.	10
23.4		Na začátku obce je po levé straně fotbalové hřiště. Kontrolní otázka: Na jaké straně mají z vašeho pohledu střídačku domácí? Pokračujte dále.	10
23.9		Dojeli jste k hlavní silnici. Vydejte se směrem, do kterého je na ukazateli před křižovatkou součet 11.	
24.3		200 m za cedulí konce obce je po levé straně oranžovo-černý sloupek. U něj hledejte obálku č. 3 s teoretickými otázkami. Pokračujte dále.	10+20
25.6		Křižovatka před železničním přejezdem. Vydejte se směrem, do kterého je na ukazateli před křižovatkou chyba.	
25.7		Po pravé straně je zelená cedule „truhlářství / tesařství“. Kontrolní otázka: Jaké se zde dělají podlahy? Pokračujte dále.	10

- 27.1  Po levé straně je dům č. 26.
Kontrolní otázka: Jakým psem je střežený tento objekt? 10
Pokračujte dále.
-  27.5 Po levé straně je rozcestník.
Pokračujte směrem, do kterého je na ukazateli součet kilometrických údajů 21, a jeďte po této značené turistické cestě.
- 29.5  V protisměru míjíte ceduli upozorňující na elektrický ohradník.
Kontrolní otázka: Kdo se podle této cedule pohybuje v ohradě? 10
Pokračujte dále.
- 30.3 Přijeli jste k hlavní silnici – pokračujte ke dvěma bílo-oranžovým sloupkům.
- 30.9   Po levé straně je „malý krámeček“.
Kontrolní otázka: Jak se jmenuje? 10
Pokračujte dále.
- 31.8  Doprava odbočuje cesta a u ní je vysoký železný sloup elektrického vedení.
U něj hledejte obálku č. 4 s teoretickými otázkami. 10+20
Pokračujte dále.
- 32.6 Křižovatka těsně za cedulí obce.
Vydejte se směrem, do kterého je na ukazateli před křižovatkou „1“.
-  34.8  Dojeli jste k hlavní silnici.
Odbočte do směru, ve kterém není vidět značka hlavní silnice.
Po 30 m je vlevo odbočka do slepé ulice.
Kontrolní otázka: Jakou nejvyšší rychlostí můžete podle dopravní značky touto ulicí jet? 10
Pokračujte dále po hlavní silnici.
- 36.1 Za cedulí obce odbočte do zákazu vjezdu.
- 36.3 Přijeli jste k hlavní silnici.
Pokračujte směrem, ve kterém není vidět značka železničního přejezdu.
- 37.4   Minuli jste odbočku do zákazu vjezdu a po levé straně je „smíšené zboží“.
Kontrolní otázka: Do kolika hodin má v sobotu otevřeno? 10
Pokračujte dále.
- 38.3 Vlevo je most přes řeku.
Dejte se po cestě, která vede k tomuto mostu, ale nejezděte na něj a pokračujte rovně podél řeky.
Následně bude několik odboček doprava, vy ale pokračujte stále rovně podél řeky.
- 39.4  Po levé straně je rozcestník.
Kontrolní otázka: Jaká je odtud vzdálenost k východišti značených tras? 10
Pokračujte dále podél řeky.
- 41.8  Cesta, po které jste jeli, skončila.
Vydejte se na most, před kterým je značka stezka pro chodce a cyklisty.
- 41.9 Přejeli jste most.
Pokračujte k nechráněnému železničnímu přejezdu, který je lemovaný několika červeno-bílými sloupkami, přejeďte přes něj a až dojedete k hlavní silnici, pokračujte rovně.
- 42.3 Za autobusovou zastávkou odbočuje hlavní silnice doleva.
Vy ale pokračujte stále rovně až na konec této ulice, kde je cíl.
-  42.6  CÍL – Šumavská ulice.