














Základní poučení

- ❶ není-li v textu uveden směr, vede trasa po hlavní silnici; pokud nelze určit průběh hlavní silnice, vede trasa rovně
- ❷ symbol  vyznačuje úsek, kde se jede stále po asfaltce
- ❸ symbol  vyznačuje cestu, případně úsek, kde se střídavě mění cesta v asfaltku a naopak
- ❹ symbol  vyznačuje úsek na kole sjízdný jen obtížně
- ❺ značka  označuje místo, kde je schována obálka s teoretickými otázkami; list s otázkami si vždy ponechte – slouží jako důkaz o projetí stanovištěm a za jeho předložení v cíli obdržíte body (první číslo); za správně zodpovězené otázky pak obdržíte také body (druhé číslo)
- ❻ značka  označuje místo, ke kterému je v textu kontrolní otázka, sloužící jako důkaz o projetí stanovištěm; číslo udává body za její správné zodpovězení
- ❼ maximální možný počet bodů je 460
- ❽ časový limit je 8 hodin; za každou minutu po vypršení limitu se odečítá jeden bod

Trasa 1. etapy závodu

	0.0		START – pohostinství U Doubku. Vydejte se do kopce.	
	1.4		Značená křižovatka, u které je zrcadlo. Pokračujte směrem, ve kterém je vidět značka dvojitá zatáčka.	
	2.1		Dojeli jste na křižovatku, kde dáváte přednost. Pokračujte směrem ke značce pozor, zpomalovací práh.	
	2.6		Minuli jste ceduli konce obce a dojeli na hlavní silnici. Dejte se směrem, do kterého ukazuje jediný ukazatel před křižovatkou.	
	5.0		Přijeli jste do obce. Kontrolní otázka: Jaké číslo má v této obci dům, ve kterém je základní škola? Pokračujte dále.	15
	6.0		Přijeli jste na hlavní silnici. U křižovatky je rozcestník značených turistických cest. Kontrolní otázka: Do jakého cíle je na rozcestníku největší vzdálenost? Pokračujte směrem, do kterého je na směrových ukazatelích před křižovatkou „3“.	15
	7.0		Značená křižovatka, před kterou jsou směrové ukazatele do dvou cílů. Odbočte doleva.	
	9.1		Přijeli jste do obce – pokračujte dále.	
	9.3		Vlevo je cesta se značkou zákaz vjezdu nákladním vozidlům. Touto cestou se dejte.	
	9.4		Na rozcestí u domu č. 31 pokračujte rovně.	
	9.5		Dojeli jste na silnici. Pokračujte ke křižovatce, u které je zrcadlo, a na ní rovně.	
	10.0		300 m za koncem obce jste dojeli na značenou křižovatkou. Pokračujte silnicí, nad kterou nevedou dráty elektrického vedení.	
	10.3		Vpravo je u silnice bílo-červeně pruhovaný sloupek. U něj hledejte obálku č. 1 s teoretickými otázkami. Pokračujte dále.	10+20

- 12.1 Přijeli jste k hlavní silnici.
Vydejte se směrem, do kterého je na směrovém ukazateli před křižovatkou větší kilometrický údaj.
- 13.0 Na značené křižovatce odbočte do zákazu vjezdu nákladním vozidlům.
- 13.1 Přejíždíte most.
Kontrolní otázka: Kolik svislých sloupků je na levém zábradlí mostu?
Pokračujte dále. 15
- 🕒 14.9 Po levé straně je cukrářství.
Kontrolní otázka: Kdo je jeho vlastníkem?
Pokračujte dále. 15
- 15.9 Vpravo je červeno-bílý pruhovaný sloupek.
Za ním odbočujete doleva cesta – tou se vydejte.
- 16.3 Vlevo je hned u cesty železný sloup elektrického vedení.
Kontrolní otázka: Jaké má číslo?
Pokračujte dále. 15
- 17.2 Cesta se změnila v asfaltku a po pravé straně je šedá brána s nápisem „vrátnice“.
Pokračujte dále.
- 17.3 Vlevo je hřiště se dvěma bílými brankami.
Na následující křižovatce pokračujte směrem k autobusové zastávce.
- 18.0 Dojeli jste na křižovatku, u které je dopravní značka zóna.
Kontrolní otázka: Od kolika do kolika hodin tato značka dnes platí?
Pokračujte opačným směrem, než ve kterém je vidět tato značka. 15
- 18.1 Vpravo jsou dva skleníky.
Pokračujte dále.
- 18.4 Vlevo je modrá poštovní schránka a vedle ní dřevěná lavička.
Kontrolní otázka: Kolik prken tvoří na lavičce opěradlo?
Pokračujte rovně. 15
- 20.1 Na rozcestí před bílým baráčkem se dejte doprava.
- 20.3 Přijeli jste na asfaltku.
Vydejte se po ní do kopce.
- 21.2 Vlevo je pro protisměr směrová cedule.
U ní hledejte obálku č. 2 s teoretickými otázkami.
Pokračujte dále. 10+20
- 🕒 21.7 Přijeli jste do obce a následně na křižovatku tvaru T.
Pokračujte do kopce.
- 22.3 Dojeli jste na hlavní silnici.
Vydejte se směrem, ve kterém není vidět cedule konce obce.
- 22.9 🏠 Přijeli jste na náměstí. Po levé straně je kašna a o kus dále pomník.
Kontrolní otázka: Kdy byl pomník odhalen?
Pokračujte dále. 15
- 23.0 Hlavní silnice odbočuje doleva.
Pokračujte směrem, ve kterém je vidět poštovní schránka.

- 23.1 Po levé straně je kostel a před ním lavička.
Pokračujte dále.
- 23.3 Minuli jste značku nebezpečné stoupání.
Pokračujte dále.
- 24.9 Vpravo je „soukromý majetek“.
Kontrolní otázka: Jaký vstup je zde zakázaný? 15
Pokračujte dále.
- 27.2 Vlevo je dřevěný kříž.
Pokračujte dále.
- 🕒 27.6 Přijeli jste na křižovatku, u které je rozcestník značených turistických cest.
Dejte se směrem, do kterého je na rozcestníku nižší součet kilometrických údajů.
- 30.5 Za cedulí konce obce je most.
Kontrolní otázka: Kolik je na něm bílých sloupků? 15
Pokračujte dále.
- 31.0 ✉ Na značené křižovatce se vydejte směrem ke značce nerovnost vozovky.
U značky hledejte obálku č. 3 s teoretickými otázkami. 10+20
Pokračujte dále.
- 32.4 Vystoupali jste na kopec a doleva odbočuje značená turistická cesta.
Odbočte také.
- 32.7 Přijeli jste k osamocenému stromu. Vlevo je sloup elektrického vedení s číslem 50.
Pokračujte po ní cestou, která vede souběžně s kamenitou cestou.
- 33.8 Přijeli jste na křižovatku cest.
Kontrolní otázka: Kolik EUR stála oprava zdejší lesní cesty v roce 2001? 15
Vydejte se směrem k závoře.
- 🕒 35.9 Po levé straně je rozcestník.
Kontrolní otázka: Sečtěte všechny kilometrické údaje na všech směrových ukazatelích. 15
Pokračujte rovně.
- 36.9 Rozcestí.
Pokračujte rovně.
- 38.7 Přijeli jste na křižovatku cest, u které je strom s číslem 91.
Kontrolní otázka: Jaké číslo má strom na protější straně křižovatky? 15
Pokračujte doleva.
- 41.4 Dojeli jste na křižovatku, u které je rozcestník.
Kontrolní otázka: Z jakého roku je nejstarší cedule na rozcestníku? 15
Pokračujte směrem, do kterého ukazuje směrovka s nejnižším součtem kilometrických údajů.
- 41.5 Křižovatka, u které je kamenný sloupek s křížem.
Pokračujte rovně.
- 42.0 ✉ Projíždíte pravotočivou zatáčkou a vlevo je sloup s čísly 200 a 201.
U něj hledejte obálku č. 4 s teoretickými otázkami. 10+30
Pokračujte dále.
- 42.6 Projeli jste závorou a dojeli do obce.
U transformátoru se dejte doleva a po 100 m odbočte směrem k autobusové zastávce.

- 🕒 42.8 📍
 Přijeli jste k autobusové zastávce.
 Kontrolní otázka: Jak se jmenuje zdejší hospoda, v níž kalkuloval ceny Jaroslav Straka? 15
 Otočte se, vraťte se 150 m na předchozí křižovatku a z ní pokračujte k cedulím konce obce.
- 45.0 📍
 Po levé straně je rozcestník.
 Kontrolní otázka: Jaký obrázek je nakreslený na nejvýše umístěné směrové ceduli? 15
 Pokračujte dále po hlavní silnici.
- 48.2
 Přijeli jste do obce.
 Pokračujte dále.
- 48.6
 Na značené křižovatce pokračujte po hlavní silnici.
- 48.8 📍
 Po pravé straně je restaurace.
 Kontrolní otázka: Jak se jmenuje? 15
 Pokračujte dále.
- 49.3
 Značená křižovatka.
 Pokračujte směrem, do kterého jsou na směrovém ukazateli před křižovatkou dva cíle.
- 50.8 📍
 Po levé straně je rozcestník a za ním most.
 Kontrolní otázka: Kolik je na zábradlí mostu černých pruhů? 15
 Pokračujte dále.
- 51.0 📧
 Vpravo je bílo-oranžový pruhovaný sloupek.
 U něj hledejte obálku č. 5 s teoretickými otázkami. 10+20
 Pokračujte dále.
- 🕒 53.5
 Přijeli jste na křižovatku, kde dáváte přednost.
 Pokračujte rovně.
- 53.9 📍
 Přijeli jste do obce.
 Kontrolní otázka: Jaké číslo má budova, ve které sídlí obecní úřad? 15
 Pokračujte dále.
- 54.4
 Značená křižovatka, u které je hřiště se dvěma bílými brankami.
 Pokračujte směrem, kam nemohou vozidla těžší než 5 tun.
- 57.9 📍
 Za cedulí okresu je strom s číslem 146.
 Kontrolní otázka: Co je to za strom? 15
 Pokračujte dále.
- 59.6 📍
 Přijeli jste do obce a dojeli na křižovatku, kde dáváte přednost.
 Pokračujte po značené turistické cestě.
- 60.6 📍
 U domu č. 366 jste dojeli k hlavní silnici.
 Pokračujte po značené turistické cestě.
- 61.2
 Značená turistická cesta odbočuje doleva, vy ale pokračujte rovně.
- 61.4
 Přijeli jste k oplocenému pozemku.
 Dejte se doprava a na následující křižovatce po 50 m doleva.
- 61.6
 Přejeli jste potok.
 Za ním odbočte doleva do oploceného pozemku, kde je cíl 1. etapy
- 🕒 61.7
 CÍL.