











Základní poučení







- 1 není-li v textu uveden směr, vede trasa po hlavní silnici; pokud nelze určit průběh hlavní silnice, vede trasa rovně
- 2 symbol  vyznačuje úsek, kde se jede stále po asfaltce
- 3 symbol  vyznačuje cestu, případně úsek, kde se střídavě mění cesta v asfaltku a naopak
- 4 symbol  vyznačuje úsek na kole sjízdný jen obtížně
- 5 značka  označuje místo, kde je schována obálka s teoretickými otázkami; list s otázkami si vždy ponechte – slouží jako důkaz o projetí stanovištěm a za jeho předložení v cíli obdržíte body (první číslo); za správně zodpovězené otázky pak obdržíte také body (druhé číslo)
- 6 značka  označuje místo, ke kterému je v textu kontrolní otázka, sloužící jako důkaz o projetí stanovištěm; číslo udává body za její správné zodpovězení
- 7 maximální možný počet bodů je 320
- 8 časový limit je 5 hodin; za každou minutu po vypršení limitu se odečítá jeden bod

Trasa 2. etapy závodu

	0.0	START. Za bránou se vydejte doleva.	
	0.3	Minuli jste značku zákaz vjezdu pro motorová vozidla. Na křižovatce za ní pokračujte rovně.	
	1.2	Přijeli jste na asfaltku.  Kontrolní otázka: Kolik průstřelů je na značce zákaz vjezdu motorovým vozidlům? Pokračujte směrem k zelené ceduli.	10
	2.3	Přijeli jste na křižovatku. Vpravo je bílý dům, vlevo je závora. Pokračujte směrem k závoře.	
	3.0	Křižovatka čtyř asfaltových cest, uprostřed které je žlutozelená šipka. Vydejte se tam, kam tato šipka ukazuje.	
	4.0	Přijeli jste na křižovatku, poblíž které je vidět přístřešek se zelenou cedulí.  Kontrolní otázka: Jaké číslo je na stromu u křižovatky? Pokračujte opačným směrem, než ve kterém je vidět přístřešek.	10
	5.3	Křižovatka pěti cest. Vydejte se směrem, ve kterém je vidět dřevěný plot, a z této cesty nikde neodbočujte.	
	6.5	Po levé straně je rozcestník.  Kontrolní otázka: Jaký je na směrových cedulích na rozcestníku logický ekvivalent ke slovu „rybníky“? Pokračujte dále.	10
	6.7	Rozcestí. Pokračujte stále po stejném typu cesty.	
	7.2	Vpravo je malá ohrada z drátěného plotu. V tomto místě jsou u cesty dva stromy s bílými čísly v oranžovém kruhu.  Kontrolní otázka: Jaký je součet těchto čísel? Pokračujte dále.	10
	7.6	Křižovatka cest, u které je dřevěná lavička. Dejte se vpravo a doprava pokračujte i po 80 metrech na silnici.	

- 🕒 7.8  Po levé straně je několik velkých kamenů.
U nich hledejte obálku č. 1 s teoretickými otázkami. 10+20
Pokračujte dále.
- 9.5  Před křižovatkou jsou směrové ukazatele.
Kontrolní otázka: Sečtěte všechna čísla na těchto ukazatelích. 10
Pokračujte směrem, do kterého je menší kilometrický údaj.
- 11.5  Vlevo je cedule chráněné krajinné oblasti. U ní jsou červená vrata.
Kontrolní otázka: Kolik dřevěných planěk je v těchto červených vratech? 10
Pokračujte dále.
- 12.5  Vpravo je hned u silnice posed.
Kontrolní otázka: Kolik příček má žebřík na posed (horní dvojpříčku počítejte za jednu)? 10
Pokračujte dále.
- 13.9 80 metrů za značkou dvojitá zatáčka odbočte po cestě vpravo.
- 14.1  Dojeli jste na silnici a následně k modré pumpě.
Kontrolní otázka: Jaké pivo má reklamu u křižovatky? 10
Pokračujte do zákazu vjezdu nákladním vozidlům.
- 14.6 Cesta se rozdvouje.
Pokračujte stále po stejném typu cesty (vlevo).
- 15.2  Vpravo jsou dvě maringotky.
Kontrolní otázka: Jaká zvířata žijí v těchto maringotkách? 10
Pokračujte dále.
- 15.3 Přijeli jste na asfaltku.
Pokračujte opačným směrem, než do kterého pokračují dřevěné sloupy.
- 15.9  Vlevo je malý vrcholek s červeno-bílým pruhovaným sloupkem.
U něj hledejte obálku č. 2 s teoretickými otázkami. 10+20
Pokračujte dále.
- 🕒 16.4 Přijeli jste na hlavní silnici.
Pokračujte směrem, do kterého je na směrovém ukazateli před křižovatkou jen jeden cíl.
- 17.1 Přijeli jste do obce a dojeli na značenou křižovatku.
Pokračujte po hlavní silnici.
- 17.5  Kontrolní otázka: Jaké číslo má poslední dům po pravé straně před koncem obce? 10
- 19.8  Po obou stranách silnice jsou svodidla.
Kontrolní otázka: Kolik sloupků má pravé svodidlo? 10
Pokračujte dále.
- 20.8 Na značené křižovatce odbočte doprava.
- 21.9 U domu s nápisem „Jiskra“ jste přijeli na hlavní silnici.
Pokračujte směrem k autobusovým zastávkám.
- 22.0  U obecního úřadu odbočte doleva a na bezprostředně následující křižovatce se dejte směrem ke značce zákaz zastavení.
 Kontrolní otázka: Jaké číslo má dům, ve kterém je lékárna? 10
- 22.2 U prodejny „HRAČKY-PAPÍR“ odbočte doleva a na bezprostředně následující křižovatce (kde dáváte přednost) odbočte doprava – směrem k zrcadlu.

	22.7	 Přijeli jste k hlavní silnici. Přejeďte ji a za ní se dejte doprava.	
	23.1	 Za domem č. 314 se dejte doleva, přejeďte železniční přejezd a za ním pokračujte rovně.	
	23.4	 Na křižovatce tvaru T pokračujte směrem ke sloupu číslo 40271. U sloupu hledejte obálku č. 3 s teoretickými otázkami. Pokračujte dále.	10+20
	24.4	 Vlevo je u cesty červeno-bílý pruhovaný sloupek s cedulkou. Kontrolní otázka: Co je na cedulce kromě slov „poškození se trestá“ ještě napsáno? Pokračujte dále.	10
	25.6	 Přijeli jste do obce Na rozcestí u bílého domu se dejte doleva.	
	25.7	 U „sběrného dvora odpadů“ jste dojeli na silnici. Kontrolní otázka: Jaká je jeho provozní doba? Pokračujte opačným směrem, než ve kterém je vidět značka hlavní silnice.	10
	26.1	 Na křižovatce, kde dáváte přednost, pokračujte doleva.	
	27.3	 Vpravo je objekt se zelenými vraty. Kontrolní otázka: Komu je do tohoto objektu zakázán vstup? Pokračujte dále.	10
	28.2	 Přijeli jste na hlavní silnici. Pokračujte do kopce.	
	29.1	 Značená křižovatka. Dejte se směrem, do kterého ukazuje jediný ukazatel před křižovatkou.	
	29.3	  Přijeli jste do obce – pokračujte po hlavní silnici. Kontrolní otázka: Jaké číslo má v této obci „Kulturní dům“?	10
	30.0	 Značená křižovatka, u které je závora s cedulí „zákaz skládky“. Opusťte hlavní silnici a odbočte.	
	30.3	 Vpravo je hřbitov – pokračujte rovně.	
	30.6	 Přijeli jste na silnici a proti vám je závora s dopravní značkou. Kontrolní otázka: Jakou? Pokračujte doleva.	10
	31.1	 Dojeli jste k hlavní silnici. Vydejte se směrem do obce.	
	32.1	 Vpravo je značka slepá silnice. U ní hledejte obálku č. 4 s teoretickými otázkami. Pokračujte rovně.	10+20
	33.1	 Přijeli jste k hlavní silnici. Pokračujte po ní směrem, ve kterém je vidět kilometrovník.	
	34.0	 Za autobusovou zastávkou odbočte do zákazu vjezdu nákladním vozidlům.	
	34.3	  Vlevo je obecní úřad. Kontrolní otázka: Jaké má tento dům číslo? Pokračujte dále po hlavní silnici.	10

- 35.0  Sjeli jste z kopce a dojeli na značenou křižovatku.
Kontrolní otázka: Jaké číslo má sloup u křižovatky? 10
Pokračujte směrem k ceduli chráněné krajinné oblasti.
- 35.7 Za zákazem vjezdu traktorům odbočte doprava a po 100 m se na hlavní silnici dejte taktéž doprava.
- 36.9  Za směrovkou na „BauMax“ odbočte doleva a hned za silnicí se vydejte po cestě doprava.
- 37.5 Cesta se změnila na asfaltku.
Pokračujte dále.
- 37.9 Za domem č. 77 odbočte doprava.
- 38.0   Přijeli jste k autobusové zastávce, u které je modrá pumpa.
Kontrolní otázka: Pro co se nesmí voda z této pumpy používat? 10
Pokračujte rovně.
- 38.3 Přijeli jste k hlavní silnici.
Dejte se směrem, kam nemohou vozidla přepravující náklad, který může způsobit znečištění vody.
- 39.1 Na značené křižovatce se vydejte do jednosměrné ulice.
- 39.4 Přijeli jste na křižovatku, kde dáváte přednost.
Pokračujte rovně.
- 40.2 Přijeli jste na hlavní silnici.
Dejte se z kopce.
-  41.6  CÍL – pohostinství U Doubku.