





















































Základní poučení



















- ❶ není-li v textu uveden směr, vede trasa po hlavní silnici; pokud nelze určit průběh hlavní silnice, vede trasa rovně
- ❷ symbol  vyznačuje úsek, kde se jede stále po asfaltce
- ❸ symbol  vyznačuje cestu, případně úsek, kde se střídavě mění cesta v asfaltku a naopak
- ❹ symbol  vyznačuje úsek na kole s jízdný jen obtížně
- ❺ značka  označuje místo, kde je schována obálka s teoretickými otázkami; list s otázkami si vždy ponechte – slouží jako důkaz o projetí stanovištěm a za jeho předložení v cíli obdržíte body (první číslo); za správně zodpovězené otázky pak obdržíte také body (druhé číslo)
- ❻ značka  označuje místo, ke kterému je v textu kontrolní otázka, sloužící jako důkaz o projetí stanovištěm; číslo udává body za její správné zodpovězení
- ❼ maximální možný počet bodů je 460
- ❽ časový limit je 9 hodin; za každou minutu po vypršení limitu se odečítá jeden bod

Trasa 1. etapy závodu

	0.0		START – pohostinství u Doubku. Vydejte se do kopce.	
	1.4		Křižovatka, u které je zrcadlo. Vydejte se směrem, ve kterém je vidět značka dvojitá zatáčka.	
	2.2		Na kruhovém objezdu pokračujte směrem, do kterého ukazuje bílá šipka na modrém podkladu.	
	2.6		Přijeli jste k hlavní silnici. Pokračujte směrem, ve kterém je vidět značka zákaz zastavení – průběh úseku.	
	3.7		Další křižovatka, u které je zrcadlo. Hlavní silnice odbočuje doleva, vy ale pokračujte směrem k autobusové zastávce.	
	3.8		Vpravo je poštovní schránka. Kontrolní otázka: Za kolik hodin má být ode dnešního poledne vybrána? Pokračujte dále.	10
	4.0		U další autobusové zastávky pokračujte směrem, ve kterém je vidět modrá pumpa, a po 100 m odbočte vlevo ke žlutému baráčku.	
	4.5		Asfaltka se změnila na cestu. Pokračujte dále.	
	5.1		Přijeli jste k hlavní silnici. Přejeďte ji a vydejte se směrem, kam ukazuje bílá šipka na zeleném podkladu.	
	5.4		Přijeli jste k velké ceduli s číslem 100. Pokračujte vlevo po asfaltce a po 80 m odbočte vlevo na cestu.	
	5.9		Vlevo je pod stříškou zelená cedule. Kontrolní otázka: Sečtěte na lícové straně cedule všechna bílá čísla. Pokračujte dále po cestě do kopce a nikde z ní neodbočujte.	10
	6.5		Přijeli jste k baráčku s hlavou jelena. Pokračujte rovně a nikde neodbočujte.	
	8.2		Přijeli jste na asfaltku. Vydejte se po ní směrem, ve kterém je vidět bříza.	
	9.0		Doleva odbočuje značená turistická cesta – vydejte se po ní.	

🕒	9.7	 Přijeli jste k rozcestníku. Kontrolní otázka: Kdo se podle pověsti zřítíl ze zdejší skály? Pokračujte po značené turistické cestě, na jejímž ukazateli je součet 29,5 km.	30
	10.4	 Přijeli jste na silnici. Pokračujte po ní z kopce.	
	10.8	 V prudké levotočivé zatáčce odbočuje jedna cesta doprava a druhá vede rovně do kopce. Opusťte asfaltku, pokračujte po té druhé z jmenovaných cest a nikde neodbočujte.	
	11.6	 Přijeli jste na asfaltku. Pokračujte rovně – neodbočujte.	
	12.0	 Vlevo je v poli betonová skruž. U ní hledejte obálku č. 1 s teoretickými otázkami. Pokračujte dále.	10+20
	12.3	 Přijeli jste na křižovatku. Pokračujte směrem, ve kterém nejsou vidět svodidla.	
	12.8	 Přijeli jste na křižovatku, před kterou je stopka. Kontrolní otázka: Jaký byl součet kilometrických údajů na směrových cedulích před křižovatkou? Pokračujte směrem, ve kterém je vidět autobusová zastávka.	10
	14.0	 Za další autobusovou zastávkou odbočte doprava a pokračujte po hlavní silnici.	
	16.0	 Za cedulí konce obce je vpravo úzká zděná stavba. Kontrolní otázka: Jaké číslo je na plechových dvířkách, která jsou vidět ze silnice? Pokračujte dále.	10
🕒	17.9	 Křižovatka. Pokračujte směrem, ve kterém není vidět značka zákaz vjezdu vozidel nad 5 tun.	
	18.8	  Vpravo je autobusová zastávka a vlevo hospůdka. Kontrolní otázka: V kolik hodin tato hospůdka dnes podle provozní doby zavírá? Pokračujte dále.	15
	19.6	 Za cedulí konce obce jste přijeli na křižovatku. Pokračujte směrem, do kterého byly na ukazatelích před křižovatkou dva cíle.	
	20.1	 Přijeli jste k hlavní silnici. Pokračujte směrem, do kterého pokračuje i svodidlo.	
	21.5	 Přijeli jste na křižovatku, před kterou je stopka. Odbočte tam, kde je vidět značka hlavní silnice, za ní se dejte doprava a pokračujte po hlavní silnici.	
	22.7	 Hlavní silnice odbočuje vlevo. Kontrolní otázka: Co je růžová budova u silnice, která pokračuje rovně? Pokračujte po hlavní silnici.	10
	23.2	 Vpravo je zrezivělý sloupek s malou tabulkou. U něj hledejte obálku č. 2 s teoretickými otázkami. Pokračujte dále.	10+20
	23.8	 Přijeli jste na hlavní silnici. Pokračujte po ní směrem, ve kterém je vidět cedule konce obce.	
	26.1	 Přijeli jste na značenou křižovatku, kde hlavní silnice odbočuje doprava. Vy ale pokračujte rovně.	
🕒	26.7	 Vpravo je na stromě rozcestník. Kontrolní otázka: Sečtěte všechny kilometrické údaje na rozcestníku. Pokračujte dále.	15

28.9		Přijeli jste k hlavní silnici. Pokračujte směrem k zrcadlu a před ním odbočte na cestu doleva.	
29.1		Za domem č. 11 se cesta rozděluje. Pokračujte levou cestou.	
29.2		Vlevo je skála. Na ní hledejte obálku č. 3 s teoretickými otázkami. Pokračujte dále.	10+20
29.4		Křižovatka cest u malé oranžové stavby. Kontrolní otázka: Co je malá zelená stavba vlevo? Pokračujte do zákazu vjezdu motorovým vozidlům.	15
29.7		Vlevo je lavička a za ní pomník. Pokračujte dále a na následující křižovatce cest pokračujte do kopce po kamenité cestě.	
 30.7		Vlevo je u cesty posed. Kontrolní otázka: Jakou barvu má vnitřní výplň posedu vlevo od vstupních dveří? Pokračujte dále.	15
30.8		Kamenitá cesta se rozdvouje. Pokračujte tou levou.	
31.1		Projeli jste závorou a dojeli na velkou křižovatku několika cest. Pokračujte rovně – do největšího kopce.	
31.5		Křižovatka cest. Pokračujte po značené turistické cestě.	
31.9		Vpravo je posed. Kontrolní otázka: Jaké číslo dostanete, vynásobíte-li počet příček žebříku na posed a počet okének v horní části posedu? Pokračujte po značené turistické cestě.	15
32.5		Přijeli jste k rozcestníku. Pokračujte směrem, do kterého je na směrové ceduli součet 21 km.	
32.7		Vpravo je červený kříž s číslem a za ním se cesta rozdvouje. Pokračujte tou levou.	
 34.6		Vlevo je červený kříž s číslem a vpravo velký krmelec a maringotka s obilím. Kontrolní otázka: Co je to za obilí? Pokračujte dále.	15
36.7		Projeli jste závorou a za ní je po levé straně dům. Kontrolní otázka: Jaké má číslo? Pokračujte dále.	15
37.4		Vpravo je dům č. 70. Zde splňte zvláštní úkol. Pokračujte dále.	25
37.5		Přejeli jste most se zeleným zábradlím a dojeli k hlavní silnici. Vydejte se směrem k řadě garáží a před ní odbočte doprava kolem zeleného domu.	
37.8		Přijeli jste na křižovatku, u které je rozcestník se zelenou stříškou a zrcadlo. Pokračujte do kopce.	
38.9		Vlevo je závora se zákazem vjezdu a vpravo červeno-bílý pruhovaný sloupek. U něj hledejte obálku č. 4 s teoretickými otázkami. Pokračujte dále.	10+20

- 39.9  Vlevo je dům č. 210, vpravo je upoutávka na restaurační a ubytovací zařízení.
 Kontrolní otázka: Jak se jmenuje? 10
 Pokračujte dále.
- 40.2  Hlavní silnice odbočuje doprava. Pokračujte směrem, ve kterém je vidět pošta.
- 41.8  Vpravo je hospoda s poštovní schránkou a teploměrem.
 Kontrolní otázka: Jaká je maximální hodnota stupnice teploměru (uved'te v Kelvinech)? 15
 Pokračujte dále.
-  42.9 Vlevo je dům „U bílého koně“. Vpravo je vidět baráček s nepravidelně skosenou střechou a vysokým komínem.
 Kontrolní otázka: Jaké má tento dům číslo? 15
 Pokračujte dále.
- 44.5 Vyjeli jste na vrchol kopce. Doleva i doprava odbočují cesty. Vydejte se směrem k závoře.
- 45.2  Po pravé straně je polorozbořená stavba.
 V ní hledejte obálku č. 5 s teoretickými otázkami. 10+20
 U jednoho z rohů na opačné straně stavby ústí nenápadná cesta. Tou se vydejte.
- 46.3  Vpravo je posed.
 Kontrolní otázka: Kolik příček má žebřík na posed? 15
 Pokračujte dále.
- 46.7 Za domem s červenou střechou jste přijeli na lepší cestu. Pokračujte rovně.
- 47.0 Přijeli jste na asfaltku. Vydejte se po ní z kopce.
- 48.1  Vpravo je žlutá cedule a vlevo odbočuje cesta se závorou.
 Kontrolní otázka: Do jakého úhlu je ohnutý vršek závory? 20
 Projed'te závorou a pokračujte po cestě, ze které nikde neodbočujete.
-  50.8 Projeli jste další závorou. Za ní se cesta rozdvouje. Pokračujte rovně (ne doprava).
- 51.0 Projeli jste potokem. Za ním se dejte doprava.
- 51.7 Přijeli jste k hlavní silnici. Pokračujte směrem k autobusovým zastávkám.
- 52.1  Za poštou odbočuje hlavní silnice doleva, vy ale pokračujte rovně.
- 52.3 Přijeli jste k hlavní silnici. Vydejte se směrem ke značce nebezpečná krajnice.
- 54.0  Vystoupali jste na kopec. Vpravo je značka s obrázkem a číslem 45.
 Kontrolní otázka: Co tato značka znamená? 15
 Pokračujte dále.
-  60.6  Přijeli jste do obce a dojeli na křižovatku s hlavní silnicí.
 Vydejte se směrem, do kterého je na směrových ukazatelích před křižovatkou součet 13.
- 61.5  Přijeli jste na křižovatku, před kterou je stopka.
 Kontrolní otázka: Jakou barvu má zvíře, figurující v názvu hospody po pravé straně? 10
 Odbočte doprava a na bezprostředně následující křižovatce po 30 m doleva.
- 61.8 U domu č. 774 odbočte doprava.
- 64.4 Minuli jste velkou cedulí s mapou. Asi 80 m za ní je rozcestí, na kterém odbočte doleva.
-  65.2 Přijeli jste k bílému domu s číslem 23. Zde je cíl 1. etapy.