










































## Základní poučení







- ❶ není-li v textu uveden směr, vede trasa po hlavní silnici; pokud nelze určit průběh hlavní silnice, vede trasa rovně
- ❷ symbol  vyznačuje úsek, kde se jede stále po asfaltce
- ❸ symbol  vyznačuje cestu, případně úsek, kde se střídavě mění cesta v asfaltku a naopak
- ❹ symbol  vyznačuje úsek na kole s jízdný jen obtížně
- ❺ značka  označuje místo, kde je schována obálka s teoretickými otázkami; list s otázkami si vždy ponechte – slouží jako důkaz o projetí stanovištěm a za jeho předložení v cíli obdržíte body (první číslo); za správně zodpovězené otázky pak obdržíte také body (druhé číslo)
- ❻ značka  označuje místo, ke kterému je v textu kontrolní otázka, sloužící jako důkaz o projetí stanovištěm; číslo udává body za její správné zodpovězení
- ❼ maximální možný počet bodů je 400
- ❽ časový limit je 7 hodin; za každou minutu po vypršení limitu se odečítá jeden bod

## Trasa 2. etapy závodu

	0.0		START. Vydejte se směrem, ze kterého jste sem přijeli.	
	0.8		Křižovatka cest, u které je bílá směrovka. Vydejte se směrem k rozestavěnému domu.	
	1.4		Projeli jste závorou. Pokračujte dále.	
	2.2		Vpravo je oplocená plocha, uprostřed které je feromonový kůrovcový lapač. Kontrolní otázka: Jaké má evidenční číslo? Pokračujte doprava po značené turistické cestě.	15
	2.7		Křižovatka cest, u které je rozcestník. Pokračujte tou cestou, u které není turistická značka.	
	2.8		Vyjeli jste z lesa a vpravo je posed. Kontrolní otázka: Kolik příček má žebřík na posed? Pokračujte rovně – po cestě loukou dolů.	15
	3.2		Přijeli jste k domu č. 29. Pokračujte stále z kopce.	
	3.6		Přejeli jste most se zeleným zábradlím a dojeli na silnici. Po ní se vydejte směrem, ve kterém není telefonní budka.	
	4.8		Přijeli jste na hlavní silnici. Vydejte se směrem, do kterého je na ukazatelích před křižovatkou nižší kilometrický údaj.	
	5.7		Vpravo je u silnice pomník. Kontrolní otázka: V který den v týdnu zemřel Bohuslav Linhart? Pokračujte dále.	15
	6.9		V obci jste přijeli na křižovátku, před kterou jsou směrové ukazatele. Pokračujte směrem, do kterého ukazuje ukazatel s více cíli.	
	7.2		Vlevo je dřevěný můstek se zákazem vjezdu. Kontrolní otázka: Která instituce sídlí v domě jménem „Annelore“? Pokračujte dále.	10

8.2		Vlevo je dům č. 35 Kontrolní otázka: Kdo podle červené cedulky v domě přebývá? Pokračujte dále.	10
8.6		Asi 100 m za cedulí konce obce je vpravo malá bílá stavba. U ní hledejte obálku č. 1 s teoretickými otázkami. Pokračujte dále.	10+20
9.6		Minuli jste značku dvojitá zatáčka. Pokračujte dále.	
10.8		Před prudkou pravotočivou zatáčkou odbočujte doleva široká kamenitá cesta. Tou se vydejte.	
10.9		Přijeli jste na křižovatku cest, u které je strom s turistickou značkou. Vydejte se nejlevější cestou a pokračujte stále po stejném typu cesty (nikde z ní neodbočujte).	
11.9		Vlevo je feromonový kůrovcový lapač. Kontrolní otázka: V jakém intervalu je v lapači měněn odparník? Pokračujte dále.	10
12.0		Vpravo je posed. Kontrolní otázka: Kolik příček má žebřík na posed? Pokračujte dále.	15
12.6		Vpravo je další posed. Kontrolní otázka: Z kolika trámů je složena podlaha posedu? Pokračujte dále po značené turistické cestě.	15
 14.5		Přijeli jste na asfaltku. Naproti vám je rozcestník. Kontrolní otázka: Z jakého roku je nejstarší cedule na rozcestníku? Pokračujte po asfaltce z kopce.	10
15.3		Před značkou zákaz stání odbočte směrem k závoře.	
15.4		Vpravo je dřevěná bouda. Za ní hledejte obálku č. 2 s teoretickými otázkami. Pokračujte dále.	10+20
15.7		Vlevo je přes potok kláda. Pokračujte dále.	
16.6		Křižovatka cest. Neodbočujte doprava – pokračujte rovně.	
18.0		Vlevo je dřevěný můstek a pod ním měřidlo výšky hladiny. Kontrolní otázka: Jaká je maximální hodnota měřidla v cm? Pokračujte dále.	15
19.2		Vpravo je značka zákaz vjezdu motorovým vozidlům. Vy ale pokračujte směrem k závoře a za ní rovně.	
 21.2		Přejíždíte přes rozbitý dřevěný most. Kontrolní otázka: Kolik železných traverz ho podepírá? Pokračujte dále.	10
22.1		Přijeli jste na asfaltku. Vydejte se po ní do kopce.	
23.4		Za autobusovou zastávkou odbočujte hlavní silnice doprava. Kontrolní otázka: Jak se jmenuje konzum u křižovatky? Pokračujte směrem, do kterého bylo na směrovém ukazateli před křižovatkou „8“.	10

- 24.5  Vpravo je hned u silnice červeno-bílý pruhovaný sloupek.  
U něj hledejte obálku č. 3 s teoretickými otázkami. 10+20  
Pokračujte dále.
- 25.6  Vpravo je odbočka se zákazem vjezdu motorovým vozidlům.  
Kontrolní otázka: Jaké číslo je u červeného kříže, který se nachází u křižovatky? 10  
Pokračujte směrem k závoře.
- 27.9  Vpravo jste minuli osamocenou skálu a kousek za ní je vlevo rozcestník.  
Kontrolní otázka: Na směrové ceduli rozcestníku sečtěte všechny kilometrické údaje, vydělte je horním kilometrickým údajem a výsledek vynásobte spodním kilometrickým údajem. 10  
Pokračujte dále.
-  29.9  Přijeli jste k hlavní silnici. Vpravo před křižovatkou je elektrické zařízení.  
Kontrolní otázka: Jaké číslo je na vrátkách plechové skříňky na zařízení? 10  
Pokračujte doprava a po 100 m odbočte doleva na cestu k závoře.
- 31.8  Přijeli jste na křižovatku cest, u které je malý altánek se zelenou střechou.  
Kontrolní otázka: Z kolika svislých planěk je tvořen jeho obvodový plášť? 10  
Pokračujte po asfaltce doprava.
- 33.6 Projeli jste závorou a dojeli na silnici.  
Přejeďte ji a pokračujte po značené turistické cestě.
- 34.0 Přijeli jste na asfaltku. Vydejte se po ní doleva.
- 34.5 Projeli jste závorou a cesta se rozdvojuje.  
Nejezděte rovně – pokračujte doleva.
- 34.9  Přeješli jste most. Za ním se dejte doleva a dojeďte k rozcestníku.  
Kontrolní otázka: Kolik slov, která mají něco společného se stromem, se nachází na cedulích na rozcestníku? 10  
Pokračujte dále.
- 35.9 Projeli jste závorou a přijeli na hlavní silnici. Pokračujte rovně.
- 36.3 Před značkou hlavní silnice odbočujete značená turistická cesta doprava.  
Odbočte také.
- 36.7  Vlevo jste minuli krátké zábradlí a dojeli k druhému, delšímu zábradlí.  
U osamocенého stromu za zábradlím hledejte obálku č. 4 s teoretickými otázkami. 20+20  
Pokračujte dále.
-  37.0  500m Dojeli jste na asfaltku a následně na hlavní silnici.  
Vydejte se po ní směrem ke žlutému nápisu „10 km“ a pokračujte po hlavní silnici.
- 40.7  Přijeli jste do obce a vlevo je pomník s křížem.  
Kontrolní otázka: Jaký letopočet je uveden na pomníku? 10  
Pokračujte dále.
- 43.0 Přijeli jste do obce. Pokračujte dále.
- 43.8  Po krátkém stoupání odbočujete v levotočivé zatáčce doprava cesta.  
U jedné z bříz u odbočky hledejte obálku č. 5 s teoretickými otázkami. 10+20  
Odbočte na cestu.
- 43.9 Cesta se rozdvojuje. Pokračujte rovně (ne doprava).
- 44.0 Cesta se rozdvojuje. Pokračujte rovně (ne doleva).

- 44.6  Vlevo je bílý dům č. 36.  
Kontrolní otázka: Jak se tento dům jmenuje?  
Pokračujte dále. 15
- 44.8 Minuli jste značku zákaz vjezdu motorovým vozidlům. Pokračujte dále.
- 45.2 Doleva odbočujte cesta, vy ale pokračujte stále po stejném typu cesty.
-  46.0 U domu č. 94 jste přijeli na hlavní silnici.  
Pokračujte po ní z kopce.
- 47.7 Asi 100 m před cedulí konce obce je po pravé straně zrcadlo.  
U něj odbočte doprava a hned poté doleva podél oploceného pozemku.
- 48.5 Vpravo je hřbitov.  
 Kontrolní otázka: Kdy se narodila Klara Himml (zemřela 21.7.1968) ?  
Pokračujte dále. 15
- 48.6  Přijeli jste na hlavní silnici. Pokračujte doprava.
- 49.3  Projeli jste značenou křižovatku. Za ní odbočte doleva mezi prodejnu obuvi a drogerii.
- 49.6 U domu č. 774 odbočte doprava.
- 52.2 Minuli jste velkou cedulí s mapou. Asi 80 m za ní je rozcestí, na kterém odbočte doleva.
-  53.0 Přijeli jste k bílému domu s číslem 23. Zde je cíl 2. etapy.