














































Základní poučení

- ❶ není-li v textu uveden směr, vede trasa po hlavní silnici; pokud nelze určit průběh hlavní silnice, vede trasa rovně
- ❷ symbol  vyznačuje úsek, kde se jede stále po asfaltce
- ❸ symbol  vyznačuje cestu, případně úsek, kde se střídavě mění cesta v asfaltku a naopak
- ❹ symbol  vyznačuje úsek na kole s jízdný jen obtížně
- ❺ značka  označuje místo, kde je schována obálka s teoretickými otázkami; list s otázkami si vždy ponechte – slouží jako důkaz o projetí stanovištěm a za jeho předložení v cíli obdržíte body (první číslo); za správně zodpovězené otázky pak obdržíte také body (druhé číslo)
- ❻ značka  označuje místo, ke kterému je v textu kontrolní otázka, sloužící jako důkaz o projetí stanovištěm; číslo udává body za její správné zodpovězení
- ❼ maximální možný počet bodů je 320
- ❽ časový limit je 6 hodin; za každou minutu po vypršení limitu se odečítá jeden bod

Trasa 3. etapy závodu

	0.0		START. Vydejte se směrem, ze kterého jste sem přijeli.	
	0.8		Křižovatka cest, u které je bílá směrovka. Pokračujte směrem k velké ceduli s mapou.	
	3.4		Přejeli jste železniční přejezd a dojeli na křižovatku u domu č. 774. Vydejte se směrem k poště.	
	3.5		Jedete kolem potravin „Pelikán“. Za nimi odbočte doleva.	
	3.9		Dojeli jste na křižovatku, před kterou je stopka. Pokračujte směrem k vinárně, před ní se dejte doleva a na následující značené křižovatce, u které je zrcadlo, pokračujte rovně.	
	4.3		Vpravo je opravna karoserií s tabulí s telefonními čísly. Kontrolní otázka: Na jakého ze tří českých mobilních operátorů není na tabuli číslo? Pokračujte dále.	10
	6.5		Doleva odbočte cesta, u které je modrá cedule s nápisem „REMOPOL“. Kontrolní otázka: Který slovní druh je nejčastěji zastoupen v popisu činnosti firmy? Pokračujte dále.	10
	8.4		Vpravo je dům č. 56. Kontrolní otázka: Jaké číslo má bílý dům nad domem č. 56 ve stráni? Pokračujte dále.	10
	9.5		Vpravo je plot s velkými drátěnými oky. U prostředního dřevěného sloupku plotu hledejte obálku č. 1 s teoretickými otázkami. Pokračujte dále.	10+20
	10.0		Vlevo je strom s červeným křížem. Kontrolní otázka: Jaké číslo je u červeného kříže? Pokračujte dále.	10
	12.7		V obci jste u domu č. 141 přijeli k hlavní silnici. Kontrolní otázka: Jak se jmenuje zdejší starosta? Pokračujte směrem k poště.	10

13.4		Vlevo je bílá cedule a za ní odbočka se závorou. Kontrolní otázka: Kolik je na závoře červených pruhů? Pokračujte dále.	10
15.3		U autocentra jste přijeli na hlavní silnici. Pokračujte směrem k ceduli „Penny market“.	
15.5		Další křižovatka, kde dáváte přednost. Pokračujte po silnici, u které je značka zákaz zastavení.	
16.5		Projeli jste viaduktem a za ním se silnice rozdvouje. Kontrolní otázka: Jak se jmenuje čerpací stanice vlevo? Pokračujte doprava.	10
18.2		Asi 150 m za cedulí konce obce je vlevo sloup elektrického vedení s číslem 2. U něj hledejte obálku č. 2 s teoretickými otázkami. Pokračujte dále.	10+20
19.0		Vlevo je řada deseti garáží s hnědými vraty a červenými tabulkami. Kontrolní otázka: Sečtěte všechna čísla na červených tabulkách. Pokračujte dále.	10
 21.5		Přejeli jste železniční přejezd a vlevo je budova s nápisem „potraviný“. Kontrolní otázka: Kolikastupňové pivo má reklamu na budově? Pokračujte dále.	10
22.2		Značená křižovatka, na které dáváte přednost. Kontrolní otázka: Jak se jmenuje pizzerie u křižovatky? Pokračujte směrem k ceduli „Night Club“.	10
22.5		Přejeli jste most. Za ním se dejte směrem ke značce slepá ulice.	
22.8		Vpravo je dům č. 23 a asi 50 m za ním se cesta rozdvouje. Pokračujte do kopce směrem k rozestavěnému domu.	
23.1		U růžového domu č. 47 pokračujte rovně přes závoru se zákazem vjezdu.	
23.3		Vpravo je dřevěná lavička a po 4 m je vlevo pařez. U něj hledejte obálku č. 3 s teoretickými otázkami. Pokračujte dále po témže typu cesty a nikde z ní neodbočujte.	10+20
24.2		Po levé straně je jezírko a u něj dřevěná lavička. Kontrolní otázka: Kolika hřebíky je přitlučeno sedátko lavičky? Pokračujte dále.	10
24.6		Přijeli jste na rozcestí několika cest, u kterého je krmelec. Pokračujte stále po stejném typu cesty – doprava.	
25.7		Křižovatka cest, u které je dřevěná bouda s lavičkami a stolem. Kontrolní otázka: Kolik dřevěných trámů tvoří vrchní plochu stolu? Pokračujte po asfaltce do kopce.	10
 26.5		Vlevo je v lese dřevěná bouda. Kontrolní otázka: Kolika betonovými deskami je podepřený roh boudy u vstupních dveří? Pokračujte dále.	10
27.1		Křižovatka cest, u které je strom s písmenem „K“ a šipkou. Pokračujte po cestě doprava a z ní nikde neodbočujte.	

- 27.8  Po pravé straně je posed.
Kontrolní otázka: Kolik příček má žebřík na posed? 10
Pokračujte dále po značené turistické cestě.
- 29.7  Přijeli jste na asfaltku a dojeli k rozcestníku.
Kontrolní otázka: Kolik předložek se nachází na všech cedulích rozcestníku? 10
Pokračujte směrem, do kterého ukazuje cedule se součtem 6 km.
- 30.3 Na křižovatce u dalšího rozcestníku pokračujte do kopce.
-  31.7 Přijeli jste na značenou křižovatku, kde dáváte přednost.
Pokračujte tam, kam nesmějí nákladní vozidla nad 3,5 t.
- 33.6  Před prudkou levotočivou zatáčkou je vpravo pomník.
Kontrolní otázka: K jakému historickému období se pomník vztahuje? 10
Pokračujte dále.
- 34.1  Přejíždíte most.
Na konci levého svodidla hledejte obálku č. 4 s teoretickými otázkami. 10+20
Pokračujte dále.
- 35.5  Přijeli jste na křižovatku, kde dáváte přednost.
Kontrolní otázka: Jaký je součin všech čísel na směrových cedulích před křižovatkou? 10
Pokračujte směrem, do kterého je na směrové ceduli před křižovatkou více cílů.
- 36.4 Na značené křižovatce odbočte tam, kam nesmějí vozidla přepravující náklad, který může způsobit znečištění vody.
- 37.9  Míjíte značku dvojitá zatáčka a vpravo je modro-bíle pruhovaný sloupek s cedulkou.
Kontrolní otázka: Co bylo původně napsáno na cedulce? 10
Pokračujte dále.
- 38.5 Přijeli jste k hlavní silnici.
Pokračujte směrem, do kterého je na směrovém ukazateli před křižovatkou větší vzdálenost.
- 39.0  V obci jste přijeli na značenou křižovatku.
Pokračujte do slepé ulice a po 60 m odbočte vlevo do zákazu vjezdu nákladním vozidlům a jeďte stále rovně až na silnici.
- 39.2 Vrátili jste se na silnici. Vydejte se po ní doprava.
-  39.5  U cedule konce obce je vlevo sloupek s několika tabulkami.
Kontrolní otázka: Která cifra se na tabulkách vyskytuje nejčastěji? 10
Pokračujte dále.
- 41.6 Přijeli jste na křižovatku, kde dáváte přednost.
Pokračujte směrem, do kterého ukazuje šipka na stromě proti vám.
- 42.6   V obci jste přijeli na značenou křižovatku.
Kontrolní otázka: Jaký letopočet je uveden na transformátoru u křižovatky? 10
Odbočte doleva.
- 46.3 Vpravo je značka zákaz vjezdu. Odbočte k ceduli obce.
- 46.7 Křižovatka, kde dáváte přednost – pokračujte rovně.
- 47.4 Na křižovatce, před kterou je stopka, pokračujte směrem k autobusové zastávce.
-  48.9  CÍL – pohostinství U Doubku.