









































Základní poučení

- 1 není-li v textu uveden směr, vede trasa po hlavní silnici; pokud nelze určit průběh hlavní silnice, vede trasa rovně
- 2 symbol  vyznačuje úsek, kde se jede stále po asfaltce
- 3 symbol  vyznačuje cestu, případně úsek, kde se střídavě mění cesta v asfaltku a naopak
- 4 symbol  vyznačuje úsek na kole s jízdný jen obtížně
- 5 značka  označuje místo, kde je schována obálka s teoretickými otázkami: list s otázkami si vždy ponechte – slouží jako důkaz o projetí stanovištěm a za jeho předložení v cíli obdržíte body (první číslo); za správně zodpovězené otázky pak obdržíte také body (druhé číslo)
- 6 značka  označuje místo, ke kterému je v textu kontrolní otázka. sloužící jako důkaz o projetí stanovištěm; číslo udává body za její správné zodpovězení
- 7 maximální možný počet bodů je 460
- 8 časový limit je 8 hodin; za každou minutu po vypršení limitu se odečítá jeden bod

Trasa 1. etapy závodu

	0.0		START – Sokolov, u nádraží. Vydejte se směrem ke značce zákaz zastavení a jed'te po hlavní silnici.	
	0.4		Na světelné křižovatce se vydejte směrem, do kterého ukazuje směrová cedule s číslem 7.	
	1.5		Na značené křižovatce za cedulí obce odbočte doleva a pokračujte po hlavní silnici.	
	2.1		Přejeli jste železniční přejezd.	
			Kontrolní otázka: Jaká jídelna byla v Zelené ulici? Pokračujte dále.	15
	5.2		Značená křižovatka, před kterou jsou dva modré ukazatele. Na jednom je součet 14, na druhém 11. Pokračujte tím 14.	
	5.9		Vpravo je směrová cedule s jedním cílem a vedle ní je bílo-červeně pruhovaná tyč. Kontrolní otázka: Odhadněte průměr tyče v cm. Pokračujte dále po hlavní silnici.	10
	8.5		Vlevo je vysoký strom a u něj pomníček s dřevěnou ohrádkou. Kontrolní otázka: Kolik celých měsíců se dožil Jirí Hefrt? Pokračujte dále.	15
	8.9		Vlevo je bílá kaplička. Za ní hledejte obálku č. 1 s teoretickými otázkami. Pokračujte dále.	10+20
	10.0		Po pravé straně je velká budova s nápisem „Specializovaný velkoobchod s moravským vínem“. Kontrolní otázka: Jaká značka piva je na ceduli na této budově? Pokračujte dále.	15
	10.3		Za telefonní budkou je značená křižovatka. Pokračujte směrem, do kterého je na směrových cedulích před křižovatkou nižší součet.	
	11.1		Po pravé straně je šedá zídka se znakem Evropské unie. Kontrolní otázka: Jakou velikost klíče bychom potřebovali k odšroubování matek, kterými je přišroubována deska na zídce? Pokračujte dále.	15
	13.0		Značená křižovatka, před kterou je ukazatel s jedním cílem. Pokračujte dále.	

- 13.8  Vpravo je strom s papírem a na něm písmeno F.
 Kontrolní otázka: Kolik centimetrů je toto písmeno vysoké? 15
 Pokračujte dále.
- 15.4 Na konci obce je u silnice poštovní schránka.
 Kontrolní otázka: Jaké má číslo? 10
 Pokračujte dále.
- 16.4 Přijeli jste na značenou křižovatku.
 Pokračujte směrem, do kterého není značka jiné nebezpečí.
- 18.2 Přejeli jste most a dojeli na křižovatku, kde dáváte přednost.
 Dejte se směrem k autobusové zastávce a pokračujte po hlavní silnici.
- 18.9  Vlevo míjíte značku pozor námraza (pro protisměr).
 U ní hledejte obálku č. 2 s teoretickými otázkami. 10+40
 Pokračujte dále.
- 20.7 V obci je po levé straně plot, na jehož tyčích jsou různá gumová zvířátka.
 Pokračujte dále.
- 21.2   Přijeli jste na značenou křižovatku, u které je hospoda a autobusová zastávka.
 Kontrolní otázka: Kolik v této hospodě stojí 10° Gambrinus? 15
 Pokračujte směrem, do kterého je na ukazatelích před křižovatkou jen jeden cíl.
- 23.5  Před koncem obce je po levé straně dům s dřevěným červeným plotem.
 Kontrolní otázka: S kolika svislých dřevěných planěk se plot skládá (včetně vrátek)? 15
 Pokračujte dále.
- 24.4 V obci jste přijeli na křižovatku, kde dáváte přednost.
 Dejte se doprava a na následující křižovatce po 50 m odbočte vlevo.
- 26.9  Před koncem obce je po levé straně štít se znakem Gambrinus a u něj hospoda.
 Kontrolní otázka: Jakou značku televize mají v hospodě v hlavní místnosti? 15
 Pokračujte dále.
- 27.5  Po pravé straně jsou dva oranžovo-bílé pruhované sloupky.
 U jednoho z nich hledejte obálku č. 3 s teoretickými otázkami. 10+20
 Pokračujte dále.
- 28.5 Přijeli jste k hlavní silnici.
 Dejte se směrem do obce a na křižovatce za cedulí obce pokračujte směrem na „jatka“.
- 28.7  Za koncem obce pokračujte směr „masna“.
- 30.0  Doprava odbočuje cesta, u které je cedule „pozemek na prodej“ a na ní nakreslený domeček.
 Kontrolní otázka: Kolik svislých žlutých pruhů je nakresleno na střeše domečku? 15
 Pokračujte dále.
- 30.9  V obci jste přijeli na křižovatku, kde dáváte přednost. Pokračujte k mostu se značkou zákaz vjezdu vozidlům nad 20 tun a hned za ním se dejte do zákazu vjezdu. 15
 Kontrolní otázka: Kolik minut denně tento zákaz vjezdu platí?
- 32.3 Křižovatka, u které je cedule obce. Vy ale pokračujte silnicí, která do obce nevede.
- 34.0  Vlevo jste minuli rozestavěný dům a za ním následuje pozemek s dřevěným plotem.
 Kontrolní otázka: Jaká zvířata se ještě nacházejí na tomto pozemku kromě slepic a krůt? 15
 Na následující křižovatce se dejte doprava a následně doleva.

- 🕒 36.9  Po pravé straně je značka konec hlavní silnice.
U ní hledejte obálku č. 4 s teoretickými otázkami. 10+20
Až přijedete k hlavní silnici, přejeďte ji a za ní se dejte vlevo.
- 37.2  Vpravo je malá oranžová budova.
Kontrolní otázka: Kolik °C je maximální hodnota na stupnici teploměru? 15
Pokračujte rovně (ne ke značce dejte přednost v jízdě).
- 40.0  Po pravé straně je ve svahu malá bílá stavba s křížkem a po 50 m silnici lemují bílo-červeně pruhované zábradlí.
Kontrolní otázka: Jaká je vzdálenost mezi prostředními vodorovnými tyčemi zábradlí? 15
Pokračujte dále.
- 42.0  Po levé straně je čistička odpadních vod, kolem které je plot.
Kontrolní otázka: Kolik svislých sloupků tento plot tvoří (sloupky v bráně nepočítejte)? 15
Pokračujte dále.
- 42.4  Po pravé straně je fotbalové hřiště.
Kontrolní otázka: Jakou maximální rychlostí můžete jet v těchto místech podle předpisů? 15
Pokračujte dále.
- 42.5  Přijeli jste na křižovatku. Vpravo je značka zákaz vjezdu nákladním vozidlům, vlevo most.
Vydejte se přes most. Za ním je křižovatka, kde dáváte přednost. Zde se dejte směrem ke značce zákaz vjezdu vozidlům nad 6 t.
- 🕒 44.5  Projeli jste viaduktem.
 Kontrolní otázka: Kolik kolejná trať vede po viaduktu? 15
Pokračujte dále.
- 46.4  Po levé straně je bílo-černě pruhované zábradlí.
U jeho začátku hledejte obálku č. 5 s teoretickými otázkami. 10+20
Pokračujte dále.
- 46.9 Značená křižovatka. Pokračujte k ceduli obce.
- 47.3  Další značená křižovatka. Hlavní silnice odbočuje doprava.
Kontrolní otázka: Jaké značky je satelitní anténa na domu u křižovatky? 15
Vydejte se z kopce doleva.
- 🕒 50.4 Přijeli jste do civilizace. Na první křižovatce se dejte k hnědému zábradlí a dojeďte k hlavní silnici. Na ní se dejte směrem k autolakům.
- 51.0  Na křižovatce u GLASS studia odbočte doleva.
- 52.5  Po pravé straně je stánek s nápisem „Rychlé občerstvení“.
Kontrolní otázka: Kolik stojí ve stánku 0,2 litrů Fanty? 15
Na následující křižovatce pokračujte rovně (ne doleva).
- 52.9 Kousek za koncem obce jste přijeli na značenou křižovatku.
Pokračujte směrem s vyšším kilometrickým údajem na směrovém ukazateli.
- 54.7 Křižovatka, kde dáváte přednost. Pokračujte rovně.
- 56.2  Přijeli jste most se zákazem vjezdu vozidel nad 20 tun. Pokračujte dále.
- 57.6 Přijeli jste do obce. Až po pravé straně minete zrcadlo, tak za ním odbočte do obytné zóny.
- 58.3 Přijeli jste k hlavní silnici. Přejeďte ji a za ní se dejte do oploceného areálu. Zde je cíl 1. etapy.
- 🕒 58.5 **CÍL.**