













































Základní poučení

- ❶ není-li v textu uveden směr, vede trasa po hlavní silnici; pokud nelze určit průběh hlavní silnice, vede trasa rovně
- ❷ symbol  vyznačuje úsek, kde se jede stále po asfaltce
- ❸ symbol  vyznačuje cestu, případně úsek, kde se střídavě mění cesta v asfaltku a naopak
- ❹ symbol  vyznačuje úsek na kole s jízdný jen obtížně
- ❺ značka  označuje místo, kde je schována obálka s teoretickými otázkami: list s otázkami si vždy ponechte – slouží jako důkaz o projetí stanovištěm a za jeho předložení v cíli obdržíte body (první číslo); za správně zodpovězené otázky pak obdržíte také body (druhé číslo)
- ❻ značka  označuje místo, ke kterému je v textu kontrolní otázka. sloužící jako důkaz o projetí stanovištěm; číslo udává body za její správné zodpovězení
- ❼ maximální možný počet bodů je 320
- ❽ časový limit je 6 hodin; za každou minutu po vypršení limitu se odečítá jeden bod

Trasa 2. etapy závodu

	0.0		START. Vydejte se směrem, ze kterého jste sem včera přijeli – přes hlavní silnici a rovně k ceduli obce.	
	0.5		Vyjeli jste z obytné zóny a dojeli na křižovatku. Pokračujte směrem ke značce zákaz zastavení.	
	2.1		Po levé straně je hospoda U březího vlka. Kontrolní otázka: Kolik zde stojí pečené koleno s hořčicí a křenem? Pokračujte dále.	10
	2.3		Za cedulí konce obce se dejte do zákazu vjezdu nákladním vozidlům.	
	2.6		Míjíte značku zákaz vjezdu motorovým vozidlům a vpravo je bílo-červený sloupek s cedulkou. Kontrolní otázka: Ce je na cedulce kromě slov „poškození se trestá“ napsáno? Pokračujte dále.	10
	3.2		Dojeli jste na křižovatku cest, u které je žlutá cedulka s číslem „IV“. Pokračujte doprava. Hned za křižovatkou je vpravo strom s cedulí „památný strom“. Kontrolní otázka: Co je to za strom?	10
	4.0		Po pravé straně je zelená maringotka a na ní je nastříkáno 5 velkých černých číslic. Kontrolní otázka: Jaký je jejich součin? Pokračujte dále.	10
	5.8		Projeli jste závorou a dojeli na křižovatku, u které je žlutý dům se zelenou střechou. Pokračujte směrem ke včelím úlům. Kontrolní otázka: Otvory, kterými včely vylétávají ven jsou různě barevné. Jakou barvu mají nejčastěji?	10
	8.0		Asfaltka se pomalu změnila na prašnou cestu. Pokračujte dále a po 250 m odbočte směrem k posedu.	
	8.3		Přijeli jste k posedu. Kontrolní otázka: Kolik příček má žebřík na posed? Pokračujte dále.	10
	8.7		Přijeli jste na křižovatku, u které je rozcestník. Pokračujte po asfaltce z kopce.	

- 9.1  Přijeli jste na hlavní silnici.
U značky dej přednost v jízdě hledejte obálku č. 1 s teoretickými otázkami. 10+20
Vydejte se po silnici do směru, ve kterém není značka zákaz stání.
- 10.6   Po pravé straně je autobusová zastávka a osamocený dům.
Kontrolní otázka: Jaké má tento dům číslo? 10
Pokračujte dále.
- 12.9  Po pravé straně je bílo-černě pruhované zábradlí a za ním závora.
Kontrolní otázka: Jaký úhel (ve stupních) svírá závora se zábradlím? 10
Na následné křižovatce pokračujte tam, kam směřuje ukazatel s vyšším kilometrickým údajem.
- 13.3  Těsně před koncem obce odbočte doleva.
- 13.4  Po pravé straně je parkoviště.
Kontrolní otázka: Kolik je zde namalováno bílých čar, které vymezují místa ke stání? 10
Pokračujte do zákazu vjezdu motorovým vozidlům.
- 14.5 Na křižovatce, u které je černý kříž, pokračujte rovně.
- 14.6  Křižovatka, u které je rozcestník.
Kontrolní otázka: Sečtěte všechny kilometrické údaje na rozcestníku. 10
Pokračujte směrem, do kterého ukazuje nejnižší směrovka na rozcestníku.
- 18.3  U domu č. 161 jste dojeli na křižovatku.
Kontrolní otázka: Jak se jmenuje obyvatel tohoto domu? 10
Pokračujte směrem k ceduli konce obce.
- 18.5  Po levé straně je tabule s textem o památném stromu a vpravo je dřevěný sloup.
U sloupu hledejte obálku č. 2 s teoretickými otázkami. 10+20
Pokračujte dále.
- 19.9   Vpravo je malá bílá kaplička s červenou stříškou.
Kontrolní otázka: Kdyby se řádek se dvěma letopočty na mramorové desce na kapličce vzal jako matematická operace, jaký by byl výsledek? 10
Pokračujte dále.
- 26.0  Přijeli jste na křižovatku, kde dáváte přednost.
Kontrolní otázka: Jaké dostanete číslo, když na směrových ukazatelích před křižovatkou vezmete nejvyšší číslo, odečtete od něj číslo pod ním, výsledek vydělíte nejnižším číslem na ukazatelích a výsledek vynásobíte zbylým čtvrtým číslem? 10
Pokračujte směrem k autobusové zastávce.
- 27.4  Po pravé straně je červená plechová skříňka.
U ní hledejte obálku č. 3 s teoretickými otázkami. 10+20
Pokračujte dále.
- 27.9   Vlevo je kostel a vpravo autobusová zastávka.
Kontrolní otázka: V kolik hodin jede dnes z této zastávky poslední autobus? 10
Odbočte a pokračujte po cestě kolem domu č. 52.
- 28.6  Asfaltka se změnila na prašnou cestu. Pokračujte dále.
- 30.6 Přijeli jste na křižovatku, u které je vlevo sloup elektrického vedení, ke kterému už ale žádné dráty nevedou. Odbočte doleva a po 50 m pokračujte rovně.
- 30.7  Vpravo je dům č. 77.
Kontrolní otázka: Jakou barvu má dětská skluzavka na dvoře u domu? 10
Pokračujte dále

- 32.6  Přijeli jste na křižovatku, kde dáváte přednost.
Kontrolní otázka: Jaké barvy má v logu firma, která vyrobila dopravní značku dej přednost v jízdě před křižovatkou? 10
Pokračujte do kopce.
-  35.0  Vyjeli jste na kopec a po pravé straně je vysoký sloup elektrického vedení s číslem 11.
Kontrolní otázka: Jaké číslo má nejbližší sloup po levé straně? 10
Pokračujte dále.
- 35.9  Vpravo je u silnice dřevěný sloup.
U něj hledejte obálku č. 4 s teoretickými otázkami. 10+20
Pokračujte dále.
- 37.6  Přijeli jste na křižovatku, kde dáváte přednost.
Kontrolní otázka: Jaký je součet všech čísel na směrových ukazatelích před křižovatkou? 10
Pokračujte směrem, do kterého směřuje ukazatel s jedním cílem.
- 38.1  Vpravo je značka zákaz vjezdu motorovým vozidlům a rozcestník.
Kontrolní otázka: Kolik souhlásek se nachází na směrovkách rozcestníku? 10
Pokračujte dále.
- 41.1  Vpravo je na stromě u silnice velká cedule s modrou šipkou a nápisem „Hotel Vítkov“.
Kontrolní otázka: Jaký je rozdíl mezi telefonním a faxovým číslem na ceduli? 10
Pokračujte dále.
- 44.7 Vlevo jste minuli čerpací stanici.
Za ní odbočte do zákazu vjezdu nákladním vozidlům.
- 45.1 Odbočte doleva – opět do zákazu vjezdu nákladním vozidlům.
-  45.2  CÍL – Sokolov, restaurace Hamburg.