






























## Základní poučení

- není-li v textu uveden směr, vede trasa po hlavní silnici; pokud jedete po vedlejší silnici nebo křižovatka není nijak značena, vede trasa rovně
- symbol  vyznačuje úsek, kde se jede stále po asfaltce
- symbol  vyznačuje cestu, případně úsek, kde se střídavě mění cesta v asfaltku a naopak
- symbol  vyznačuje úsek na kole sjízdný jen obtížně
- značka  označuje místo, kde je schována obálka s teoretickými otázkami: list s otázkami si vždy ponechte – slouží jako důkaz o projetí stanovištěm a za jeho předložení v cíli obdržíte body (první číslo); za správně zodpovězené otázky pak obdržíte také body (druhé číslo)
- značka  označuje místo, ke kterému je v textu kontrolní otázka. sloužící jako důkaz o projetí stanovištěm; číslo udává body za její správné zodpovězení
- maximální možný počet bodů je 420 (390 otázky + 30 zvláštní úkol)
- časový limit je 8 hodin; za každou minutu po vypršení limitu se odečítá jeden bod

## Trasa 1. etapy závodu

	0.0		START - Toužim, náměstí. Vydejte se směrem k ceduli „TEXTIL OBUV SPODNÍ PRÁDLO“ a na křižovatce po 70 m pokračujte ke značce zákaz zastavení.	
	0.3		Hlavní silnice odbočuje doleva. Pokračujte směrem, do kterého je na směrových cedulích před křižovatkou nejvyšší km údaj.	
	0.9		Vyjeli jste z obce. V následujícím úseku asi 250 m podjedete několik drátů elektrického vedení. Kolik jednotlivých drátů jste podjeli? (samostatný drát hned za cedulí konce obce nepočítejte)	15
	3.4		Míjíte značku dvojitá zatáčka - první vlevo s dodatkovou tabulkou. Co tato dodatková tabulka znamená?	10
	5.2		V prudkém stoupání jste přijeli do obce. Na křižovatce za cedulí obce se dejte směrem k zábradlí.	
	6.4		Přijeli jste ke značce stůj - dej přednost v jízdě. Co znamená po pravé straně značka s jedním symbolem a číslem 50?	10
	7.9		Na křižovatce u domu č. 27 pokračujte do kopce.	
	9.4		Vpravo je u silnice nízká červeno-bíle pruhovaná tyč. U ní hledejte obálku č. 1 s teoretickými otázkami.	0+20
	11.0		U cedule konce obce je vpravo dřevěný stůl s lavičkami. Jaký letopočet je na domu vedle?	10
	12.1		Přijeli jste do obce a dojeli na křižovatku. Pokračujte k autobusové zastávce.	
	15.0		V obci je po levé straně zrcadlo. Kolik červených proužků je na obvodu zrcadla?	15
	15.4		Přijeli jste na křižovatku, kde dáváte přednost. Pokračujte k požární zbrojnici.	
	15.8		U rybníka pokračujte po stejné asfaltce (ne vpravo).	
	17.3		Kousek před obcí je vlevo u silnice kamenný pomník s křížem. Jaký je na něm letopočet?	15

18.2		Asi 200 m za cedulí konce obce odbočuje doleva cesta se zákazem vjezdu motorovým vozidlům. U zákazu hledejte obálku č. 2 s teoretickými otázkami. Do zákazu se vydejte a z této cesty nikde neodbočujte.	10+20
20.4		Sjíždíte z kopce a vlevo je dřevěný krmelec. Na jeho zadní straně je cedulka s textem. Co se má podle této cedulky najít v okolí tří křížů?	15
20.9		Z kamenité cesty, po které jedete, odbočuje značená turistická cesta. Vydejte se po ní.	
21.2		Vyjeli jste z lesa. Pokračujte levou cestou.	
 21.7		Přijeli jste k rozcestníku a na asfaltku. Sečtěte všechny kilometrické údaje na rozcestníku. Pokračujte směrem, ve kterém není vidět cedule obce, a dále po hlavní silnici.	10
24.9		V obci jste přijeli na křižovatku, kde dáváte přednost. Vydejte se opačným směrem, než ve kterém je vidět značka zúžená vozovka.	
25.0		Vpravo je zelená kaplička. Jaký nápis je napsaný na bílé dečce uvnitř kapličky přímo proti vchodu?	10
26.2		100 m za značkou zatáčka vlevo je odbočka, u které je kamenný pomník. U něj hledejte obálku č. 3 s teoretickými otázkami. Pokračujte po silnici.	10+20
27.4		Za autobusovou zastávkou odbočte doprava.	
27.5		Míjíte závoru. Z kolika řad cihel je složen nejvyšší komín na bílém domě vpravo?	15
 28.6		Přijeli jste na větší křižovatku cest a vlevo je cedule s textem „Lesní cesta, vjezd zakázán“. Pokračujte rovně.	
31.3		Vlevo je přístřešek se stolem a dvěma lavičkami. Kolik prken tvoří desku stolu?	10
32.7		Přijeli jste na křižovatku, kde dáváte přednost. Pokračujte k zrcadlu a u něj rovně.	
32.8		Po levé straně je hospoda a naproti ní dům se zeleným nápisem na okně „nově otevřeno“. Kolik dní již uplynulo od datumu zde uvedeného? Pokračujte dále po hlavní silnici.	15
 34.6		Vpravo je u silnice oranžová schránka. Jaké telefonní číslo máte volat?	10
36.7		Přijeli jste na křižovatku, kde dáváte přednost. U křižovatky je zrcadlo. Pokračujte směrem, ve kterém není vidět autobusová zastávka.	
37.0		Minuli jste hospodu a dojeli na křižovatku, kde hlavní silnice odbočuje doprava. Pokračujte směrem, do kterého je součet kilometrických údajů 17.	
38.6		Sjeli jste z kopce a dojeli k rozcestníku. Jaký je součet kilometrických údajů na všech směrovkách na rozcestníku?	15
38.7		Křižovatka, u které je cedule přírodního parku. U cedule hledejte obálku č. 4 s teoretickými otázkami. Odbočte do směru, kam ukazuje jediný modrý ukazatel před křižovatkou.	10+20

- 40.1  Vpravo je poštovní schránka.  
 V kolik hodin má být v pondělí vybrána? 10  
 Pokračujte rovně kolem EKOFARMY a držte se značené turistické cesty.
- 41.6   Vyjeli jste z lesa a dojeli k dřevěnému přístřešku se stolem a lavičkami.  
 Z kolika usedlostí se v roce 1838 skládala zdejší samota? 15  
 Pokračujte rovně.
- 42.6 Přijeli jste na asfaltku.  
 Pokračujte po ní směrem, ve kterém není vidět transformátor.
- 42.9 Na značené křižovatce na konci obce pokračujte směrem k autobusové zastávce.
- 45.7  V obci jste přijeli na křižovatku, kde dáváte přednost. U křižovatky je rybník.  
 Kolik červených pruhů je na zábradlí kolem rybníku? 15  
 Pokračujte směrem, ve kterém je vidět značka jiné nebezpečí.
- 46.0  U domu č. 67 se dejte doprava.
- 47.7 Vpravo je hned u silnice bílý dům.  
 Na rozcestí za ním pokračujte směrem, do kterého jsou na žlutých směrovkách před křižovatkou vyšší kilometrické údaje.
- 49.0  Přijeli jste do obce a na asfaltku.  
 Jakou barvu má fasáda domu č. 48? 10
- 49.8   Přijeli jste na křižovatku, kde dáváte přednost.  
 Za budoucí autobusové zastávky hledejte obálku č. 5 s teoretickými otázkami. 10+20  
 Pokračujte směrem, do kterého je na směrovém ukazateli před křižovatkou vyšší kilometrický údaj.
- 52.4  V obci je vpravo rybník a vlevo hospoda. Před rybníkem je informační tabule.  
 Kdo podle této tabule zemřel v roce 1556? 15  
 Pokračujte dále a za domem č. 9 odbočte tam, kam nesmějí traktory a nákladní vozidla.
- 54.2 Přijeli jste na křižovatku.  
 Pokračujte směrem, ve kterém není vidět cedule obce, a na křižovatce po 50 m odbočte doleva a pokračujte podle žlutých cedulek se symbolem kola.
- 54.9  Vlevo je u cesty posed.  
 Kolik příček má žebřík na posed? 10
- 57.6 Vyjeli jste z lesa a přijeli k silnici.  
 Vydejte se směrem ke značce slepá ulice. Asfaltka vás dovede přímo k bráně kempu, kde je cíl 1. etapy.
-  58.9  CÍL.