











**Základní poučení**

- není-li v textu uveden směr, vede trasa po hlavní silnici; pokud jedete po vedlejší silnici nebo křižovatka není nijak značena, vede trasa rovně
- symbol  vyznačuje úsek, kde se jede stále po asfaltce
- symbol  vyznačuje cestu, případně úsek, kde se střídavě mění cesta v asfaltku a naopak
- symbol  vyznačuje úsek na kole sjízdný jen obtížně
- značka  označuje místo, kde je schována obálka s teoretickými otázkami; list s otázkami si vždy ponechte – slouží jako důkaz o projetí stanovištěm a za jeho předložení v cíli obdržíte body (první číslo); za správně zodpovězené otázky pak obdržíte také body (druhé číslo)
- značka  označuje místo, ke kterému je v textu kontrolní otázka, sloužící jako důkaz o projetí stanovištěm; číslo udává body za její správné zodpovězení
- maximální možný počet bodů je 430
- časový limit je 9 hodin; za každou minutu po vypršení limitu se odečítá jeden bod
- čas uvedený v rámečku úplně vlevo je přibližný a platí pro družstvo, které startuje jako první; pokud je čas uveden, nachází se v blízkosti restaurační zařízení, které však v době průjezdu nemusí mít otevřeno

10:00	0,0	 START - Hostivice nádraží ČD Vydejte se ulicí pojmenovanou po zaměstnancích drah na východ.	
10:00	0,2	Před dopravní značkou s doplňkovou tabulkou obsahující text "200 m" odbočte k dopravní značce "Dej přednost v jízdě" a dále pokračujte kolem sokolovny.	
10:00	0,4	Přijeli jste k silnici, kde dáváte přednost, pokračujte k zrcadlu do jednosměrné ulice.	
	0,6	 Přijeli jste k telefonní budce, jaké má telefonní číslo? Pokračujte podél zábradlí.	10
	1,1	Před zastávkou autobusu odbočte z hlavní silnice doleva směrem ke kontejnerům tříděného odpadu.	
	1,5	Pokračujte ke kontejnerům tříděného odpadu.	
	1,7	Hlavní silnice pokračuje doleva, vy ale pokračujte rovně a dále po značené stezce pro cyklisty.	
	2,9	Přijeli jste ke křižovatce, kde dáváte přednost, pokračujte do kopce.	
	3,4	Opustili jste zónu omezené rychlosti, asfaltka zatáčí doleva, vy ale pokračujte rovně a dále přes závoru do kopce.	
	3,8	Vpravo je betonový zátaras a za ním pokračuje asfaltka, vydejte se po ní.	
	4,0	Asfaltka je přerušena překážkou, překonejte ji po souběžné cestě po levé straně, po zhruba 200 metrech asfaltka pokračuje. Asfaltka je pak ještě 2x na několik metrů přerušena držte se stejného směru jako asfaltka.	
	5,2	Přijeli jste na křižovatku tvaru písmene T, pokračujte do kopce.	
	5,4	Přijeli jste k závoře. Pokračujte vlevo.	
10:30	6,3	Přijeli jste na křižovatku, kde dáváte přednost, pokračujte na protilehlý chodník a dále dolů po rampě se zábradlím. Pokračujte jednosměrnou ulicí kolem vodní nádrže.	
	6,6	Přijeli jste na křižovatku, kde dáváte přednost. Pokračujte rovně.	
	7,7	Pokračujte po hlavní silnici a zároveň značené cyklotrase.	
10:45	8,0	 Držte se značené cyklotrasy	
	8,6	 Po pravé straně míjíte zastávku PID. Jakou hodnotu jízdenky v Kč si musí označit dospělý pro cestu na vzdálenější konečnou této linky?  Pokračujte po značené cyklotrase.	15

- 9,4  Přejeli jste železniční přejezd. Co znamenají černá čísla na bílém patníku po levé straně? 15
- 10,0 Míjíte kapličku a památník, pokračujte do kopce a na další křižovatce rovně.
- 11,5 Přejeli jste k hlavní silnici, pokračujte směrem, kde je součet km údajů před křižovatkou 22.
- 13,0  Po pravé straně je značka s doplňkovou tabulkou, která obsahuje číslici 4, u ní hledejte obálku číslo 1 s teoretickými otázkami. 10+30
- 13,8 Přejeli jste k hlavní silnici, pokračujte směrem ke kompostárně.
- 11:30 14,1 Kompostárna odbočuje, vy pokračujte po hlavní.
- 14,6 Křižovatka; pokračujte tam, kde by mohla být osoba, která připravuje pokrmy.
- 11:45 16,4 Na křižovatce pokračujte po značené cyklotrase.
- 17,2  Po pravé straně je velká žlutá cedule na modrých sloupech. Uvedte značky čtyř chemických prvků, které se zde podle informací na ceduli prodávají. 15
- 18,0 Dojeli jste na křižovatku, pokračujte do zákazu vjezdu nákladních vozidel.
- 19,0 Křižovatka; cyklotrasa pokračuje vlevo, vy ale odbočte doprava.
- 20,8 Na křižovatce pokračujte do kopce.
- 21,2 Křižovatka a u ní křížek. Pokračujte po vedlejší silnici.
- 23,1 Minuli jste značku zákaz zastavení, po přibližně 50 m vpravo odbočuje pěšina. Vydejte se po ní.
- 23,5  Výstražná cedule. Podle kterého paragrafu kterého zákona by mohlo být posuzováno porušení zákazu vstupu na pozemek? 10
- 23,6 Zastávka PID, vraťte se na asfaltku a pokračujte z kopce.
- 24,7 Křižovatka; pokračujte směrem, kde je součet km údajů na rozcestníku před křižovatkou 18.
- 25,1 Křižovatka; pokračujte po značené cyklotrase.
- 26,5  Po pravé straně je betonový zátaras, na jeho konci hledejte obálku číslo 2 s teoretickými otázkami. 10+25
- 13:15 29,0 Dále není dovolena jízda na kole, uposlechněte značení a kola ved'te!
- 29,3 **Možnost zkrácení trasy**  
Zde si můžete trasu zkrátit o 23 km. Přijdete ovšem o krásné výhledy, projíždku pěknou krajinou, dvě obálky s otázkami a spoustu kontrolních otázek, konkrétně celkem 215 bodů. Pokud se přesto rozhodnete pro zkrácení trasy, pokračujte podle speciálního listu s nadpisem ZKRATKA. Pokud jste se rozhodli projet trasu celou, pokračujte podle následujících pokynů.
- 29,3 Na křižovatce se vydejte doleva, vzhůru do kopce.
- 29,5 V zatáčce odbočuje doprava turistická značená cesta. Vydejte se po žluté do kopce.
- 30,1  Kdo postavil křížek? 10
- 31,0 Dojeli jste k silnici, dejte se po ní doprava.

- 31,9 Na křižovatce pokračujte stále po stejné turistické trase.
- 13:45 32,1  Kde stojí černý kůň? 10  
Sledujte stále stejnou turistickou trasu, i když vás zavede mimo silnici.
- 32,4 Na křižovatce tvaru T za lávkou se vydejte po horší cestě, do zatáčky a k nejbližšímu jezu. (Nezajíždějte do CHKO.)
- 33,0 Přijeli jste na asfaltku, dejte se do kopce.
- 13:45 33,1 Přijeli jste na návěs k hlavní silnici, pokračujte rovně.
- 33,2 Na křižovatce, kde dáváte přednost, odbočte vlevo a uhánějte jako Šemík. Za mostem odbočte hned doprava a jedte podél potoka.
- 34,0 Cesta se od potoka odklání, pokračujte po značené cyklotrase.
- 34,2 Stále po cyklotrase (k hájku).
- 35,3  Silnici křižuje vedení elektřiny o napětí 22 kV. Po pravé straně u kamenů hledejte obálku číslo 10+30 3 s teoretickými otázkami..
- 36,3  Podjíždíte vedení ještě vyššího napětí. Jaké číslo má stožár po pravé straně? 10
- 37,1  Po pravé straně je památník našemu vůdci. Co je to za strom, který mu poskytuje stín? 10
- 37,6 Pokračujte po značené cyklotrase s vyšším číslem.
- 38,4 Za dopravní značkou označující začátek obce odbočte před začátkem kaštanové aleje ze silnice doprava.
- 39,1 Přijeli jste k hlavní silnici, pokračujte směrem ke G.
- 14:30 39,3 Za hospodou pokračujte rovně (do menšího kopce) a přes potok do kopce.
- 39,7 Dojeli jste k neveřejné lesní cestě. Pokračujte po ní stále vzhůru.
- 41,4 Stále rovně po cyklotrase.
- 42,2 Pokračujte po stále stejné cyklotrase do kopce.
- 42,9  Kolik šroubů bylo použito na montáž informační tabule? 15  
Vydejte se po jezdecké stezce ve směru nižšího součtu kilometrických údajů.
- 44,5 Cesta se rozdvojuje, držte se vpravo a na další křižovatce doleva.
- 44,9  Přímo před vámi je zeď. Jedno pole je napůl ze dřeva a napůl z betonu. Kolik je dřevěných vodorovných součástí tohoto pole? 10  
Pokračujte po asfaltové cestě na severovýchod a na nejbližší křižovatce doleva.
- 45,5 Držte se vlevo.
- 45,6  Po pravé straně je posed. Jak je dlouhá nejdelší půlkulatina, ze které je vyrobena lavička posedu? 15
- 45,9 Na křižovatce tvaru T pokračujte doleva až k oblíbené ohradě, objíždějte ji po cestě zprava.
- 46,9 Přijeli jste na asfaltku, dejte se do kopce.

- 49,6 Na křižovatce jedte z kopce po značené turistické trase.
- 50,6  Jaké číslo má cyklotrasa, po které jedete? 10
- 51,1 Značená turistická trasa pokračuje na křižovatce rovně, vy pokračujte po cestě stejného typu.
- 51,7 Za závorou pokračujte po značené cyklotrase.
- 52,9 Na křižovatce, kde dáváte přednost, jedte směrem do hlavního města.
- 53,5 Na následující křižovatce jedte směrem k hospodě Na růžku.
- 16:15 54,8  Odbočte z hlavní silnice směrem k obecnímu úřadu a dále se držte hlavní silnice. Kam jeli místní zahrádkáři před týdnem na zájezd? 10
- 55,7 Na značené křižovatce na konci obce jedte směrem do chráněné krajinné oblasti.
- 56,0  Vpravo na obzoru se tyčí vysoký bílý objekt. Jak je daleko? 15
- 56,1  U křížku na levé straně silnice hledejte obálku číslo 4 s teoretickými otázkami.. 10+25
- 58,2 U kapličky v obci pokračujte po hlavní.
- 58,3  Po pravé straně jsou modré schránky. Kolik jich je? 10  
Pokračujte po značené turistické trase.
- 58,8 Na obzoru na pravé straně se tyčí objekt na kopci. K čemu slouží?
- 59,2  Přijeli jste k silnici, přejeďte ji a pokračujte rovně.
- Kolik kilometrů trasy vás dělí od výrazné historické stavby na severovýchodě? 15
- 59,8 Dorazili jste k plotu se zákazem vstupu, cesta pokračuje tam, vy tam radši nevstupujte a pokračujte po turistické značce.
- 60,1 Na silnici se dejte doleva.
- 60,7 Pokračujte do kopce a na křižovatce tvaru T za závorou opět.
- 62,7 Cca 20 m za cedulí s otevírací dobou blízkého turistického cíle odbočte doprava přes louku.
- 62,9 Před cedulí přírodní rezervace se cesta rozdvojuje, jedte doleva a ze značené pěšiny nikde neodbočujte.
- 63,4 Přijeli jste na prostranství s další cedulí se lvem. Dejte se nejpravější cestou.
- Konec zkratky**

Zde končí zkratka. Nyní pokračujte do cíle podle pokynů společných pro všechny. V závorce je uveden stav kilometrů, jak by měl být na vašem tachometru po projetí zkratky.

- (40,5) 63,5  Které druhy zvířat z poslední doby meziledové se zde vyskytovaly? 10  
Vraťte se zatměným úsekem zpět na prostranství a odjeďte z něj po nejlepší cestě.
- (40,9) 63,9 Přijeli jste k silnici, dejte se po ní do kopce.
- (42,5) 65,5 Na křižovatce neobvyklého tvaru se držte vpravo a pokračujte ve směru sídla jedné z dcer praotce Čecha. (Na případné značené objížďky nedbejte.)

		✉	Po pravé straně za křižovatkou jsou dva sloupy s bílými pruhy. Zde hledejte obálku číslo 5 s teoretickými otázkami.	10+30
(43,4)	66,4	⊙	Přijeli jste na křižovátku tvaru T. Kdy odsud jede nejbližší autobusový spoj do bývalého okresního města? Pokračujte stále směrem k sídlu jedné z dcer praotce Čecha.	15
(45,2)	68,2	⊙	Doleva odbočuje cesta směrem k lomu. Jakému?	10
18:00 (48,9)	71,9		Přijeli jste na křižovátku, kde dáváte přednost, pokračujte z kopce.	
(49,3)	72,3		Na druhém mostě sjeďte ze silnice, po chodníku podjeďte dálnici a pokračujte stále rovně.	
18:30 (49,9)	72,9		Na světelné křižovatce odbočte doprava skrz bránu.	
18:30 (50,2)	73,2		Z náměstí odjeďte opět skrz bránu, přes most a rovně na lávku. Lávku přejděte.	
18:30 (50,7)	73,7		Za lávkou vlevo začíná komunikace vyhrazená chodcům a cyklistům. Vydejte se po ní podél řeky.	
(51,1)	74,1		Vydejte se k směrem k megakřižovatce. Máte poslední příležitost si dnes zajezdit na kruhovém objezdu. Ze složité dopravní situace odjeďte do kopce a na silnici doleva a stále rovně.	
(52,4)	75,4		U kontejnerů jedte do kopce, dejte přednost a jedte doleva, na další křižovatce hned rovně.	
(53,3)	76,3		Po pravé straně je podjezd pod železniční trať. Tudy vjedte do cíle první etapy.	

## Z K R A T K A

- 
- |      |   |
|------|---|
| 29,3 | Pokračujte po silnici dolů a pořád rovně po hlavní. Pozor, jste na pěší zóně!                               |
| 29,9 | Pěší zóna končí, na této a další křižovatce jedte směrem k nádraží.   |
| 30,3 | Za železničním přejezdem odbočte na silnici s rychlostním omezením.   |
| 31,0 | Dojeli jste na konec úseku s lepším povrchem vozovky, pokračujte rovně.                                     |
| 31,4 | Přejeli jste koleje a dojeli k asfaltce. Dejte se po ní opačným směrem, než je chráněný železniční přejezd. |
| 31,5 | Na křižovatce tvaru T jedte doprava.  |
| 31,6 | Dejte přednost a pokračujte rovně.  |
| 32,2 | Stále rovně ke kapličce.  |
| 32,3 | Okolo kapličky stále rovně na polní cestu.  |
| 34,2 | Přijeli jste do obce, pokračujte stále rovně podél rybníka a potom po hlavní silnici.                       |
| 37,8 | Přijeli jste do další obce, na značené křižovatce odbočte na vedlejší silnici.                              |
| 38,2 | Odbočte ze silnice po značené turistické trase.   |
| 38,7 | Míjííte rozcestník a základnovou stanici mobilních telefonů, pokračujte rovně.                              |
| 38,8 | Cesta se rozdvojuje, jedte doprava a na další rozdvojce doleva. (Pořád po žluté.)                           |
| 39,8 | Dojeli jste k silnici, dejte se po ní z kopce.  |
| 40,2 | U autobusové zastávky odbočuje cesta, dejte se po ní.   |
| 40,3 | Cesta se rozdvojuje, držte se vpravo.   |
| 40,4 | Cesta zde končí, pokračujte do neosvětleného prostoru vedle cedule se znakem.                               |
| 40,5 | <b>KONEC ZKRATKY.</b> Pokračujte podle hlavního prospektu, poskočili jste na 63,5 km .                      |
-