
























Základní poučení

- není-li v textu uveden směr, vede trasa po hlavní silnici; pokud jedete po vedlejší silnici nebo křižovatka není nijak značena, vede trasa rovně
- symbol  vyznačuje úsek, kde se jede stále po asfaltce
- symbol  vyznačuje cestu, případně úsek, kde se střídavě mění cesta v asfaltku a naopak
- symbol  vyznačuje úsek na kole sjízdny jen obtížně
- značka  označuje místo, kde je schována obálka s teoretickými otázkami; list s otázkami si vždy ponechte – slouží jako důkaz o projetí stanovištěm a za jeho předložení v cíli obdržíte body (první číslo); za správně zodpovězené otázky pak obdržíte také body (druhé číslo)
- značka  označuje místo, ke kterému je v textu kontrolní otázka, sloužící jako důkaz o projetí stanovištěm; číslo udává body za její správné zodpovězení
- maximální možný počet bodů je 380
- časový limit je 7 hodin; za každou minutu po vypršení limitu se odečítá jeden bod
- čas uvedený v rámečku úplně vlevo je přibližný a platí pro družstvo, které startuje jako první; pokud je čas uveden, nachází se v blízkosti restaurační zařízení, které však v době průjezdu nemusí mít otevřeno

09:00	0,0	 Vydejte se směrem k podjezdu a za ním jedte doleva.	
	0,7	 Pokračujte směrem na dálnici.	
	0,8	 Za mostem odbočte doprava.	
	0,9	 Co by se nemělo vhadzovat do červeného kontejneru? Pokračujte rovně po stezce pro chodce a cyklisty.	10
	1,2	 Za lávkou se vydejte po značené cyklotrase doleva.	
	1,9	 Přijeli jste k hlavní silnici, vydejte se po ní směrem pryč z obce.	
	2,9	 Před domem č. 232 si můžete přečíst o slavném hudebníkovi. Kolik let uplynulo od jeho úmrtí?	10
	3,1	 U rybníka odjedte ze silnice a pokračujte po stezce pro chodce a cyklisty.	
	3,3	 Držte se vpravo (odbočte ze značené turistické trasy).	
	4,1	 Stezka pro chodce a cyklisty přejíždí přes cestu. Co chovají za plotem po levé straně před cestou? Pokračujte dál po stezce pro chodce a cyklisty.	10
	4,6	 Přijeli jste k domům, pokračujte po cestě, která vede nejprudčeji vzhůru.	
	4,8	 Na křižovatce tvaru T jedte z kopce.	
	5,2	 Přijeli jste na křižovatku, kde vám značka prikazuje zastavit. Pokračujte z kopce.	
	5,4	 Na další značené křižovatce odbočte z hlavní opět z kopce.	
	6,3	 Po pravé straně míjíte hřiště. Jaká je celková plocha všech pozemků, které jsou nabízeny k prodeji a nacházejí se po levé straně silnice podle směru trasy závodu?	15
	7,0	 Silnice zatáčí prudce doprava, u soutoku potoků hledejte obálku číslo 1 s teoretickými otázkami.	10+30
	7,5	 Na křižovatce tvaru T pokračujte po cyklotrase.	
	8,3	 Přijeli jste do obce. V kolika ročnících K293 tour byl mezi startujícími někdo z obyvatel prvního domu po levé straně?	15

	8,8	█	Na návsi se můžete maličko občerstvit. Pokračujte po červené turistické značce.	
	9,1	⊙	Míjíte hřbitov, naučné cedule a nástěnky. Kolik podle inzerátu vyvěšeného na nástěnce stojí vyvezení 1000 l fekálií?	10
10:15	9,7	█	Pokračujte po značené cyklistické trase přes úsek s nejvyšší povolenou rychlostí omezenou na 20 km/h.	
	11,8	⊙	Jaké je jmenovité výstupní napětí elektrického zařízení po pravé straně?	10
	12,0	█	Na křižovatce jedte doprava po značené cyklotrase.	
	13,9	⊗	Po pravé straně silnice je oplocenka a po levé straně zábradlí. U severního rohu oplocenky hledejte obálku číslo 2 s teoretickými otázkami.	10+20
	16,3	█	Hlavní silnice zatáčí doprava, vy odbočte doleva.	
	17,7	█	U cedule, "Ptačí oblast" se vydejte tam, kam mají všechna motorová vozidla, kromě vozidel LČR, vjezd zakázán.	
	18,9	⊙	Po pravé straně míjíte oplocenku s červeným nápisem "VLEVO". Kolik vodorovných příček mají celkem oba žebříky přes oplocenku, které jsou k nápisu nejbližší?	10
	19,3	█	Odbočte doprava mezi stromy č. 705 a 706.	
	20,3	⊙	Přijeli jste k závoře. Jaká je vzdálenost středu dolní podstavy svislé části závory od středu volného konce vodorovné části závory? Pokračujte rovně.	15
	21,1	█	Přijeli jste k hlavní silnici, vydejte se rovně po značené cyklistické trase.	
	22,0	⊗	U křižce po levé straně hledejte obálku číslo 3 s teoretickými otázkami.	10+20
	23,1	⊙	V pravotočivé zatáčce odbočují doleva za závoru dvě cesty. Kolik je na závoře bíle natřených úseků?	10
	25,0	█	Přijeli jste k hlavní silnici, pokračujte rovně po značené turistické trase.	
	25,6	⊙	Z kolika prken je sestaveno sedátko posedu po pravé straně?	10
	25,9	█	Dojeli jste k silnici, pokračujte po značené turistické trase, po které jste sem přijeli.	
	26,3	⊙	Přijeli jste na rozcestí značených turistických cest. Sečtete všechny kilometrické údaje na rozcestníku. Pokračujte ve směru, ve kterém je součet kilometrických údajů na rozcestníku 26,5 km.	15
	28,4	⊙	Přijeli jste k závoře a do obce. Na nejbližší křižovatce odbočte doleva. Co má ve znaku obec, kterou právě projíždíte?	15
	28,8	█	Přijeli jste k hnědému plotu. Pokračujte okolo značky "Konec obce".	
13:00	29,5	█	Pokračujte směrem do cíle, který je na ukazateli před křižovatkou první podle abecedy.	
	30,2	⊗	Po pravé straně je závora a za ní stožár č. 194 u kterého hledejte obálku číslo 4 s teoretickými otázkami. Na jaké číslo je potřeba zavolat před vstupem do oploceného prostoru pod stožárem?	10+30
		⊙		10

	32,5	Přijeli jste k hlavní silnici, pokračujte po ní rovně.	
	32,7	Vydejte se směrem, kde jsou vidět značky "Hlavní silnice".	
	33,2	Přejeli jste most s modrým zábradlím. Pokračujte směrem ke značce s dodatkovou tabulkou 500 m.	
	33,5	⊙ V jaké ulici sídlí firma, která obstarává svoz tříděného odpadu z této obce?	10
13:45	36,2	Na křižovatce za rybníčkem pokračujte ke kulatému zrcadlu.	
	36,8	Narazili jste na přejezd pro cyklisty. Odbočte doprava a pokračujte po cyklostezce.	
	37,0	Na konci stezky pro pěší a cyklisty překonejte závoru po levé straně a pokračujte doprava.	
	37,9	Pokračujte směrem, kudy se jede na start dnešní etapy a na další značené křižovatce směrem k prodeji potravin a propan-butanu.	
14:00	38,2	⊙ Na jakém čísle si můžete objednat autojeřáb?	10
	38,5	Poslechněte výzvu dopravní značky. (Na přejezdu pro cyklisty odbočte doleva a pokračujte po cyklostezce.)	
14:15	39,2	⊙ Cyklostezka skončila, pokračujte stejným směrem po silnici. Jak se jmenuje náměstí, na kterém se konají zde inzerované farmářské trhy?	10
	40,6	Odbočte směrem ke hradu.	
	42,8	Přijeli jste do obce. Vydejte se tam, kde je "Průjezd zakázán".	
14:45	43,3	⊙ Kolik hodin bude letos ještě otevřené turistické občerstvení?	15
	43,6	Na křižovatce tvaru T se vydejte směrem, ve kterém je vidět trojúhelníková značka. U ní odbočte doleva.	
	45,3	Hlavní silnice zatáčí za rozsáhlým, rozpadajícím se areálem doleva, vy ale pokračujte rovně a po chvíli odbočte doleva na značenou cyklotrasu.	
	48,4	⊙ Na křižovatce za přejezdem pokračujte rovně, dále stále rovně. Kolik jste na posledních 3 km trasy minuli kapliček?	15
15:45	49,5	Cyklotrasa odbočuje na hráz, pokračujte stále rovně.	
	50,4	⊙ Přijeli jste k hlavní silnici. Odbočte tam, kam vám povolují dopravní značky. Kdy byla vyrobena značka "Konec hlavní silnice"?	15
	50,6	Na další křižovatce (za přechodem) jedte doleva.	
	50,9	Před křižovatkou je zákaz odbočení kvůli zakazu vjezdu do jednosměrné ulice. Cyklisté zde ale mají výjimku, tak ji využijte a dojedte až k nádraží.	
16:00	51,3	CÍL.	