
























## Základní poučení






- ❶ není-li v textu uveden směr, vede trasa po hlavní silnici; pokud nelze určit průběh hlavní silnice, vede trasa rovně
- ❷ symbol  vyznačuje úsek, kde se jede stále po asfaltce
- ❸ symbol  vyznačuje cestu, případně úsek, kde se střídavě mění cesta v asfaltku a naopak
- ❹ symbol  vyznačuje úsek, na kole sjízdňý jen obtížně
- ❺ značka  označuje místo, kde je schována obálka s teoretickými otázkami; list s otázkami si vždy ponechte – slouží jako důkaz o projetí stanovištěm a za jeho předložení v cíli obdržíte body (první číslo); za správně zodpovězené otázky pak obdržíte také body (druhé číslo)
- ❻ značka  označuje místo, ke kterému je v textu kontrolní otázka, sloužící jako důkaz o projetí stanovištěm; číslo udává body za její správné zodpovězení
- ❼ maximální možný počet bodů je 435
- ❽ časový limit je 7 hodin; za každou minutu po vypršení limitu se odečítá jeden bod

## Trasa 1. etapy závodu

0,0		Opusťte parkoviště výjezdem ke kruhovému objezdu. Kilometráž začíná u cedule ukončující obec. Z kruhového objezdu vyjeďte směrem, kam ukazuje výhradně modrá šipka.	
0,8		Další kruhový objezd. Opusťte ho směrem Mercedes a pokračujte do kopce po hlavní silnici.	
2,9		Po pravé straně je autobusová zastávka. Kdy z ní odjede nejbližší spoj linky č. 23?	10
4,3		Značená křižovatka. Odbočte z hlavní silnice do směru, kam ukazuje šipka se dvěma cíli.	
6,3		Kruhový objezd. Pokračujte rovně. Jaká instituce se nachází po levé straně za kruháčem?	10
8,5		Dojeli jste k hlavní silnici. Pokračujte po ní do kopce.	
8,8		Po levé straně stojí kamenná stavba s číslem 12. U ní hledejte obálku č. 1 s teoretickými otázkami.	5+40
10,7		Vpravo je panelový plácek, vlevo naproti němu odbočuje asfaltka s červeno-bílou závorou. Po ní se vydejte.	
11,7		Přijíždíte ke křižovatce. Před rezavým sloupem č. 38 odbočte doprava na cestu s horším povrchem.	
11,9		Po levé straně se nachází budova. K čemu slouží?	10
12,2		Míjíte křižovatky se stejnými typy cest. Pokračujte stále rovně.	
12,6		Vjíždíte do obytné zóny. Se zvýšenou opatrností pokračujte z kopce dolů v protisměru jednosměrné ulice.	
12,8		Přijeli jste ke hlavní silnici. Pokračujte směrem, kde vidíte kulaté zrcadlo.	
12,9		Hlavní silnice se stáčí doprava, vy pokračujte rovně pod viadukt.	

- 13,6  Přijeli jste na křižovatku, kde dáváte přednost.  
Čím přestane být vize? 10  
Pokračujte rovně po cestě kolem šedo-červeného sloupku.
- 15,4  Po pravé straně vidíte rozlehlou žlutou budovu s děravou střechou.  
Jaké je nejvyšší číslo na jejich velkých modrých vjezdových vratech? 15
- 15,6 Dojeli jste ke hlavní silnici. Vydejte se směrem, kde vidíte zelené budovy.
- 16,0 Na značené křižovatce odbočte z hlavní silnice doprava.
- 16,5 Po levé straně končí svodidlo. Bezprostředně za ním začíná v trávě pěšinka.  
Vydejte se po ní.
- 16,6 Přijeli jste k širší cestě - vydejte se po ní doprava.
- 16,9  Dojeli jste k lávce.  
Přejeďte ji a za ní se vydejte směrem pod zelené trubky.
- 18,3 Dojeli jste na křižovatku s dřevěným odpočívadlem. Pokračujte rovně.
- 19,4  Po pravé straně je dřevěné odpočívadlo.  
Kdo je nepředvídatelný? 10
- 20,3  Přijeli jste ke křižovatce.  
Pokračujte doprava po téže typu komunikace, posléze po silnici.
- 20,5  Přejeli jste most. Pokračujte po hlavní silnici a hned jak skončí svodidlo po pravé straně, odbočte z ní do jednosměrky.  
U prvního sloupu s lampou hledejte obálku č. 2 s teoretickými otázkami. 5+40
- 20,7 Před sloupem s elektrickým vedením odbočte na asfaltku ve směru žluté tabulky s černou šipkou a pokračujte po ní.
- 22,6 Přejeli jste trať. Pokračujte dále po tomtéž typu cesty.
- 22,9   Dojeli jste na křižovatku s pomníčkem uprostřed.  
Kolik dostanete po vzájemném vynásobení letopočtů v horní části pomníčku?  
Vydejte se doleva. 10
- 25,5 Dojeli jste na křižovatku. Pokračujte dále ve směru žluté tabulky s černou šipkou.
- 25,9 Pokračujte dále po téže typu cesty z kopce.
- 26,4  Přijeli jste ke žluté budově.  
Na kterých místech její haly je zakázáno spát? 10
- 27,1  Přijeli jste na složitou křižovatku. Vydejte se do zákazu vjezdu motorových vozidel.
- 30,5  Po levé straně stojí posed.  
Kolik příček má jeho žebřík? 10
- 31,5 Přijeli jste na křižovatku, kde dáváte přednost. Pokračujte rovně do obytné zóny.
- 31,9  Po levé straně je krytý most. Přejeďte ho a za ním pokračujte podél fotbalového hřiště.  
Kolik má most krokví? 10
- 32,5 Přijeli jste na křižovatku typu T. Vydejte se přes můstek se zeleným zábradlím.
- 32,8 Pokračujte po asfaltce, kam je zákaz vjezdu motorovým vozidlům.

33,2	 Přijeli jste na křižovatku více cest. Vydejte se po té, u které vidíte malý dřevěný domek v ohradě.	
35,2	 Za hospodou pokračujte z kopce podél plotu do zákazu vjezdu motorových vozidel.	
36,0	 Přijeli jste na křižovatku. U sloupku se žlutými ukazateli hledejte obálku č. 3 s teoretickými otázkami. Pokračujte rovně směrem k ceduli označující začátek obce.	5+40
36,2	 Pokračujte rovně do slepé ulice a přes lávku.	
36,8	 Křižovatka. Pokračujte do zákazu vjezdu motorových vozidel.	
37,6	 Vpravo odbočujte panelová cesta. Pokračujte po asfaltce směrem k dřevěnému zábradlí.	
37,8	 Přijeli jste k silnici. Vydejte se po ní směrem, kde vidíte ceduli ukončující obec a pokračujte rovně.	
38,1	 Přejeli jste most. Kolik svislých tenkých příček má zábradlí po jeho pravé straně ve směru jízdy? Za mostem odbočte ve směru cedulky s číslem 2070.	15
40,0	 Opouštíte obec. Jakou barvu měl dům č.p. 14?	10
42,1	 Dojeli jste k hlavní silnici. Vydejte se po ní směrem k benzinové pumpě.	
42,3	 Odbočte z hlavní silnice doprava a pokračujte rovně za benzinovou pumpu.	
42,5	  Přijeli jste na křižovatku. Vydejte se směrem hotel. Jak se jmenoval pan Wickenhofer?	10
43,6	 Vpravo odbočujte rozbitá polní cesta, na jejímž začátku leží po obou stranách podlouhlé betonové kvádry. U jednoho z nich hledejte obálku č. 4 s teoretickými otázkami. Odbočte ze silnice na cestu a pokračujte po ní do pole.	5+40
44,9	 Dojeli jste k silnici. Vydejte se po ní směrem, kde vidíte vodní plochu.	
46,2	 Za tenisovými kurty odbočte vlevo na šterkovou cestu.	
46,6	 Objeli jste kemp. Po levé straně je žlutá brána. Cesta, po které jedete, se stáčí doprava do kopce. Pokračujte po ní nahoru a dále podél pole.	
47,5	 Vjeli jste do lesa. Po pravé straně je posed. Kolik příček se nachází na jeho žebříku?	10
48,0	 Cesta se mění v panelovou. Pokračujte po ní dále.	
49,0	 Cesta se mění v asfaltovou. Kdy byla vybudována zdejší vodní nádrž?	10
49,4	 Přijeli jste k hlavní silnici. Vydejte se po ní doprava.	
50,2	 Odbočte ze silnice vlevo do ulice, kde vidíte červenou tabuli s jejím názvem. Jak se ulice jmenuje?	10
50,7	 Přijeli jste k hlavní silnici. Vydejte se po ní z kopce.	

52,1		Přijeli jste na křižovatku. Vpravo je cedule s reklamou na odvoz fekálií. U ní hledejte obálku č. 5 s teoretickými otázkami. Pokračujte dále po hlavní silnici.	5+40
53,0		Značená křižovatka. Pokračujte stále po hlavní silnici. Co vyjde, vynásobíte-li mýtinu s kozly?	10
55,5		Vjeli jste do obce. V jaké se nachází nadmořské výšce?	10
57,1		Značená křižovatka v obci. Jak se jmenuje místní fotbalové mužstvo? Vydejte se směrem "prodej krůt"	10
57,3		Prodej krůt odbočuje doleva, vy pokračujte rovně.	
59,0		Vjeli jste do obce. Ze kdy je cedule označující její počátek?	10
59,4		Po pravé straně je kemp. Zde je cíl první etapy.	