


















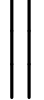
Základní poučení

- ❶ není-li v textu uveden směr, vede trasa po hlavní silnici; pokud nelze určit průběh hlavní silnice, vede trasa rovně
- ❷ symbol  vyznačuje úsek, kde se jede stále po asfaltce
- ❸ symbol  vyznačuje cestu, případně úsek, kde se střídavě mění cesta v asfaltku a naopak
- ❹ symbol  vyznačuje úsek, na kole sjízdný jen obtížně
- ❺ značka  označuje místo, kde je schována obálka s teoretickými otázkami; list s otázkami si vždy ponechte – slouží jako důkaz o projetí stanovištěm a za jeho předložení v cíli obdržíte body (první číslo); za správně zodpovězené otázky pak obdržíte také body (druhé číslo)
- ❻ značka  označuje místo, ke kterému je v textu kontrolní otázka, sloužící jako důkaz o projetí stanovištěm; číslo udává body za její správné zodpovězení
- ❼ maximální možný počet bodů je 335
- ❽ časový limit je 7 hodin; za každou minutu po vypršení limitu se odečítá jeden bod

Trasa 2. etapy závodu

| | | | |
|------|---|---|------|
| 0,0 |  | Vydejte se z brány kempu na opačnou stranu, než odkud jste včera přijeli. | |
| 0,9 |  | Po pravé straně je červenobílý sloupek. U něj hledejte obálku č. 1 s teoretickými otázkami. | 5+40 |
| 3,1 |  | Přijeli jste do obce. Jaký obvod má místní památný dub? | 10 |
| 3,7 | | Přijeli jste na křižovatku. Vydejte se do směru, kde je na ukazateli před ní číslo 12. | |
| 5,4 | | Značená křižovatka. Odbočte do zákazu vjezdu nákladních vozidel. | |
| 6,3 |  | Přijeli jste do obce. Kolik tun může maximálně vážít jediné vozidlo přejíždějící zdejší most? | 10 |
| 6,6 | | Na značené křižovatce za mostem odbočte vlevo. | |
| 8,2 | | Přijíždíte na křižovatku. Pokračujte rovně pod viadukt do obce. | |
| 8,7 | | Podjeli jste viadukt, na křižovatce za ním odbočte vlevo. | |
| 8,9 | | Přejeli jste most. Na značené křižovatce za ním odbočte směrem, kde je na ukazateli kilometrický údaj 2. | |
| 9,5 |  | Vpravo stojí zastávkový označník a u něj černožlutý sloupek. Zde hledejte obálku č. 2 s teoretickými otázkami. | 5+40 |
| 10,6 |  | Přijeli jste do obce. Pokračujte po hlavní silnici. U jaké podkovy je restaurace po pravé straně? | 10 |
| 12,9 |  | Přijeli jste k hlavní silnici. Pokračujte po ní do kopce. Která pošta vybírá místní schránku? | 10 |
| 16,0 |  | Přijeli jste do obce. Pokračujte dále po hlavní silnici. Kolik svislých sloupků má celkem zelené zábradlí na mostě, přes který jedete? | 10 |
| 17,8 |  | Po levé straně stojí červenobílý sloupek státní nivelace. U něj hledejte obálku č. 3 s teoretickými otázkami. | 5+40 |

| | | |
|------|---|----|
| 18,3 | Projíždíte obcí. Kdy tu zahájila provoz první autobusová linka? Pokračujte dále po hlavní silnici. | 10 |
| 20,5 | Dojeli jste na značenou křižovatku. Odbočte z hlavní silnice do směru, kde vidíte dopravní značku nerovnost na vozovce. | |
| 22,6 | Dojeli jste do obce. Čím je monitorována? | 10 |
| 22,9 | ☐ Za autobusovou zastávkou odbočte do zákazu vjezdu nákladních vozidel, traktorů a autobusů a následně za domem č.p. 438 odbočte doprava. | |
| 23,5 | Přijeli jste k hlavní silnici. Vydejte se po ní směrem, kde se nachází benzinová pumpa. | |
| 26,8 | ☉ Přijeli jste k hlavní silnici. Vydejte se po ní směrem dolů. Jaké brikety jsou k mání v areálu po pravé straně? | 10 |
| 30,5 | ☉ Dojeli jste k hlavní silnici. Vydejte se na ní do směru, kam ukazovala modrá směrovka, na které nebylo žádné číslo. Za kolik se zde prodává pneumatika na Škodu Favorit? | 10 |
| 30,9 | Na kruhovém objezdu pokračujte vlevo. | |
| 34,3 | Značená křižovatka. Odbočte z hlavní silnice doprava kolem parkoviště. | |
| 34,5 | ☉ ☐ Dojeli jste k velké bílé budově. Kolik se zde chovalo prasat v roce 1927? Pokračujte směrem, kde vidíte zelené pouliční lampy. | 10 |
| 35,0 | ☐ Přijeli jste ke křižovatce, kde dáváte přednost. Pokračujte směrem, kde se nachází večerka. | |
| 35,4 | Přijeli jste na křižovatku. Hlavní silnice se stáčí doprava, vy pokračujte rovně a za viaduktem odbočte doleva na most s červenobílým zábradlím. | |
| 36,9 | ☉ Vpravo se nachází odpočívadlo s lavičkami. Kdy zahájila provoz železnice mezi stanicemi Cheb a Karlovy Vary? | 10 |
| 40,6 | ☉ Jak dlouho trvá v průměru břehuli říční vyhrabat noru? | 10 |
| 41,0 | Cesta se mění v asfaltku. Pokračujte stále dále. | |
| 41,5 | ☐ Přijeli jste k hlavní silnici. Odbočte do směru, kde vidíte modrou hvězdu a na následující křižovatce doprava. | |
| 42,1 | Naproti domu č.p. 152 odbočte do parku. Pokračujte dále. | |
| 42,6 | ☉ Vlevo nad sebou vidíte velkou stavbu. Kolik stojí základní vstupné na její prohlídku? | 15 |
| 42,8 | Přijeli jste na křižovatku. Vydejte se doprava. | |
| 43,1 | ☉ ☐ Jakou RZ má hasičské nákladní Iveco z Betlinshausenu? | 10 |
| 43,8 | Přijeli jste ke křižovatce. Vydejte se směrem maskáč. | |
| 45,0 | Za značkou zákaz vjezdu motorových vozidel je sloupek se žlutými směrovkami. Vydejte se směrem, kterým ukazuje šipka se součinem kilometrických údajů 36. | |

- 45,5  Dojeli (ehm...) jste na křižovatku cest. Pokračujte rovně (do kopce).
Co by vás teď čekalo, pokud byste trasu projížděli v opačném směru? 10
- 46,7  Přijeli jste na křižovatku k asfaltce.
U stromu se zelenou značkou po levé straně hledejte obálku č. 4 s teor. otáz.
Pokračujte opačným směrem, nežli se nachází parkurové závodíště. 5+40
- 48,1  Na značené křižovatce v zatáčce odbočte doprava do zákazu vjezdu nákladních vozidel a hned
poté doleva na cestu s horším povrchem.
- 48,6  Přijeli jste k restauraci. Zde je cíl druhé etapy.