














## Základní poučení

- není-li v textu uveden směr, vede trasa po hlavní silnici; pokud jedete po vedlejší silnici nebo křižovatka není nijak značena, vede trasa rovně
- symbol  vyznačuje úsek, kde se jede stále po asfaltce
- symbol  vyznačuje cestu, případně úsek, kde se střídavě mění cesta v asfaltku a naopak
- symbol  vyznačuje úsek na kole sjízdný jen obtížně
- značka  označuje místo, kde je schována obálka s teoretickými otázkami; číslo udává body za správné zodpovězení otázek
- značka  označuje místo, ke kterému je v textu kontrolní otázka, sloužící jako důkaz o projetí stanovištěm; číslo udává body za její správné zodpovězení
- značka  označuje stanoviště, v jehož blízkosti se nachází restaurace nebo jiná možnost občerstvení
- maximální možný počet bodů je 380
- časový limit je 9 hodin; za každou minutu po vypršení limitu se odečítá jeden bod

## Trasa 1. etapy závodu

|                                                                                   |      |                                                                                     |                                                                                                                                                                                                               |    |
|-----------------------------------------------------------------------------------|------|-------------------------------------------------------------------------------------|---------------------------------------------------------------------------------------------------------------------------------------------------------------------------------------------------------------|----|
|    | 0.0  |    | START - Žlutice, u nádraží.<br>Vydejte se směrem k zelenému zábradlí a pokračujte po hlavní silnici.                                                                                                          |    |
|                                                                                   | 0.6  |    | Na značené křižovatce u prodejny JIP odbočte směrem k budově se sluncem na štítě.                                                                                                                             |    |
|                                                                                   | 3.0  |                                                                                     | Na značené křižovatce pokračujte směrem, do kterého je na ukazateli před křižovatkou součet km údajů 17. Za křižovatkou jsou po pravé straně svodidla.<br>Spočítejte počet sloupků, které tato svodidla drží. | 10 |
|  | 8.2  |                                                                                     | Vlevo je vidět několik velkých stříbrných sil, na kterých jsou žluté cedulky.<br>Co je na těchto cedulkách napsáno?                                                                                           | 10 |
|                                                                                   | 9.0  |  | Přijeli jste na náměstí a vpravo je panelák.<br>Kolik má tento panelák oken?<br>Pokračujte dále po hlavní silnici.                                                                                            | 15 |
|                                                                                   | 10.1 |  | Vpravo míváte značku dvojitá zatáčka.<br>U ní hledejte obálku s teoretickými otázkami.                                                                                                                        | 30 |
|                                                                                   | 11.8 |                                                                                     | Na značené křižovatce pokračujte směrem, kam ukazuje směrový ukazatel se dvěma cíli.                                                                                                                          |    |
|                                                                                   | 12.3 |                                                                                     | Asi 100 metrů před obcí se vám vlevo otevřel výhled do kraje a jednu větší obec.<br>Co je to za obec?                                                                                                         | 10 |
|  | 14.3 |                                                                                     | Míváte značku pozor námraza a v protisměru je velká cedule.<br>Co je objekt, který se nachází v prostředku cedule?                                                                                            | 10 |
|                                                                                   | 18.1 |  | V obci jste přijeli k zrcadlu a vpravo je restaurace.<br>Kolik se nachází v prostoru před restaurací stolů s lavičkami?                                                                                       | 10 |
|                                                                                   | 18.9 |  | Kontrolní pořadatelské stanoviště. Zde vám pořadatelé zadají úkol.                                                                                                                                            | 40 |
|                                                                                   | 21.0 |                                                                                     | Vlevo je hřbitov. Kdy se narodila Maria Demeterová?                                                                                                                                                           | 15 |
|  | 21.9 |                                                                                     | V obci jste přijeli na značenou křižovatkou, kde dáváte přednost.<br>Vydejte se ke směrové ceduli s čísly 7 a 3 a směrem, kam cedule ukazuje, pokračujte.                                                     |    |
|                                                                                   | 22.1 |                                                                                     | U konce obce je vlevo plot s červenými sloupky. Kolik jich je?                                                                                                                                                | 5  |
|                                                                                   | 24.6 |                                                                                     | Projíždíte obcí.<br>Od kolika do kolika hodin měl dne 1.8.2014 zdejší Obecní úřad úřední hodiny?                                                                                                              | 10 |

|   |      |                                                                                                                                                                                                                             |          |
|---|------|-----------------------------------------------------------------------------------------------------------------------------------------------------------------------------------------------------------------------------|----------|
|   | 26.0 | Vlevo je telefonní budka. Pokračujte dále.                                                                                                                                                                                  |          |
| 🕒 | 27.7 | Vlevo je bílo-červená závara.<br>U ní hledejte obálku s teoretickými otázkami.                                                                                                                                              | 35       |
|   | 29.1 | Za značkou parkoviště se vydejte přes most se značkou zákazu vjezdu vozidlům nad 10 tun a za ním se vydejte ke značce zákaz vjezdu vozidlům nad 24 tun.                                                                     |          |
|   | 29.8 | Minuli jste školu a vpravo je restaurace.<br>Jaké bylo povolání Josefa Kiliána?<br>Pokračujte dále po hlavní silnici.                                                                                                       | 10       |
|   | 30.8 | Minuli jste značku dvojitá zatáčka a po 90 m odbočuje doprava cesta mezi ploty.<br>Odbočte na ni a pokračujte po značené cyklotrase.                                                                                        |          |
| 🕒 | 33.5 | Projíždíte závorou.<br>Jaký je vnější průměr konce tyče (zvedací části) závory?<br>Dojeďte na silnici a po ní se vydejte do kopce.                                                                                          | 15       |
|   | 34.0 | Přijeli jste na křižovatku.<br>Vydejte se směrem "Sklárna".                                                                                                                                                                 |          |
|   | 35.2 | Projeli jste kolem lanového centra a vpravo je oplocený areál s chatkami.<br>Vynásobte počet pingpongových stolů uvnitř tohoto areálu s počtem pneumatik na lanovém centru.                                                 | 10       |
|   | 35.7 | Křižovatka cest. Pokračujte podél elektrického vedení.                                                                                                                                                                      |          |
|   | 36.4 | Dojeli jste na křižovatku cest, u které je křížek.<br>Pokračujte směrem, do kterého není zákaz vjezdu.                                                                                                                      |          |
|   | 38.0 | Přijeli jste na asfaltku. Pokračujte rovně.                                                                                                                                                                                 |          |
|   | 38.1 | Vlevo jsou dvě mapy - jedna větší a jedna menší.<br>V jakém měřítku je ta menší?                                                                                                                                            | 15       |
|   | 38.4 | Vlevo jste minuli rybník. Hned za ním odbočte úzkou hnědo-žlutou brankou na pěšinu.<br>Kontrolní pořadatelské stanoviště. Zde vám pořadatelé zadají úkol.<br>Po splnění úkolu se vraťte zpět na asfaltku a pokračujte dále. | 40       |
| 🕒 | 38.9 | Přijeli jste k hlavní silnici.<br>Pokračujte směrem ke značce pozor děti.                                                                                                                                                   |          |
|   | 41.0 | Sjeli jste z kopce a přešli most. Pokračujte dále.                                                                                                                                                                          |          |
|   | 41.7 | Vyjeli jste na kopec a vlevo je rozcestník.<br>Vynásobte počet souhlásek počtem samohlásek na všech směrových ukazatelích turistických cest na rozcestníku.<br>Jaké číslo měl most, který jste přešli na začátku této obce? | 15<br>10 |
| 🕒 | 44.6 | V obci jste přijeli k vodní nádrži.<br>Spočítejte počet svislých zelených sloupků zábradlí kolem nádrže.<br>Pokračujte směrem, do kterého ukazuje před křižovatkou ukazatel s větším km údajem.                             | 5        |
|   | 47.6 | Těsně před cedulí obce odbočte doleva.                                                                                                                                                                                      |          |
|   | 47.9 | Přes silnici vede elektrické vedení.<br>U sloupu elektrického vedení vpravo hledejte obálku s teoretickými otázkami.<br>Pokračujte dále.                                                                                    | 30       |

- 49.9   Minuli jste telefonní budku a za ní je vlevo hospoda.  
Jaké pivo je na vývěsním štítě hospody? 5  
Za hospodou zahrňte doleva a následně z obce ven.
- 50.2 Přijeli jste na rozcestí. Pokračujte cestou, která nevede k domu. Pokud bude cesta přehrazena páskou, opatrně ji podlezte nebo odepněte a pak vraťte zpět na původní místo.
-  50.8  Vpravo je u cesty tyč se solárním panelem. Kolik je na panelu černých čtverečků? 10
- 52.1 Přijeli jste na asfaltku. Vydejte se doprava.
- 52.9 Na křižovatce, před kterou je jen jeden směrový ukazatel, pokračujte směrem, do kterého ukazuje.
- 54.3  Vlevo je rozcestník. Kolik ks je 1 kopa? 5  
Pokračujte dále a po 100 m odbočte kolem zeleného močálu.
- 55.8 V obci jste přijeli k autobusové zastávce.  
Pokračujte ke garáži s červenými vraty.
- 57.5 Za statkem jste dojeli na křižovatku, kde dáváte přednost.  
Vydejte se k nejbližšímu zrcadlu.
- 57.7  Přijeli jste na značenou křižovatku.  
Jaký je součet kilometrických údajů na všech směrových ukazatelích u křižovatky? 10  
Pokračujte po hlavní silnici.
-  58.0 Vlevo je zelená brána. Zde je CÍL 1. etapy.