


















































Základní poučení

- není-li v textu uveden směr, vede trasa po hlavní silnici; pokud jedete po vedlejší silnici nebo křižovatka není nijak značena, vede trasa rovně
- symbol  vyznačuje úsek, kde se jede stále po asfaltce
- symbol  vyznačuje cestu, případně úsek, kde se střídavě mění cesta v asfaltku a naopak
- symbol  vyznačuje úsek na kole sjízdný jen obtížně
- značka  označuje místo, kde je schována obálka s teoretickými otázkami; číslo udává body za správné zodpovězení otázek
- značka  označuje místo, ke kterému je v textu kontrolní otázka, sloužící jako důkaz o projetí stanovištěm; číslo udává body za její správné zodpovězení
- značka  označuje stanoviště, v jehož blízkosti se nachází restaurace nebo jiná možnost občerstvení
- maximální možný počet bodů je 380
- časový limit je 8 hodin; za každou minutu po vypršení limitu se odečítá jeden bod

Trasa 2. etapy závodu

	0.0		START. Vydejte se směrem ke značce hlavní silnice a po hlavní pokračujte.	
	0.6		Vlevo je helikoptéra. Kolik v ní ukazuje otáčkoměr otáček za minutu?	10
	4.2		Blížíte se k velkým zemědělským stavbám a asi 250 m před nimi odbočuje doprava kamenitá cesta, u které je elektrický ohradník. Odbočte.	
	5.3		Přijeli jste k ceduli obce. Jaké číslo faxu má Zemědělská a.s. Koloveč? Pokračujte po cestě podél elektrického ohradníku.	5
	5.7		Projeli jste kolem rybníka. Pokračujte dále.	
	6.9		Přijeli jste k domům a cesta se rozděluje do několika směrů. Přes betonový žlab dojeďte k silnici a po ní se vydejte směrem do obce.	
	7.2		Vpravo je zrcadlo. Kolik je na jeho obvodu červených proužků?	5
	7.9		Vpravo je pomník s letopočtem 2007. U něj hledejte obálku s teoretickými otázkami.	40
	10.4		Přijeli jste do obce a v zatáčce je zrcadlo. Jakou kapacitu má bezplatný PC kurz pro seniory v Nečtinách? Pokračujte rovně podél domu E13.	5
	10.6		Na rozcestí u informační tabule pokračujte po kamenité cestě.	
	11.7		Přijeli jste na křižovatku se širší cestou. Vydejte se směrem k domu.	
	11.8		Přijeli jste k rozcestníku. Jaký je počet souhlásek na všech směrových ukazatelích rozcestníku? Pokračujte rovně.	10
	12.9		Přijeli jste na rozcestí, kde doprava odbočuje asfaltka. Vy ale pokračujte rovně.	
	14.1		Přijeli jste k většímu oplocenému areálu. Vpravo je vodní nádrž. Kolik svislých tyčí má zábradlí kolem nádrže? Na následující křižovatce pokračujte doleva kolem oploceného areálu.	15

16.6		Přijeli jste k hlavní silnici. Přejedte ji a pokračujte rovně.	
16.7		Kontrolní pořadatelské stanoviště. Zde vám pořadatelé zadají úkol. Pokračujte dále po asfaltce.	40
17.7		Po levé straně je na palouku asi 50 m od cesty posed. Z kolika jednotlivých prken jsou složeny obvodové stěny boudy posedu.	15
 21.5		Přijeli jste na křižovatku, v jejíž blízkosti je několik domů. Jak daleko je podle ukazatele odsud Slunce? Pokračujte směrem na Kimberly.	5
22.3		Vyjeli jste na kopec a dojeli na rozcestí. Vydejte se směrem ke stromu se žlutým kolečkem.	
23.6		Projíždíte kolem závory. Kolik je na ní bílých pruhů?	5
24.7		Zleva přibočuje cesta. Pokračujte rovně a na křižovatce po 80 m odbočte ke značce omezující rychlost na 40 km/h.	
26.1		Přijeli jste k hlavní silnici. U křižovatky je autobusová zastávka. Kam se dá odsud dojet autobusem nejdále podle zde vyvěšených jízdních řádů? Vydejte se do kopce k ceduli konce obce.	15
26.3		Vlevo je hned u silnice pomník. U něj hledejte obálku s teoretickými otázkami.	30
 27.4		Projíždíte obcí a vpravo míváte vodní nádrž. Pokračujte dále.	
27.7		Doprava je odbočka se značkou s dodatkovou tabulkou "MIMO BUS A ZD". Může do této odbočky vjet plně obsazený autobus Karosa B931, aniž by porušil předpisy?	10
28.4		Sjeli jste z kopce a hlavní silnice odbočuje doprava. Pokračujte směrem k hospodě. Jakou značku televize mají v hospodě (v hlavní místnosti, kde je výčep)?	10
29.8		Po pravé straně vede podél silnice dlouhý drátěný plot. Jaký rozměr má jedno oko drátěného plotu na šířku?	10
31.3		Vpravo je požární zbrojnice. Pokračujte dále.	
 33.9		Přijeli jste do obce a následně na křižovatku, kde dáváte přednost. Kolikrát byla v závodní jídelně Hvozdecké zemědělské v období od 11.3. do 8.9.2014 zeleninová polévka? Pokračujte směrem, do kterého je na ukazateli před křižovatkou součet km údajů 11.	10
35.1		Vlevo je hřbitov. Kdy zemřel Miloslav Kroj?	15
35.2		Vlevo je kontrolní pořadatelské stanoviště. Zde vám pořadatelé zadají úkol.	40
 37.1		Přijeli jste na značenou křižovatku, kde hlavní silnice odbočuje doprava. Pokračujte směrem, do kterého je na ukazateli před křižovatkou součet km údajů 9.	
39.6		Sjeli jste z kopce a přejíždíte most se značkou zákazu vjezdu vozidlům nad 21 tun. Jaké má tento most číslo?	10
41.0		Doleva odbočuje žlutá směrovka. Odbočte.	
41.1		Přijeli jste ke koupališti. Kolik je celkový součet schodů na všech vstupech do vody? Pokračujte opačným směrem, než je vidět zrcadlo.	15

- 41.7  Za tenisovým hřištěm odbočte doprava kolem hotelu a po 120 m přejedte lávku.
- 42.1   Projíždíte kolem velké budovy a vpravo je u křižovatky rozcestník na dvou žlutých tyčích. Jaký je počet samohlásek na všech směrových ukazatelích rozcestníku? 15
Od rozcestníku se vydejte do kopce a následně směrem k městskému úřadu.
-  42.8  U cedule konce obce hledejte obálku s teoretickými otázkami. 30
- 44.8  Značená křižovatka, u které je dřevěná autobusová zastávka. Pokračujte směrem, do kterého je na ukazateli před křižovatkou součet km údajů 18.
- 45.5  Přijeli jste do obce. Jakou barvu má fasáda domu č. 23? 10
- 48.4  Po pravé straně je v obci poštovní schránka. Jaké má číslo? 5
Pokračujte po hlavní silnici.
- 49.9  V obci jste přijeli k hlavní silnici. Pokračujte k ceduli konce obce a na následující křižovatce po hlavní silnici.
-  50.3  Přijeli jste k zelené bráně. Zde je CÍL 2. etapy.