








































Základní poučení

- není-li v textu uveden směr, vede trasa po hlavní silnici; pokud jedete po vedlejší silnici nebo křižovatka není nijak značena, vede trasa rovně
- symbol  vyznačuje úsek, kde se jede stále po asfaltce
- symbol  vyznačuje cestu, případně úsek, kde se střídavě mění cesta v asfaltku a naopak
- symbol  vyznačuje úsek na kole sjízdný jen obtížně
- značka  označuje místo, kde je schována obálka s teoretickými otázkami; číslo udává body za správné zodpovězení otázek
- značka  označuje místo, ke kterému je v textu kontrolní otázka, sloužící jako důkaz o projetí stanovištěm; číslo udává body za její správné zodpovězení
- značka  označuje stanoviště, v jehož blízkosti se nachází restaurace nebo jiná možnost občerstvení
- maximální možný počet bodů je 380
- časový limit je 7 hodin; za každou minutu po vypršení limitu se odečítá jeden bod

Trasa 3. etapy závodu

	0.0		START - Vydejte se směrem ke značce hlavní silnice a za ní odbočte doprava.	
	2.0		V obci je vpravo informační tabule. Jaký je průměr roční teploty na sledovaném území?	10
	3.8		V obci je vpravo autobusová zastávka a před ní lavička. Z kolika prken se lavička skládá?	5
	4.6		Vystoupali jste na kopec a doprava odbočuje do pole cesta. Tou se vydejte.	
	5.0		Přijeli jste na okraj lesa. Pokračujte dále po cestě do lesa.	
	5.2		Přijeli jste k malému dřevěnému krmelci. Z kolika prken se skládá zadní strana krmelce? Za krmelcem pokračujte doleva a na rozcestí po 50 metrech doprava.	10
	5.7		Přijeli jste na asfaltku. Vydejte se po ní doleva.	
	6.8		Na rozcestí, u kterého jsou žluté cedule, se vydejte z kopce.	
	7.6		Cesta se rozdvouje a po levé straně je na stromě kresba. Směrem ke kresbě se vydejte. Která hudební skupina má tuto kresbu v logu?	10
	8.7		Přijeli jste k hlavní silnici. Těsně před ní je po levé straně sloupek se žlutou cedulkou. U sloupku hledejte obálku s teoretickými otázkami. Přejedte silnici a pokračujte rovně.	50
	9.8		Přijeli jste do obce a silnice se rozdvouje. Sečtete všechny cifry na cedulce na modro-bílém sloupku. Pokračujte z kopce.	5
	12.5		Vpravo je mezi dvěma stromy pomníček a vedle lavička. V jakém roce zemřel Franz Wanka?	10
	13.4		Přijeli jste na značenou křižovatku. Přejedte most a za ním pokračujte ke značce dvojitá zatáčka.	
	14.6		Vyjeli jste na kopec a dojeli na křižovatku, u které je velký kámen s vyrytým křížem. Jaký je vnější obvod tohoto kříže? (uvádějte na centimetry) Pokračujte dále po hlavní silnici.	15
	15.7		V obci jste přijeli na značenou křižovatku. Pokračujte do kopce a na křižovatce po 180 m se dejte z obce ven.	

- 18.7  Přijeli jste k hlavní silnici. Vydejte se po ní do obce a pokračujte po hlavní silnici. Jak se jmenují obyvatelé domu č. 33 v této obci? 10
-  19.1 Za cedulí konce obce odbočte směrem, kam ukazuje ukazatel se dvěma cíli.
- 21.2  Vlevo je kontrolní pořadatelské stanoviště. Zde vám pořadatelé zadají úkol. 80
- 22.2 V obci jste přijeli na značenou křižovatku. Odbočte kolem rybníka a u kapličky se dejte směrem k lavičce.
- 23.2  Přijeli jste k železniční zastávce. Kdy jede z této zastávky nejbližší pravidelný vlak osobní dopravy? Pokračujte rovně přes přejezd. 10
- 25.3 Cesta se stáčí doprava a vlevo je na stromě symbol bílé hvězdy. Pokračujte po rozbité asfaltce.
- 26.4  Vlevo jsou včelí úly. O kolik dní více se dožil Heny než Erb Japa? 15
-  27.1  Přijeli jste k silnici. Vydejte se po ní směrem k velké modré ceduli. U velké modré cedule hledejte obálku s teoretickými otázkami. Pak pokračujte po hlavní silnici. 30
- 28.9  Hlavní silnice se stáčí doprava. Pokračujte po ní.
- 29.1 Vlevo jste minuli svodidla a hlavní silnice se stáčí doleva. Pokračujte směrem k ekologické likvidaci autovraků.
- 29.8  Vyjeli jste z obce. V následujícím úseku asi 250 m podjedete několik drátů elektrického vedení. Kolik jednotlivých drátů jste podjeli? (samostatný drát hned za cedulí konce obce nepočítejte) 10
- 32.8 Přijeli jste do obce a vlevo je autobusová zastávka, památný strom a pomník. Pokračujte dále.
-  34.2  Projíždíte obcí. Jaké útvary jsou vyřezány v okenicích domu č. 27? 5
- 37.1  Projeli jste prudkými zatáčkami a následně přejíždíte můstek se zeleným zábradlím. Jaká je vzdálenost mezi betonovými podstavami zábradlí? 15
- 38.7 Po pravé straně míváte hřbitov. Pokračujte dále.
- 39.1   Značená křižovatka, u které je vodní nádrž. Po vaší pravé straně se nachází zámek. Za zámkem je oplocený zámecký park. Kolik se v něm nachází buků? Z křižovatky pokračujte silnicí bez posypu. 40
-  39.3 Na rozcestí na kopci odbočte kolem růžového domu č. 75.
- 40.6  Vlevo je kaplička a kontrolní pořadatelské stanoviště. Zde vám pořadatelé zadají úkol. 40
- 40.9  Přijeli jste do obce. Jaké číslo má dům, ve kterém je ohlašovna požárů? 5
- 41.2 Přijeli jste na křižovatku cest. Pokračujte po značené cyklotrase.
- 44.0 Přijeli jste do obce. Pokračujte dále.
- 44.3  U domu č. 66 je vpravo na stromě bílá ptačí budka. Jaké je na ní číslo? 5
- 46.1 Přijeli jste na křižovatku, kde dáváte přednost. Pokračujte k přechodu pro chodce.
- 46.6 Na značené křižovatce odbočte doprava a dojeďte k restauraci Cihelna. Zde je cíl 3. etapy.
-  46.7  CÍL - Žlutice, restaurace Cihelna.