






























## Základní poučení

- není-li v textu uveden směr, vede trasa po hlavní silnici; pokud jedete po vedlejší silnici nebo křižovatka není nijak značena, vede trasa rovně
- symbol  vyznačuje úsek, kde se jede stále po asfaltce
- symbol  vyznačuje cestu, případně úsek, kde se střídavě mění cesta v asfaltku a naopak
- symbol  vyznačuje úsek na kole sjízdny jen obtížně
- značka  označuje místo, ke kterému je v textu kontrolní otázka, sloužící jako důkaz o projetí stanovištěm; číslo udává body za její správné zodpovězení
- značka  označuje místo, kde je schována obálka s teoretickými otázkami; číslo udává body za správné zodpovězení otázek
- značka  označuje místo, kde se plní zvláštní úkol, jehož zadání se dozvíte až na tomto místě
- značka  označuje stanoviště, v jehož blízkosti se nachází restaurace nebo jiná možnost občerstvení
- maximální možný počet bodů je 430
- časový limit je 8,5 hodiny; za každou minutu po vypršení limitu se odečítá jeden bod
- čas závodění jednotlivých skupin končí, pokud jsou v místě cíle všichni závodníci příslušného družstva a družstvo odevzdalo vyplněný formulář na odpovědi

## Trasa 1. etapy závodu

	0.0		START - Dubina, u obecního úřadu. Vydejte se do zákazu vjezdu vozidel nad 11 tun.	
	0.2		Za značkou pozor zatáčka pokračujte podél svodidel.	
	1.1		Minuli jste ceduli konce obce. Pokračujte po hlavní silnici.	
	2.6		Vlevo jste minuli autobusovou zastávku s dřevěnou boudou. Kdy zemřel Josef Schöttner?	10
	3.7		Projíždíte závorou. Kolik je na ní bílých pruhů?	10
	7.5		Vpravo je pod stříškou infotabule. Jaká společenstva kromě křovin a lesíků vznikla sukcesí na neobdělávané půdě a území bývalých vesnic?	10
	8.3		Přijeli jste na asfaltku. Vydejte se po ní, kam ukazuje šipka na žluté cedulce před křižovatkou.	
	9.3		Projeli jste kolem několika domů a minuli značku hlavní silnice. Za ní odbočte do kopce.	
	9.7		Vlevo jste minuli značku dvojitá zatáčka (pro protisměr). U druhého stromu za ní (též po levé straně) hledejte obálku s teoretickými otázkami.	30
	11.0		V obci jste přijeli k autobusové zastávce, za kterou je malý parčík. Kolik jednotlivých prken obsahují dohromady všechny lavičky v parčíku?	10
	11.4		Přijeli jste k hlavní silnici. Vydejte se opačným směrem, než jsou autobusové zastávky.	
	12.3		Vyjeli jste na kopec a minuli modrou směrovou ceduli. Odbočte tam, kam ukazuje.	
	14.4		Značená křižovatka. V jakém roce byla vyrobena dopravní značka hlavní silnice před křižovatkou? Po hlavní silnici pokračujte.	10
	16.8		Vlevo je osamocený baráček a vpravo žlutý transformátor. Jaké má transformátor číslo?	10

18.7		Kontrolní pořadatelské stanoviště. Zde vám pořadatelé zadají úkol. Pokračujte po hlavní silnici.	40	
	21.0		Vpravo jsou dvě červeno-bílá zábradlí. Odhadněte vzdálenost mezi nimi.	10
24.5			V obci jste přijeli na křižovatku, kde dáváte přednost. Pokračujte rovně kolem zrezivělých sloupků po pravé straně. Kolik jich je?	10
25.2			Na značené křižovatce za cedulí konce obce se dejte směrem, do kterého je nižší km údaj.	
26.7			Značená křižovatka. Odbočte ke garážím s různě barevnými vraty.	
26.9			Vpravo je posádkový dům armády. Kolik oken je na tomto domě na straně přivrácené k autobusové zastávce?	10
27.2			Křižovatka, kde dáváte přednost. Pokračujte směrem, ve kterém nejsou vidět modré směrové cedule.	
29.4			U červeno-bíle pruhovaného sloupku vlevo hledejte obálku s teoretickými otázkami.	30
	30.3		Asi 200 m za cedulí konce obce nejezděte do zákazu vjezdu.	
32.8			Sjeli jste z kopce, přešli most a vlevo jsou dva domy s erby. Kolik řad cihel je na prvním ze dvou domů od základů pod erb?	10
33.3			Přijeli jste k hlavní silnici. Pokračujte po ní směrem, ve kterém nejsou vidět větrníky.	
35.1			Sjeli jste z kopce a dojeli na křižovatku uprostřed obce. Po levé straně je kostel a za ním malý oplocený rybníček. Pokračujte směrem k tomuto rybníčku. Z kolika svislých tyčí se skládá oplocení rybníčku?	10
37.7			Přejíždíte hranici kraje. Pokračujte dále.	
	38.6		Sjíždíte z kopce a na louce je po pravé straně asi 100 m od silnice posed.	10
			Kolik příček má žebřík na posedu? Co je to za strom, který je u silnice nejbliže posedu?	10
39.5			Po levé straně je hned u silnice nízký červeno-bílý pruhovaný sloupek. U něj hledejte obálku s teoretickými otázkami.	30
41.6			V obci jste přijeli na křižovatku, kde dáváte přednost. Vynásobte počet modrých schránek s počtem modrých pruhů na tyči. Pokračujte směrem k domu č. 36.	10
45.1			V obci jste minuli po pravé straně dva paneláky a dojeli na náměstí. Koho socha se nachází před kostelem?	10
45.5			Před mostem, který lemuje modré zábradlí, odbočte do zákazu vjezdu vozidel nad 14 tun.	
	46.3		Vpravo je u silnice přístřešek se stolem a lavičkami. Zde vám pořadatelé zadají úkol.	40
49.2			V obci jste přijeli na křižovatku, kde hlavní silnice odbočuje doleva. Vpravo je dům č. 65. Z kolika řad tašek se skládá střecha domu na straně přivrácené k vám? Dejte se vlevo kolem kapličky a dále rovně na cestu vedoucí souběžně s potokem.	10
49.6			Pokračujte do zákazu vjezdu.	
49.9			Přijeli jste ke žluté tyči s rozcestníkem turistických cest. Kolik centimetrů je žlutá tyč od země vysoká? Pokračujte rovně a až dojedete k obelisku, objedte ho a pokračujte rovně širokou cestou.	10

- 51.0 Přímo před vámi je kamenná lavička. Dejte se cestou vlevo od ní a na křižovatce více cest po 100 m se dejte **druhou** doprava a jedte stále z kopce.
- 51.4 Sjeli jste z kopce a přijeli k větší cestě. Pokračujte rovně (nejpřímějším směrem).
- 51.7 Cesta se rozdvouje.  
Pokračujte tou levou a po 200 m za mostem s bílým zábradlím se dejte vpravo.
- 52.0 Přijeli jste na asfaltku. Dejte se po ní vpravo.
- 52.1 ✕ U kostela jste přijeli k hlavní silnici.  
Dejte se směrem k telefonní budce, za ní odbočte vlevo a pokračujte podél zeleného zábradlí.
- 52.5 ● Jaké číslo má poslední dům po pravé straně před cedulí konce obce? 10
- 54.2 ● V obci jste minuli po pravé straně rybník. Kolik bylo podél něj patníků?  
Za ním se dejte směrem k autobusovým zastávkám. 10
- 55.2 Přijeli jste k hlavní silnici.  
Vydejte se po ní opačným směrem, než ve kterém je vidět modré zábradlí.
- 🕒 55.5 Míjíte modrý směrový ukazatel. Pokračujte směrem, kam ukazuje.
- 57.7 ● Projíždíte obcí. Jaká firma zde spravuje veřejné osvětlení? 10
- 58.4 ✉ Vpravo je u silnice modrý sloup.  
U něj hledejte obálku s teoretickými otázkami. 30
- 59.5 ● V obci pokračujte po hlavní silnici.  
Jaké číslo má poštovní schránka na návsi? 10
- 🕒 64.8 ✕ V obci sjíždíte z kopce a po pravé straně je podél silnice žluté zábradlí.  
Kolik má zábradlí svislých tyčí?  
Pokračujte po hlavní silnici. 10
- 68.3 Přijeli jste k hlavní silnici. Pokračujte ke značce zákazu vjezdu nákladním vozidlům, ale těsně před ní odbočte vlevo na dlážděnou cestu.
- 68.4 ● Sjeli jste schody. Kolik jich bylo?  
Pokračujte dále. 10
- 68.9 ✕ Přijeli jste na křižovatku, kde dáváte přednost. Pokračujte rovně.
- 69.2 Před domem s poštovní schránkou odbočte vlevo.
- 69.5 Před značkou slepé ulice se dejte doprava.
- 69.7 Těsně před zpomalovacím prahem odbočte pod viadukt.
- 69.8 Přijeli jste ke svodidlům.  
Dejte se podél nich vlevo a dojeďte k zelené popelnici. Zde je cíl 1. etapy.
- 69.9 🏁 CÍL.