



















Základní poučení

- není-li v textu uveden směr, vede trasa po hlavní silnici; pokud jedete po vedlejší silnici nebo křižovatka není nijak značena, vede trasa rovně
- symbol  vyznačuje úsek, kde se jede stále po asfaltce
- symbol  vyznačuje cestu, případně úsek, kde se střídavě mění cesta v asfaltku a naopak
- symbol  vyznačuje úsek na kole s jízdný jen obtížně
- značka  označuje místo, ke kterému je v textu kontrolní otázka, sloužící jako důkaz o projetí stanovištěm; číslo udává body za její správné zodpovězení
- značka  označuje místo, kde je schována obálka s teoretickými otázkami; číslo udává body za správné zodpovězení otázek
- značka  označuje místo, kde se plní zvláštní úkol, jehož zadání se dozvíte až na tomto místě
- značka  označuje stanoviště, v jehož blízkosti se nachází restaurace nebo jiná možnost občerstvení
- maximální možný počet bodů je 370
- časový limit je 7,5 hodiny; za každou minutu po vypršení limitu se odečítá jeden bod
- čas závodění jednotlivých skupin končí, pokud jsou v místě cíle všichni závodníci příslušného družstva a družstvo odevzdalo vyplněný formulář na odpovědi

Trasa 2. etapy závodu

	0.0		START. Vydejte se směrem proti proudu řeky.	
	0.4		Minuli jste značku "konec stezky pro chodce a cyklisty". Pokračujte po mostě s modrým zábradlím.	
	0.7		Po pravé straně visí nad řekou větší množství tyčí. Sečtěte čísla, která jsou umístěna nad tyčemi se zelenými pruhy. Na rozcestí po 100 metrech pokračujte stále podél řeky.	10
	1.1		U Pozemních a vodních staveb pokračujte rovně.	
	1.3		Panelová cesta se rozdvouje. Pokračujte ke žluté ceduli upozorňující na výskyt chodců.	
	1.7		Přijeli jste k asfaltce. Vydejte se po ní opačným směrem, než ve kterém jsou vidět modré směrové cedule.	
	2.1		Přijeli jste do obce a přejíždíte most s modrým zábradlím. Jaké má číslo?	10
	5.9		Po levé straně jsou velká modrá síla s nápisy "VÍTKOVICE". Kolik jich je?	10
	8.4		Přijeli jste do obce a vlevo je restaurace. Podle jakého města dostala tato obec název?	10
	10.0		Vpravo jste minuli dřevěnou tyč s červenými pruhy a 200 m za ní odbočuje doprava panelová cesta, u které roste několik keřů. U keře vpravo hledejte obálku s teoretickými otázkami.	30
	16.0		Značená křižovatka, kde dáváte přednost. Jaký je součet km údajů na modrých směrových ukazatelích před křižovatkou? Pokračujte směrem, do kterého je na modrých směrových ukazatelích jen jeden cíl.	10
	18.7		V obci je vpravo autobusová zastávka a vlevo poštovní schránka. Za kolik hodin od dnešního poledne má být schránka vybrána?	10
	20.1		Sjeli jste z kopce a doprava ukazuje modrá směrová cedule. Do tohoto směru odbočte.	
	20.3		Podjeli jste viadukt a za ním se cesta rozdvouje. Pokračujte tam, kam značená cyklotrasa.	

20.8		Vlevo jste minuli dům č. 2. Odbočte na cestu po značené cyklotrase a dejte se z kopce (ne podél zdi).	
21.0		Minuli jste značku stezka pro cyklisty. Pokračujte dále.	
21.2		Přijeli jste na asfaltku. Pokračujte dále.	
21.8		Přijeli jste k mostu. Přejeďte přes něj řeku a za ním pokračujte po cyklostezce vedené vlevo od silnice.	
22.1		Přijeli jste ke kruhovému objezdu. Dejte se vlevo směrem k malému bílému kostelu a pokračujte po cyklostezce.	
22.4		Projíždíte kolem velkého modelu hodin. Zde vám pořadatelé zadají úkol.	! 40
		Čeho jsou tyto hodiny replikou? Pokračujte po nábřeží.	10
23.4		Vlevo je nad řekou několik barevných tyčí. Kolik z nich je červeno-bílých? Pokračujte po značené cyklotrase.	10
23.6		Přijeli jste k rozcestníku turistických cest. Pokračujte stále po značené cyklotrase.	
23.9		Rozcestník značených cyklotras. Pokračujte po té, do jejíhož směru je nejvyšší součet kilometrů údajů.	
 25.6		Přejíždíte most vedoucí do oblouku, který je lemovaný zábradlím z lan. Kolik je na mostě svislých kovových sloupků?	10
26.8		Minuli jste odpadkový koš a dojeli k infotabuli "4/4". Kolik procent obyvatel měl Suchý Důl v roce 1991 oproti roku 1930?	10
27.8		Přijeli jste na asfaltku. Pokračujte dále.	
28.6		Minuli jste popelnice a značená cyklotrasa odbočuje prudce doprava. Odbočte také a držte se značené cyklotrasy.	
29.4		Přejeli jste most. Pokračujte stále po značené cyklotrase.	
30.7		Projeli jste viaduktem. Za ním je vlevo kamenná zeď. U jejího začátku hledejte obálku s teoretickými otázkami. Pokračujte vlevo a stále se držte značené cyklotrasy.	30
31.5		Projeli jste bránou a dojeli na asfaltku. Vydejte se po ní směrem ke značce parkoviště.	
31.7		Hlavní silnice odbočuje doprava. Jaké číslo má dům, ve kterém sídlí městský úřad? Pokračujte směrem, ve kterém máte přednost před protijedoucími vozidly.	10
32.4		Před mostem, který lemuje červené zábradlí, odbočte na dlážděnou cestu.	
 32.6		Vlevo je restaurace. Pokračujte cestou, která se v zimě neudrhuje.	
33.7		Minuli jste popelnice a cesta se rozdvouje. Pokračujte po značené cyklotrase. Na jaký nápoj je reklama na proutěné stavbě za křižovatkou?	10
35.1		U domu č. 370 se cesta rozdvouje. Pokračujte stále po značené cyklotrase.	
36.3		Vyjeli jste na kopec a u domu č. 86 se vám otevřel výhled do krajiny. Jak se jmenuje nejbližší vrchol na druhé straně řeky proti vám? Pokračujte stále po značené cyklotrase.	10

		37.1	Vlevo je červené zábradlí a vpravo je v zahradě pod roztrhanou plachtou bílý automobil. Co je to za značku a typ?	10
		38.1	U autobusové zastávky jste přijeli na křižovatku, kde dáváte přednost. Pokračujte na most. Kolik má zábradlí po pravé straně mostu svislých sloupků? (počítejte jen ty od země)	10
		39.7	Vpravo je hospoda. Pokračujte dále.	
		39.9	Na křižovatce za obecním úřadem se dejte do zákazu vjezdu vozidlům nad 7 tun.	
		42.1	Vlevo je dřevěný přístřešek se stolem a lavičkami. Zde vám pořadatelé zadají úkol.	40
		46.6	V obci jste projeli viaduktem. Hned za ním se dejte vlevo. Následně míjíte železniční semafor (návěstidla). To k vám blíže má čtyři světla. Jaké jsou jeho jednotlivé barvy odshora dolů? Pokračujte po značené cyklotrase.	10
		50.3	Přijeli jste na asfaltku a vlevo je hned u cesty posed. Kolik příček má žebřík na posed?	10
		50.9	V obci jste přijeli na křižovatku, kde dáváte přednost. Dejte se z kopce a pokračujte po hlavní silnici.	
		51.7	Asi 400 m za cedulí konce obce je vpravo černý kříž. U stromu naproti hledejte obálku s teoretickými otázkami.	30
		52.0	Přijeli jste do obce. Jaké číslo má dům sboru dobrovolných hasičů?	10
		52.4	U autobusové zastávky jste přijeli na křižovatku, kde dáváte přednost. Pokračujte kolem domu č. 99.	
		54.9	Vpravo je autobusová zastávka a telefonní budka. Jaké číslo je do telefonní budky?	10
		57.0	Vpravo ke dřevěný most. Kolik je v něm okének?	10
		58.7	Přejíždíte most. Pokračujte dále.	
		61.3	Přijeli jste do obce. Pokračujte až k hospodě U Dvořáků.	
		61.4	CÍL - Dubina, hospoda U Dvořáků.	