
















Základní poučení

- ❶ není-li v textu uveden směr, vede trasa po hlavní silnici; pokud nelze určit průběh hlavní silnice, vede trasa rovně
- ❷ symbol  vyznačuje úsek, kde se jede stále po asfaltce
- ❸ symbol  vyznačuje cestu, případně úsek, kde se střídavě mění cesta v asfaltku a naopak
- ❹ symbol  vyznačuje úsek, na kole sjízdný jen obtížně
- ❺ značka  označuje místo, kde je schována obálka s teoretickými otázkami; list s otázkami si vždy ponechte – slouží jako důkaz o projetí stanovištěm a za jeho předložení v cíli obdržíte body (první číslo); za správně zodpovězené otázky pak obdržíte také body (druhé číslo)
- ❻ značka  označuje místo, ke kterému je v textu kontrolní otázka, sloužící jako důkaz o projetí stanovištěm; číslo udává body za její správné zodpovězení
- ❼ maximální možný počet bodů je 430
- ❽ časový limit je 8 hodin; za každou minutu po vypršení limitu se odečítá jeden bod

Trasa 1. etapy závodu

0,0		V okolí vidíte ruinu bývalého hotelu. Vydejte se podél ní nahoru do kopce (tachometr si vynulujte na úrovni vstupních dveří hotelu).	
1,2		Po levé straně je planina a na jejím konci dřevěné odpočívadlo. Z kolika úzkých kulatých trámků se skládá konstrukce jeho střechy? Pokračujte dále po silnici do kopce.	10
2,7		Projíždíte obcí. Jaký dopravní prostředek stojí na skruži před zeleným domem?	10
4,8		Přijeli jste do obce. Jaké číslo budete volat na plynovou pohotovost? Pokračujte dále a na křižovatce v obci se vydejte směrem zákazu vjezdu nákladních vozidel.	10
6,6		Projíždíte kolem přírodní památky. Kdo nakreslil vřesovec plet'ový?	10
9,3		V obci je po pravé straně modrá schránka. Čemu pomáhá samolepka na jejích prvních dvířkách?	10
9,6		Na křižovatce v obci pokračujte po hlavní silnici (doprava).	
11,2		Přijeli jste na křižovatku. Poblíž se nachází strom č. 278. Zde hledejte obálku č. 1 s teoretickými otázkami. Na křižovatce se vydejte směrem, kde se silnice v zimě neudrzuje.	40
12,0		Po levé straně mýjíte 2 velké zelené brány. Kolik úzkých svislých sloupků je na obou branách dohromady?	10
14,0		Přijeli jste ke křižovatce. Jakou rostlinu nakreslil J. Hošek? Na křižovatce jed'te vlevo.	10
15,0		Projíždíte kolem odpočívadla. Ve kterém roce byla zrušena mnichovská šibenice?	10
16,0		Přijeli jste v obci k hlavní silnici. Vydejte se doprava a na další značené křižovatce směrem "MAGNESIA".	

18,0		Odbočte směrem "ubytování"	
18,5	⊙	Rozbitá cesta se opět mění v asfaltku. Jaké číslo má dům, u kterého se nachází hodnotná roubená stodola s hrázděnou kolnou?	10
19,2		Přijeli jste k hlavní silnici. Vydejte se z kopce.	
19,8	▢	Obcí projed'te po hlavní silnici.	
23,1	⊙	Projíždíte velmi romantickou osadou. Jakou max. rychlostí se smí jet v areálu, kde stojí vrak traktoru?	10
24,5	▢	Přijeli jste do obce, pokračujte po hlavní silnici.	
25,2		Na křižovatce uprostřed obce, kde dáváte přednost, se vydejte dolů.	
26,0		Po pravé straně je červená prodejna potravin. Hned za ní odbočte vlevo do ulice pojmenované po konzumentech stavebního materiálu.	
27,6	✉	Po pravé straně je sloup elektrického vedení. Zde hledejte obálku č. 2 s teoretickými otázkami.	40
28,0		Přijeli jste k hlavní silnici. Pokračujte rovně.	
28,5	◇	Přijeli jste k pořadatelskému stanovišti. Zde obdržíte od pořadatelů zvláštní úkol.	40
31,4	⊙	Po pravé straně je odpočívadlo. Který den v týdnu se narodil pán, který u něj má pomník?	10
34,1	⊙	Projíždíte obcí. Jací ptáci se nalézají na sloupku č. 1?	10
36,6		Přijeli jste na značenou křižovatku. Vydejte se směrem, kde je na ukazateli součet 11.	
37,7	✉	Po pravé straně je modrá cedule. Zde hledejte obálku č. 3 s teoretickými otázkami.	40
40,0	⊙	Přijeli jste na značenou křižovatku. V jakém č.p. se prodává štípané dřevo? Pokračujte směrem "popozítří".	10
43,0		Přijeli jste na křižovatku, kde dáváte přednost; vydejte se doleva.	
43,5		Přijeli jste na další křižovatku, kde dáváte přednost; vydejte se do kopce.	
44,0	⊙	Opouštíte obec. Z jakého roku je zemědělská stavba po levé straně?	10
46,6	✉	Přijeli jste k mostu. U trojúhelníkové značky před ním hledejte obálku č. 4 s teoretickými otázkami. Pokračujte dále po hlavní silnici.	40
48,5	▢	Přijeli jste do obce; na křižovatce se zrcadlem pokračujte rovně.	
48,8		Pokračujte směrem, kam ukazuje modrý ukazatel.	
49,2		Na značené křižovatce odbočte z hlavní doprava.	

50,6	●	Přijeli jste do obce. Jakou barvu mají vrata do areálu po pravé straně?	10
53,0	●	Na značené křižovatce pokračujte po hlavní silnici. Jakou barvu má odpadkový koš v zastávce?	10
54,2		V obci na značené křižovatce pokračujte směrem, kam ukazuje na modrém ukazateli směrovka s jedním cílem.	
54,9	●	Projíždíte křižovatkou. Z kolika prken se skládá na blízském posedu stěna vpravo od žebříku? Pokračujte rovně v původním směru.	10
57,0	✉	Přijeli jste ke značené křižovatce. U modré obdélníkové cedule hledejte obálku č. 5 s teoretickými otázkami. Pokračujte rovně po hlavní silnici.	40
59,2	●	Na značené křižovatce pokračujte po hlavní silnici. Jakou SPZ měl autobus karlovarské MHD evidenčního čísla, které vidíte na žluté ceduli se symbolem jízdního kola?	10
60,9		Přijeli jste k hlavní silnici. Pokračujte směrem, kde stojí socha.	
61,7	●	Na značené křižovatce odbočte doleva. Jaká škola se nachází po pravé straně?	10
62,0		Na křižovatce pokračujte rovně.	
63,7		Asfaltka se větví; pokračujte vlevo.	
64,3		Přijeli jste ke kempu; zde je cíl 1. etapy.	