






















Základní poučení

- ❶ není-li v textu uveden směr, vede trasa po hlavní silnici; pokud nelze určit průběh hlavní silnice, vede trasa rovně
- ❷ symbol  vyznačuje úsek, kde se jede stále po asfaltce
- ❸ symbol  vyznačuje cestu, případně úsek, kde se střídavě mění cesta v asfaltku a naopak
- ❹ symbol  vyznačuje úsek, na kole sjízdný jen obtížně
- ❺ značka  označuje místo, kde je schována obálka s teoretickými otázkami; list s otázkami si vždy ponechte – slouží jako důkaz o projetí stanovištěm a za jeho předložení v cíli obdržíte body (první číslo); za správně zodpovězené otázky pak obdržíte také body (druhé číslo)
- ❻ značka  označuje místo, ke kterému je v textu kontrolní otázka, sloužící jako důkaz o projetí stanovištěm; číslo udává body za její správné zodpovězení
- ❼ maximální možný počet bodů je 290
- ❽ časový limit je 5 hodin; za každou minutu po vypršení limitu se odečítá jeden bod

Trasa 2. etapy závodu

0,0		Vyjed'te z brány kempu a vydejte se doleva.	
0,7		Dojeli jste k asfaltce; pokračujte doprava.	
1,8		Na značené křižovatce pokračujte do obce; na následující křižovatce po hlavní silnici. V jakém státě se nachází město z domu č.p. 32?	10
3,0		Přijeli jste na křižovatku, kde dáváte přednost. Odbočte doleva.	
5,7		Na značené křižovatce za koncem obce odbočte doprava.	
6,3		Po pravé straně je rezavý sloupek označující geodetický bod. U něj hledejte obálku č. 1 s teoretickými otázkami.	40
11,1		Přijeli jste k hlavní silnici. Pokračujte opačným směrem, než kde je vidět zábradlí.	
13,0		Na křižovatce uprostřed obce, kde dáváte přednost, se vydejte dolů.	
14,4		Na značené křižovatce před mostem se zeleným zábradlím odbočte z hlavní silnice.	
15,3		Po pravé straně je velký industriální objekt. Jaké typy nákladních vozidel stojí za jeho bránou?	10
16,6		Na značené křižovatce pokračujte rovně.	
17,4		Vpravo odbočuje lesní cesta, kam je zákaz vjezdu motorových vozidel. U této značky hledejte obálku č. 2 s teoretickými otázkami. Pokračujte dále v původním směru.	40
18,0		Po levé straně je odpočívadlo. Zde obdržíte od pořadatelů zvláštní úkol.	40
19,5		Projíždíte obcí. Kdy bude možné v Mrázově odevzdat objemný odpad?	10
20,0		Přijeli jste k hlavní silnici. Vydejte se směrem, kde stojí označnick zastávky bez čekárny.	
22,2		Přijeli jste do obce. Pokračujte po hlavní silnici. Kdy byl založen královský pivovar Krušovice?	10

22,6		Na značené křižovatce za koncem obce odbočte z hlavní silnice.	
24,1	✉	Po pravé straně odbočte do lesa cesta se zákazovou značkou a červenobílou závorou. U závoru hledejte obálku č. 3 s teoretickými otázkami. Pokračujte dále v původním směru.	40
25,8	⊙	Projeli jste obcí. Jaké č.p. má poslední dům po levé straně?	10
27,0	⊙	Blížíte se k obci. Jaké zvíře stojí po pravé straně?	10
27,7	⊙	Přijeli jste ke křižovatce, kde dáváte přednost. V jaké jste nadmořské výšce? Vydejte se doprava a následně pokračujte po hlavní silnici.	10
29,9		Vyjeli jste z obce, pokračujte po hlavní.	
31,7	⊙	Přijeli jste do obce. Jaké číslo má zdejší provozní středisko vodáren a kanalizací?	10
32,5	⊙	Projíždíte obcí. Jakou barvu má dům, kde se ohlašují požáry?	10
36,5	✉	Vpravo odbočte nezpevněná cesta do zákazu vjezdu. U stromu se zelenou značkou hledejte obálku č. 4 s teoretickými otázkami. Pokračujte dále v původním směru.	40
37,4		Na křižovatce se vydejte dolů a následně do jednosměrky.	
37,8	⊙	Přejeli jste most. Po pravé straně je cíl II. etapy.	