

Kontakt na pořadatele
v případě nouze:
606 094 101, 603 848 690

Tento prospekt si můžete stáhnout
v elektronické podobě na adrese:
www.k293.cz/prospekt8624.pdf


























Základní poučení

- není-li v textu uveden směr, vede trasa po hlavní silnici; pokud jedete po vedlejší silnici nebo křižovatka není nijak značena, vede trasa rovně
- symbol vyznačuje úsek, kde se jede stále po asfaltce
- symbol vyznačuje cestu, případně úsek, kde se střídavě mění cesta v asfaltku a naopak
- symbol vyznačuje úsek na kole sjízdný jen obtížně
- značka označuje místo, ke kterému je v textu kontrolní otázka, sloužící jako důkaz o projetí stanovištěm; číslo udává body za její správné zodpovězení
- značka označuje místo, kde je schována obálka s teoretickými otázkami; číslo udává body za správné zodpovězení otázek
- značka označuje místo, kde se plní zvláštní úkol, jehož zadání se dozvíte až na tomto místě
- značka označuje stanoviště, v jehož blízkosti se nachází restaurace nebo jiná možnost občerstvení
- maximální možný počet bodů je 400
- časový limit je 7 hodin; za každou minutu po vypršení limitu se odečítá jeden bod
- čas závodění jednotlivých skupin končí, pokud jsou v místě cíle všichni závodníci příslušného družstva a družstvo odevzdalo vyplněný formulář na odpovědi

Trasa 2. etapy závodu

| | | | | |
|--|-----|--|---|------|
| | 0.0 | | START. Vydejte se z kopce a u žluté boudy po 100 m nejezděte do zákazu vjezdu. | |
| | 2.4 | | Přejeli jste most s dřevěnými svodildly a dojeli na křižovatku tvaru T. Pokračujte opačným směrem, než ve kterém je vidět cedule konce obce. | |
| | 2.8 | | Vpravo je parkoviště s vyznačenými místy pro stání. Některé čáry jsou už hodně vybledlé. Kolik zde bylo původně vyznačeno míst pro parkování? | 10 |
| | 3.4 | | Doleva je odbočka se značkou pozor děti. Vydejte se do ní. | |
| | 3.5 | | Vpravo je hřiště. Pokračujte rovně do kopce a za bílou stavbou doleva. | |
| | 3.7 | | Vlevo je parkoviště. Zde vám pořadatelé zadají úkol. Pak se vraťte k bílé budově a těsně před ní se dejte vlevo. | ! 40 |
| | 4.0 | | Vyjeli jste z obytné zóny. Pokračujte směrem ke značce pozor děti. | |
| | 4.3 | | Vpravo jste minuli autobusovou zastávku a proti vám je zelený nápis „LÉKÁRNA“. Pokračujte směrem, ve kterém je vidět značka zákazu vjezdu nad 3,5 t a kolem ní dále. | |
| | 4.5 | | Vlevo je zelené zábradlí. Odbočte kolem něj. | |
| | 5.2 | | Hlavní silnice odbočuje doprava. Jakého ptáka mají u čísla 12 na domě proti vám? Pokračujte podél tohoto domu - z kopce. | 10 |
| | 5.8 | | U značky slepá ulice pokračujte ke značce nebezpečné stoupání. | |
| | 6.7 | | Vlevo je dřevěný rozcestník se stříškou. Kolik je na směrovkách celkem písmen „n“? | 10 |
| | 7.4 | | Rovně i doprava je slepá ulice. Vydejte se tou k zelenému kontejneru. Na co je tento kontejner? | 10 |

| | | | |
|--|---|---|----|
| 7.8 |  | Vpravo je strom s velkým červeným číslem 112. U lampy naproti hledejte obálku č. 1. | 30 |
| 8.2 | | Asfaltka se změnila na cestu. Pokračujte dále. | |
| 8.5 | | Na rozcestí pokračujte opačným směrem, než je slepá ulice. | |
| 9.7 |  | Jedete kolem restaurace. Jaký pták se nachází na lavičce před restaurací? Pokračujte dále (neodbočujte). | 10 |
| 10.6 |  | Dojeli jste na křižovatku, u které je dřevěná bouda a dvě mapy. Kolik metrů ve skutečnosti je jeden centimetr na mapě vlevo? Pokračujte kolem boudy a na další křižovatce po 30 m se dejte směrem zelené šipky s kolem. | 10 |
|  11.9 | | Další křižovatka se dvěma mapami. Opět pokračujte směrem zelené šipky s kolem a držte se stejného typu cesty. | |
| 12.8 | | Křižovatka cest. Vydejte se do kopce - směrem k dřevěné boudě. | |
| 12.9 | | Přijeli jste na asfaltku. Pokračujte dále. | |
| 13.6 | | Vlevo je tabule „Krušnohorský les“. Přečtěte si ji a pokračujte dále. | |
| 14.9 | | Přijeli jste na křižovatku. Pokračujte do obce. | |
| 15.1 |  | Vlevo jsou schody. Vyjděte je a nahoře vám dají pořadatelé úkol. | 40 |
| 15.3 |  | Rozcestí, u kterého je informační tabule „Ze světa bylin a trav“. Jak se nazývá rostlina, jejíž dva listy mohou otrávit i člověka? Pokračujte směrem ke staré rezavé závoře. | 10 |
|  16.8 |  | Vlevo je rozcestník značených turistických cest. Kolik je na rozcestníku samohlásek? Pokračujte rovně a rovně pokračujte i na následujících dvou rozcestích. Až vyjedete z lesa, dbejte při sjezdu zvýšené opatrnosti (vymletá cesta). | 10 |
| 18.2 |  | Přijeli jste na rozcestí, u kterého je rozcestník se stříškou. Na něm je mapa lyžařských tras. Kolik je na mapě značek parkoviště (bílé P v modrém čtverci)? Pokračujte podél červených sloupků. | 10 |
| 19.9 | | Vystoupali jste kopec a dojeli na větší rozcestí. Vydejte se směrem, do kterého ukazuje směrovka s nejnižším součtem km údajů. | |
| 20.0 |  | Vlevo je hned u cesty feromonový kůrovcový lapač. Kolikátého proběhla jeho první kontrola v měsíci září? | 10 |
| |  | U nejbližšího sloupu elektrického vedení hledejte obálku č. 2. Pokračujte dále. | 30 |
| 22.0 |  | Vpravo je osamocený dům a vlevo dřevěná lavička. Kolik cm měří sedadlo lavičky na délku? (měřte veprostřed) | 10 |
| 22.3 | | Rozcestí čtyř cest - pokračujte rovně. | |
|  22.6 | | Vyjeli jste z lesa a po 150 metrech se cesta rozdvouje. Pokračujte tou více z kopce. | |
| 23.1 | | Neodbočujte do kopce. | |
| 24.5 |  | Sjeli jste z kopce a vpravo je dřevěná bouda. Zde vám pořadatelé zadají úkol. | 50 |
| |  | Pokračujte přes most. Kolik svislých příček má zábradlí mostu na pravé straně? Za mostem se dejte opačným směrem, než ve kterém je informační tabule s mapou. | 10 |

- 26.0 ✕  Značená křižovatka.
 Ve kterém měsíci se zde konal Dětský maškarní bál?
 Pokračujte po hlavní silnici a za autobusovou zastávkou se dejte do kopce. 10
-  26.3 Vystoupali jste na kopec. Pokračujte rovně (neodbočujte z kopce).
- 26.6 Za přejezdem se dejte směrem, ve kterém vidíte vykřičník ve žlutém trojúhelníku.
- 28.3  Minuli jste několik chatek a dojeli k rozcestníku.
 Asi 6 metrů za stromem s rozcestníkem jsou 2 kameny. U nich hledejte obálku č. 3.
 Pokračujte rovně. 30
- 29.4  Za žlutou cedulkou je dřevěná bouda se stolem a lavičkami.
 Na jednom z obrázků v boudě je lanovka. Jak se jmenuje hora na pozadí tohoto obrázku? 10
- 31.0 Cesta se rozdvouje doleva a doprava. Držte se stejného typu cesty.
- 31.2  Vpravo je lavička. Kdo zde má pomník? 10
-  31.5 Cesta se opět rozdvouje. Nevydávejte se tudy.
- 33.7  Minuli jste rozcestník značených turistických cest a dojeli k silnici.
 Pořadatelské stanoviště. Zde vám pořadatelé zadají úkol. 10
 Jak byla zdejší zaniklá osada před rokem 1945 nazývána?
 Po silnici se vydejte do kopce. 10
- 36.4  Přijeli jste na křižovatku, kde dáváte přednost. Naproti vám je u křižovatky šedý dům.
 Kolik oken má tento dům na stránách u silnice?
 Pokračujte do zóny zákazu vjezdu nákladních vozidel nad 10 t. 10
- 36.7 Za cedulí konce obce odbočte na stezku pro chodce a cyklisty.
- 38.8 Přijeli jste na náměstí. Pokračujte rovně až ke světlu zelenému domu s cedulí za oknem „na prodej“.
-  38.9  CÍL - Abertamy, náměstí - hospoda Aberthamka.