




























Kontakt na pořadatele
v případě nouze:
603 187 023, 775 011 794

Základní poučení

- není-li v textu uveden směr, vede trasa po hlavní silnici; pokud jedete po vedlejší silnici nebo křižovatka není nijak značena, vede trasa rovně
- symbol  vyznačuje úsek, kde se jede stále po asfaltce
- symbol  vyznačuje cestu, případně úsek, kde se střídavě mění cesta v asfaltku a naopak
- symbol  vyznačuje úsek na kole sjízdný jen obtížně
- značka  označuje místo, ke kterému je v textu kontrolní otázka, sloužící jako důkaz o projetí stanovištěm; číslo udává body za její správné zodpovězení
- značka  označuje místo, kde je schována obálka s teoretickými otázkami; číslo udává body za správné zodpovězení otázek
- značka  označuje místo, kde se plní zvláštní úkol, jehož zadání se dozvíte až na tomto místě
- značka  označuje stanoviště, v jehož blízkosti se nachází restaurace nebo jiná možnost občerstvení
- maximální možný počet bodů je 640
- časový limit je 8,5 hodin; za každou minutu po vypršení limitu se odečítá jeden bod
- čas závodění jednotlivých skupin končí, pokud jsou v místě cíle všichni závodníci příslušného družstva a družstvo odevzdalo vyplněný formulář na odpovědi

Trasa 1. etapy závodu

0.0		START - záchytné parkoviště Hradčany - po panelové cestě opusťte parkoviště.	
0.4		Objedte betonové zátarasy a pokračujte dál ve směru k modré značce.	
		Které dvě hory vidíte po levé straně, jednu blíže, druhou poměrně daleko?	10
2.9		Dojeli jste na konec rovné betonové plochy. Odbočte vpravo směrem k závoře.	
3.1		Odbočte do chráněné krajinné oblasti.	
3.5		Pokračujte po asfaltové cestě podél elektrického vedení.	
5.1		Opatrně přejedte silnici.	
		V kolik přijede první nedělní autobus odtud do Bílé Hlíny?	10
7.8		Odbočte vlevo.	
10.0		POZOR: Písek!!!	
10.4		Pod lípou hledejte obálku č. 1.	30
10.5		Odbočte vpravo.	
12.8		Přijeli jste k průchozím vratům přes silnici. Projedte jimi.	
		Kolik je součet arabských čísel na sloupech, které jste právě minuli po levé straně?	10
16.5		Odbočte vpravo.	
		Ze kdy je první písemná zmínka o Zubrech v Čechách?	10
20.9		Přijeli jste k průchozím vratům přes silnici. Projedte jimi.	
		Kolik je příčných tyčí na "mostku" při výjezdu z obory	10
22.2		Odbočte na malou asfaltku podél elektrického vedení.	
22.4		Asfaltka končí, odbočte vpravo.	

- 22.5 Odbočte po asfaltové cestě mezi stromy přes oranžový nápis „start“ na zemi.
- 23.0 Přijeli jste ke kontejnerům na tříděný odpad. Odbočte vlevo.
- 23.1 Přijeli jste na hlavní silnici. Po pravé ruce máte pomník obětem 1. světové války.
 V kolika zemích padli vzpomínání obyvatelé obce? 10
 Přejeďte silnici, odbočte vlevo a jeďte podél ní po chodníku se zámkovou dlažbou.
- 23.6 Sjíždíte z chodníku. Odbočte a pokračujte souběžně s hlavní silnicí kolem obecního úřadu.
 Kdo má na starosti v Ralsku městskou zeleň? 10
- 27.2 Odbočte vpravo.
- 27.7 Odbočte vlevo.
- 28.0 Odbočte vpravo.
- 28.1 Pokračujte rovně směrem k modré maringotce.
- 29.5 Držte se po větší cestě a odbočte doprava.
- 29.7 Odbočte vlevo.
- 31.2 Na okraji lesní školky hledejte obálku č. 2. 30
 Poté odbočte vpravo a po 20 metrech zase vpravo.
- 34.8 Míjíte odbočku doleva ze silnice do lesa. Tam vám pořadatelé zadají úkol. 150
- 35.9 Odbočte vpravo, na dalším rozcestí vlevo a po pár metrech, před zákazem vjezdu sjeďte z asfaltky na šotolinovou cestu doleva.
 POZOR: Pojedete z velkého kopce po šotolinové cestě přehrazené retardérem!!!
- 36.1 Vjíždíte na silnici. Odbočte doprava a po 70 metrech doleva přes hráz.
 Za hrází se cesta stáčí doleva do kopce.
- 36.5 Vyjeli jste na kopec, pokračujte rovně přes kočičí hlavy.
 Po 30 metrech, na další křižovatce odbočte vlevo.
- 36.7 Jeďte z kopce vlevo, po 20 metrech vpravo, po dalších 20 metrech přejeďte hlavní silnici.
- 36.9 Přijeli jste ke kostelu.
 Který český vědec zde žil a bádal v letech 1860-82 a je pohřbený na hřbitově u kostela? 10
 Pokračujte dál ve stejném směru.
- 37.2 Najděte pomník, na kterém jsou písmena ACDFILMSVX a žádná jiná. Komu je věnován? 10
 Přesuňte se přes náměstí diagonálně naproti místu, kudy jste na něj vjeli.
 Přejeďte po přechodu k obchodu patřícímu Anně a pak po dalším přechodu směrem od tohoto obchodu. Odbočte do ulice s panelovým domem.
- 37.3 Zde se můžete naobědvat.
 Pokračujte dál podél paneláku, přes jednu ulici.
- 37.4 Odbočte vlevo.
- 37.6 Dojeli jste na konec ulice. Odbočte vlevo a pak hned vpravo.
- 38.9 Vzhůru za odpočinkem a dobrodružstvím.

39.5	○	Kdo bude chycen do fotopasti, bude-li zde krást?	10
39.8		Stále vzhůru za odpočinkem.	
40.3	○	Odbočte směrem k zaslouženému odpočinku. Jaká je délka in-line dráhy v areálu?	10
40.9	✕	Restaurace	
41.7	○	Jste na odbočce k rozhledně. Kterému zvířeti se přezdívalo Kozodoj?	10
42.0		Odbočte kam neukazuje červená šipka.	
42.7		Odbočte vpravo směrem k hradu.	
43.7		Před značkou slepá ulice odbočte doleva. U značky hledejte obálku č. 3.	30
43.8		Pokračujte kolem kontejnerů na tříděný odpad směrem k hradu, kam ukazuje bílo-oranžová směrovka.	
45.4		Odbočte směrem, kam ukazují šipky se součtem 49 kilometrů.	
45.7		Odbočte kolem kostela.	
45.8	○	Stále kolem kostela do kopce. Jak se jedním slovem řekne číslo uvedené na čísle popisném správy hradu?	10
46.0		Odbočte vlevo.	
46.2	○	Odbočte vlevo kolem restaurace. Kolik improvizovaných laviček (prkno na dvou špalcích) je připraveno k sezení u Amfiteátru?	10
46.3		Odbočte z kopce dolů.	
46.4		Držte se vpravo.	
46.5		Odbočte k parkovišti.	
46.7		Jedťe ke kostelu, kolem kterého jste již jednou jeli.	
46.8		Pokračujte tam, odkud vyjíždějí hasičská vozidla.	
47.0		Pokračujte z kopce ve směru červené šipky.	
48.2		Pokračujte po Lesní cestě a držte se na cyklostezce.	
49.9		Odbočte vpravo.	
51.1		Odbočte vpravo.	
53.5	✕	Sjeli jste po kamenité cestě s kopce na křižovatku. Obálku č. 4 hledejte pod vyvráceným pařezem. Doleva vede hlinitopísčitá cesta. Vydejte se po ní.	30
54.1		Přijeli jste na mítinku. Pokračujte rovně kolem hromady klád.	
54.6	◆	Přijeli jste na šotolinovou cestu. Zde vám pořadatele zadají další úkol.	220

- Pokračujte rovně a po 20 m odbočte doleva.
- 57.0 Přijeli jste na rozcestí. Odbočte vlevo.
- 55.9 Odbočte vlevo.
- 58.1 Odbočte vpravo.
- Jaká byla roční přepravní kapacita Rečkovské lesní dráhy? 10
- 59.6 Opusťte cyklotrasu a pokračujte rovně (cyklotrasa se stáčí vpravo).
- 61.6 Přijeli jste na zelenou turistickou trasu. Pokračujte rovně po ní.
- 61.9 Dojeli jste k rozcestníku. Pokračujte po turistické trase ve směru s největším součtem kilometrů.
- 62.9 Po pravici máte domy. Pokračujte rovně.
- 63.0 Držte se vpravo.
- 63.1 Odbočte vpravo. Pak přejeďte hlavní silnici.
- 63.6 Odbočte vpravo.
- 63.8 🚩 CÍL - Dojeli jste ke vjezdu do oploceného pozemku.