



























Kontakt na pořadatele
v případě nouze:
603 187 023, 775 011 794





























Základní poučení

- není-li v textu uveden směr, vede trasa po hlavní silnici; pokud jedete po vedlejší silnici nebo křižovatka není nijak značena, vede trasa rovně
- symbol  vyznačuje úsek, kde se jede stále po asfaltce
- symbol  vyznačuje cestu, případně úsek, kde se střídavě mění cesta v asfaltku a naopak
- symbol  vyznačuje úsek na kole s jízdný jen obtížně
- značka  označuje místo, ke kterému je v textu kontrolní otázka, sloužící jako důkaz o projetí stanovištěm; číslo udává body za její správné zodpovězení
- značka  označuje místo, kde je schována obálka s teoretickými otázkami; číslo udává body za správné zodpovězení otázek
- značka  označuje místo, kde se plní zvláštní úkol, jehož zadání se dozvíte až na tomto místě
- značka  označuje stanoviště, v jehož blízkosti se nachází restaurace nebo jiná možnost občerstvení
- maximální možný počet bodů je 736
- časový limit je 7,5 hodin; za každou minutu po vypršení limitu se odečítá jeden bod
- čas závodění jednotlivých skupin končí, pokud jsou v místě cíle všichni závodníci příslušného družstva a družstvo odevzdalo vyplněný formulář na odpovědi

Trasa 2. etapy závodu

0.0		START - Z brány se vydejte prudce vlevo.	
0.1		Odbočte vlevo.	
0.3		Pokračujte rovně a poté prostřední cestou (levá vede kolem borovicového lesíku, pravá se stáčí k chatě).	
0.4		Držte se vlevo.	
0.5		Dojeli jste na písčitou cestu. Pokračujte po ní vlevo.	
0.6		Odbočte vpravo a jedte podél plotu.	
0.7		Dojeli jste na asfaltku. Odbočte vpravo k bráně do autokempu. Před branou odbočte vlevo a pokračujte po asfaltce.	
0.8		Kolik bylo během uplynulých 100 let v této lokalitě zjištěno druhů zvláště chráněných ptáků?	10
1.2		Sjedte z asfaltky na žlutě značenou lesní cestu.	
1.3		Jedte přes most.	
		Jak se jmenuje potok, přes který most vede?	10
1.7		Dojeli jste na dlážděnou cestu. Přejedte jí a pokračujte prostřední asfaltovou cestou.	
2.2		Asfaltka končí. Pokračujte rovně podél plotu.	
2.9		Pokračujte po stezce pro chodce a cyklisty.	
		Kolik zde stojí vypůjčení rybářského prutu?	10
3.8		Pokračujte tam, kam ukazuje nejvíc šipek.	
		Jaké IČO má společnost Severočeské vodovody a kanalizace, a.s.?	10
4.0		Pokračujte rovně. Po levé straně máte tenisové kurty.	
		Kdo zde koncem června 2020 vyhrál ženské singly?	10

4.1	Jedťte směrem ke vlakové stanici.	
4.2	Pokračujte přes trať.	
4.5	Opatrně přejeďte hlavní silnici a pokračujte po šotolinové cestě podél lesa po levé straně. U plotu hledejte obálku č. 1.	30
4.9	Po pravé straně vidíte modré zábradlí se schody. Kolik schodů vede od cesty až nahoru?	10
6.7	Pokračujte po turistické značce.	
7.0	Dojeli jste na rozcestí. Pokračujte ve směru šipky, ne které je součet kilometrů nejbliže 20-ti.	
7.5	Jste u roubeného stavení. Pokračujte rovně po turistické trase.	
7.7	Pokračujte ve směru šipky, na které je součet kilomentů nejbliže 20-ti.	
7.9	Pokračujte rovně.	
9.4	Přijeli jste k rybníku. Pokračujte kolem něj a držte se vpravo. Ve kterém roce byla obec elektrifikována?	10
10.9	Držte se vlevo.	
11.0	Jedťte rovně po lepší cestě.	
11.2	Rovně nahoru po horší cestě.	
11.5	Cesta zahýbá vpravo.	
11.7	Vlevo.	
12.1	Odbočte vlevo dolů s kopce.	
12.3	Rovně.	
12.5	Rovně s kopce.	
13.3	Po pravé straně máte sady se stromky pod síťovinou.	
13.9	Dojeli jste na asfaltku. Pokračujte rovně. Co je napsáno na zděném domku v čísle 76?	10
14.2	Pokračujte tak, abyste měli kostel po pravé straně. Za kostelem doprava. Jaký čas ukazují hodiny na věži kostela?	10
14.3	Držte se podél kontejnerů na tříděný odpad a pak podél obecního úřadu. Jaké je číslo na linku psychosociální pomoci pro Liberecký kraj?	10
14.4	Pokračujte tam, kam ukazuje modrá šipka.	
14.7	Odbočte do slepé ulice.	
15.3	Pokračujte po polní cestě vlevo, kam ukazuje žlutá šipka.	
16.0	Přejeli jste přes můstek a vyjeli na silnici. Odbočte vlevo. Jakou frakci štěrku zde skladují?	10

16.3	 Dojeli jste na hlavní silnici. Přejedte jí. Míjíte domy po pravé straně.  Za silnicí u břízky hledejte obálku č. 2.	30
16.7	 Odbočte ke skalám.	
17.6	 Zde vám pořadatelé zadají úkol.	220
18.8	 Směrem za nepříjemnými brouky.	
19.0	 Sjed'te doleva na kamenitou cestu.	
19.4	 Stále dál po kamenité cestě lehce doprava.	
19.5	 Doleva do kopce.	
19.9	 Nalevo míjíte kříž, vlevo před vámi je hřbitov. Kolik trojlístků je vykováno na lavičce?	10
20.3	 Pokračujte po silnici kolem dětského hřiště do obce.	
20.5	 Jaký byl čestný titul vousáče, který se narodil roku 1823?	10
20.7	 Jak starý je památný strom u kostela? Od kostela pokračujte dál po stejné silnici.	10
20.8	 Silnice zatáčí doleva, vy odbočte doprava do zákazu vjezdu.	
20.9	 Doprava kolem zrezivělé železné brány.	
21.0	 Pokračujte podél pole. Po pravé straně rostou třešně.	
21.2	 Dojeli jste na asfaltovou silnici. Pokračujte směrem k velkému kopci v dále.	
23.1	 Počet písmen na jedné šipce vydělte číslem na té samé šipce a výsledkem umocněte číslo na této šipce. Pokračujte směrem, kam ukazuje šipka, na které je vypočítané číslo.	
23.3	 Odbočte vlevo na turistickou trasu.	
24.4	 Opusťte turistickou trasu a pokračujte cestou vlevo.	
24.5	 Dojeli jste na prostranství s ohništěm, přístřeškem a zděnou stavbou. Kdy bylo postaveno vodní zdvihadlo Dřevčice? Odbočte vpravo a jed'te mezi ohništěm a dřevníkem k potoku. Za potokem pokračujte rovně po turistické trase do kopce.	10
25.3	 Pokračujte vpravo po turistické trase.	
25.6	 Dojeli jste na silnici. Pokračujte vpravo.	
27.4	 Pokračujte rovně po stejné silnici.	
29.2	 Odbočte vlevo mezi rodinné domy.	
29.5	 Odbočte vpravo.	
29.6	 Dojeli jste na náměstí.  Jaký je součet všech cifer na sloupu uprostřed náměstí?  Pokračujte kolem místní knihovny.	10

- 29.9 Přijeli jste na křižovatku tvaru T. Pokračujte po dvou turistických trasách.
- 30.1 ✕ Hospoda. Pokračujte, kam ukazuje šipka se součtem 18 km.
- 31.4 Nepřejíždějte potok, ale pokračujte po značené turistické cestě.
- 33.0 Po levé straně máte malé fotbalové hřiště.
 Pod tvárnicí u zadního vchodu na pozemek školy hledejte u něho obálku č. 3. Pokračujte rovně přes hlavní silnici. 30
- 33.3 Dojeli jste k pomníku. Odbočte doprava.
 Které obce založily Peklo? 10
- 33.5 ✕ Hospoda. Odbočte vpravo dolů z kopce.
- 33.6 Po žluté s kopce.
- 33.9 Doleva a pak rovně.
- 34.0 Jste na lávce přes potok. Za potokem doprava a pak stále rovně po cyklotrase.
- 34.5 Rovně.
- 34.8 ✕ Dojeli jste na hlavní silnici. Dojeďte na křižovatku a přejděte silnici na parkoviště. Hospoda.
 Zde vám pořadatelé zadají další úkol. Vraťte se, odkud jste přijeli. 196
- 35.3 Odbočte vpravo.
- 35.6 Odbočte k trojúhelníkové značce.
Hurá za rybami.
- 36.2 Ptačí pozorovatelna. Pokračujte po cyklostezce.
 Které vzácné druhy rostlin můžete najít v této lokalitě? 10
- 40.9 Přejedte silnici a za ní vpravo na konci plotu hledejte obálku č. 4. 30
- 41.5 ✕ Držte se vlevo.
- 42.1 Přejedte koleje.
- 42.2 Odbočte a držte se vpravo.
- 42.7 Odbočte vlevo a jedte po cyklotrase.
- 47.2 Odbočte doprava.
- 47.9 Dojeli jste k dřevěné boudě. Odbočte doprava.
 Který lesnický park byl vyhlášen jako první v ČR? 10
- 50.5 Vjíždíte do obce.
- 50.8 Kolik cyklistů je namalovaných na mapě? A kolik jich bylo na předchozí informační tabuli? Oba údaje sečtěte. 10
- 51.1 CÍL - Dojeli jste do cíle.