






































## Základní poučení

- není-li v textu uveden směr, vede trasa po hlavní silnici; pokud jedete po vedlejší silnici nebo křižovatka není nijak značena, vede trasa rovně
- symbol  vyznačuje úsek, kde se jede stále po asfaltce
- symbol  vyznačuje cestu, případně úsek, kde se střídavě mění cesta v asfaltku a naopak
- symbol  vyznačuje úsek na kole sjízdný jen obtížně
- značka  označuje místo, ke kterému je v textu kontrolní otázka, sloužící jako důkaz o projetí stanovištěm; číslo udává body za její správné zodpovězení
- značka  označuje místo, kde je schována obálka s teoretickými otázkami; číslo udává body za správné zodpovězení otázek
- značka  označuje místo, kde se plní zvláštní úkol, jehož zadání se dozvíte až na tomto místě
- značka  označuje stanoviště, v jehož blízkosti se nachází restaurace nebo jiná možnost občerstvení
- maximální možný počet bodů je 560
- časový limit je 8,5 hodiny; za každou minutu po vypršení limitu se odečítá jeden bod
- čas závodění jednotlivých skupin končí, pokud jsou v místě cíle všichni závodníci příslušného družstva a družstvo odevzdalo vyplněný formulář na odpovědi

## Trasa 1. etapy závodu

0.0		START - Globus Chotíkov, přístřešek na nákupní vozíky. Vyraďte směrem k budově nákupního centra, před ní zabočte doprava a projedte kolem její čelní strany.	
0.3		Na křižovatce typu "T", kde dáváte přednost, jedte směrem, kde vidíte autobusovou zastávku.	
0.4		Za dopravní značkou "nebezpečí smyku" odbočte doleva na panelovou cestu a pokračujte po ní podél šedé ohrady s ostnatým drátem.	
1.0		Panelová cesta se mění v klasickou nezpevněnou, pokračujte rovně podél modrého plotu.	
1.2		Dojeli jste na křižovatku lesních cest u sloupku se žlutou značkou s jízdním kolem. Odbočte doprava a až do odvolání pokračujte po modré turistické značce.	
2.4		Dojeli jste na křižovatku k asfaltce. V jaké nadmořské výšce se nachází střelnice? Odbočte doleva a až do odvolání pokračujte po červené turistické značce.	10
3.8		Přijeli jste na křižovatku s cestou s lepším povrchem. Odbočte na ni do směru, kde vidíte závoru (již nenásledujte červenou TZ).	
4.0		Dojeli jste k silnici. Vydejte se po ní směrem, pro který byl součet kilometrických údajů na ukazatelích před křižovatkou 34.	
5.4		Po obou stranách jsou proti sobě vjezdové brány. Co je v areálu za tou po levé straně?	10
7.5		V obci jste dojeli na křižovatku, kde dáváte přednost. Vydejte se směrem, kde stojí modrý dům. Jaké je jeho č.p.?	10
7.9		Na značené křižovatce v obci pokračujte po hlavní silnici.	
10.0		Dojeli jste na křižovatku u kapličky. Ve kterém roce se narodil Josef Neužil? Pokračujte směrem, kam vedou dlažební kostky.	10
12.0		Na dohled před sebou máte začátek obce. U posledního stromu po pravé straně před obcí hledejte obálku č. 1 s teoretickými otázkami.	40
12.6		Přejeli jste most, pokračujte rovně.	

- 12.8 Hlavní silnice se stáčí doleva, vy odbočte do zákazu vjezdu nákladáků a traktorů a následně opusťte obec po cestě vedoucí podél plotu domu č.p. 101
- 13.9 Přijeli jste k silnici. Opatrně ji přejeďte a pokračujte rovně do lesa.
- 14.3 Přijeli jste na křižovatku více cest. Udržujte původní směr (po průjezdu křižovatkou budete mít po pravé straně 2 blízko sebe rostoucí tenké břízy).  
Rovně jedte i na blízke následující křižovatce.
- 14.9  Dojeli jste na křižovatku s lavičkou. Z kolika prken se lavička skládá? 10  
Vydejte se doprava a až do odvolání následujte červenou turistickou značku.
- 15.7  Přijeli jste k meteostanici. Co se děje, je-li provaz tvrdý? 10  
Pokračujte dále po červené TZ.
- 16.3 Dojeli jste k asfaltce. Pokračujte rovně po červené TZ.
- 16.7 Přijeli jste k hlavní silnici. Odbočte na ni doprava a hned na to před kapličkou vjedte doleva do obytné zóny.
- 16.8 Po levé straně je sloup el. vedení a na něm modrá TZ. Do odvolání ji následujte.
- 17.0 Změna povrchu cesty. Stále následujte modrou TZ.
- 20.4 Přijeli jste do obce na křižovatku typu "T". Odbočte doleva (už nesledujte modrou TZ).
- 20.5 Projedte náves v přímém směru a mezi sloupem s el. vedením a velkým žlutým domem s velikými okny vjedte na šterkovou cestu.
- 21.5  Po pravé straně je mohutný vícekmenný strom a před ním se nachází mraveniště s pneumatikou. Jaká je značka pneumatiky? 10
- 21.9 Dojeli jste ke kraji lesa na křižovatku více cest. Vydejte se doleva (z kopce).
- 22.2 Na křižovatce před tlustými stromy odbočte doprava do lesa. Po levé straně pak budete mít malou dřevěnou budku.
- 22.7  Po levé straně je posed. Kolik vodorovných příček má jeho žebřík? 10
- 23.5  Přijeli jste k silnici. U zděné bílooranžové stavby hledejte obálku č. 2 s TO. 40  
Pokračujte po silnici směrem do obce.
- 24.3  Dojeli jste k hospodě. Jaká zvířata jsou namalována na jejím štítu? 10  
Vřele doporučujeme se zde bohatě občerstvit (dál už to s hospodami nebude nic moc)!
- 24.7 Dojeli jste ke křižovatce, kde dáváte přednost. Pokračujte směrem, do kterého vás navádí žlutá tabulka s jízdním kolem.
- 24.9 Sjedte ze silnice na polní cestu ve směru šipky na žluté tabulce s jízdním kolem.
- 26.7  Přijeli jste k silnici. Pokračujte po ní v témže směru a hned za domem po pravé straně odbočte na šterkovou cestu. Kolik stojí 1 kg medu z místního automatu? 10
- 26.9 Přijeli jste k asfaltce. Vydejte se po ní ven z obce.
- 27.4 Na značené křižovatce pokračujte po hlavní silnici.
- 29.0  Vjeli jste do obce. Jaký klub se nachází po levé straně? Pokračujte po hlavní silnici. 10

30.4		Přejeli jste most se stříbrnými svodidly. U dopravní značky po levé straně hledejte obálku č. 3 s teoretickými otázkami.	40
32.4		Přijeli jste na křižovatku, kde dáváte přednost. Vydejte se do kopce.	
35.3		V obci jste dojeli ke kruhovému objezdu. Pokračujte rovně.	
35.8		Po pravé straně je hospoda. Jaký sport byste si tu mohli zahrát, kdyby nebyla zavřená?	10
36.0		Hlavní silnice se stáčí doprava, vy pokračujte rovně.	
36.6		Pokračujte po hlavní silnici (doleva).	
37.1		Na křižovatce u kamenného sloupu pokračujte rovně.	
39.7		Přijeli jste do obce s jezírkiem. Zde vám pořadatelé zadají zvláštní úkol.	170
39.9		Na křižovatce před kapličkou odbočte do zákazu vjezdu nákladních vozidel.	
41.0		Po levé straně je odpočívadlo s kamenným křížkem. Jaký je na něm letopočet?	10
42.0		V obci jste přijeli na křižovatku, kde dáváte přednost. Vydejte se doleva a na další křižovatce jedte po hlavní (vpravo).	
44.6		Přijeli jste do obce. Kolik stojí kniha "Náš domov"?	10
45.6		Přejeli jste most, za ním se po pravé straně nachází tlustá bříza. U ní hledejte obálku č. 4 s teoretickými otázkami.	40
45.9		Na křižovatce, kde dáváte přednost se vydejte do směru, kde vidíte DZ "Pozor, děti".	
47.2		Na křižovatce, kde dáváte přednost, se vydejte směrem, kde se na modrých ukazatelích před křižovatkou nacházejí 2 cíle.	
49.6		Vjeli jste do obce. Které zvíře má ve znaku?	10
50.8		Přijeli jste do obce. Na značené křižovatce jedte směrem, kde jsou autobusové zastávky.	
55.3		Přijeli jste do obce. V kolik hodin odsud jede v pondělí první autobus do Plzně?	10
56.9		Projíždíte centrem obce. Pokračujte dále.	
57.3		Na značené křižovatce odbočte doprava a pokračujte směrem k růžové kapli. Jak dlouho trvala její výstavba?	10
60.5		Míjíte ceduli označující hranici okresů. U ní hledejte obálku č. 5 s TO.	40
62.5		Na značené křižovatce pokračujte rovně po hlavní silnici.	
65.4		Po pravé straně je posed. Jakou barvu má výplň jeho stěn?	10
67.2		Na značené křižovatce v obci odbočte z hlavní silnice doleva. Co kdysi bývalo ve zchátralé budově u křižovatky?	10
67.4		Na následující křižovatce pokračujte rovně (opustte hlavní silnici).	
69.1		Silnice se rozdvouje, pokračujte pravou větví.	
69.3		Vpravo se nachází kemp - vjedte do něj a pokračujte ke správní budově. CÍL 1. etapy.	