

Kontakt na pořadatele
v případě nouze:
603 848 690

Tento prospekt si můžete stáhnout
v elektronické podobě na adrese:
www.k293.cz/prospekt8058.pdf














Základní poučení

- není-li v textu uveden směr, vede trasa po hlavní silnici; pokud jedete po vedlejší silnici nebo křižovatka není nijak značena, vede trasa rovně
- symbol vyznačuje úsek, kde se jede stále po asfaltce
- symbol vyznačuje cestu, případně úsek, kde se střídavě mění cesta v asfaltku a naopak
- symbol vyznačuje úsek na kole sjízdný jen obtížně
- značka označuje místo, ke kterému je v textu kontrolní otázka, sloužící jako důkaz o projetí stanovištěm; číslo udává body za její správné zodpovězení
- značka označuje místo, kde je schována obálka s teoretickými otázkami; číslo udává body za správné zodpovězení otázek
- značka označuje místo, kde se plní zvláštní úkol, jehož zadání se dozvíte až na tomto místě
- značka označuje stanoviště, v jehož blízkosti se nachází restaurace nebo jiná možnost občerstvení
- maximální možný počet bodů je 436
- časový limit je 7 hodin; za každou minutu po vypršení limitu se odečítá jeden bod
- čas závodění jednotlivých skupin končí, pokud jsou v místě cíle všichni závodníci příslušného družstva a družstvo odevzdalo vyplněný formulář na odpovědi

Trasa 2. etapy závodu

	0.0	START. Vydejte se ke značce dej přednost v jízdě, pokračujte přes most a za ním doprava.	
	1.8	Po pravé straně je kamenosochařství. Jaké zvíře je na bráně? Pokračujte dále po hlavní silnici.	10
	3.7	Minuli jste značku pozor zvěř a dojeli na křižovatku. Pokračujte směrem, do kterého je před křižovatkou více směrových cedulí.	
	4.1	Vlevo je posed. Kolika hřebíky jsou přitlučena prkna, sloužící na sezení na posedu?	10
	4.4	Odbočte na cestu k závoře.	
	5.0	Přijeli jste na asfaltku. Zde vám pořadatelé zadají úkol. Pak pokračujte do obce.	40
	5.5	Minuli jste jezírko a kapličku a dojeli na křižovatku. Kdo se dožil nejvyššího věku z padlých vojáků na pomníku? Pokračujte přes most.	10
	8.0	Za značkou zúžená vozovka jste dojeli k informačním tabulím. Kolik v této obci zaplatíte za vyvážení odpadu z popelnic 40x ročně?	10
	10.7	Hlavní silnice odbočuje doleva. Pokračujte směrem k transformátoru. Jaké číslo měl dům, ve kterém je v této obci obecní úřad?	10
	11.0	Pokračujte směr park.	
	12.5	Podjeli jste dráty elektrického vedení. U dřevěného sloupu za křižovatkou najdete obálku č. 1.	30
	12.9	Vpravo je autobusová zastávka. Kolik svislých dřevěných planěk je kolem kontejnerů na tříděný odpad? Pokračujte dále po hlavní silnici.	10
	14.4	V obci jste přijeli na křižovatku, kde dáváte přednost. Pokračujte ke kontejnerům.	

- 14.7 ✕  Přijeli jste na náves. Pokračujte rovně ke značce dvojitá zatáčka, před touto značkou odbočte vpravo do dvora a dojeďte ke zdejšímu bistra. Kolik korun zde stojí točené pivo Pazdrát 11°? 10
Pak se vraťte na silnici a pokračujte směrem, kam ukazuje modrá směrovka se součtem kilometrických údajů 11.
- 15.1 Vpravo je pošta. Pokračujte dále.
- 16.5 Hned za cedulí obce odbočte do chráněné krajinné oblasti.
- 16.7  U cedule konce obce je vlevo dřevěný sloup, připevněný dvěma šrouby k betonovému sloupku. Jakou velikost klíče bychom potřebovali k odšroubování matic? 10
-  17.1 Před značkou slepé ulice odbočte na cestu.
- 17.4 Cesta se rozdvouje. Pokračujte rovně a na další křižovatce po 30 metrech doleva.
- 18.2  Vpravo je posed se zeleným vrškem. Kolik příček má žebřík na posed? 10
- 18.8 Podjeli jste lano a projeli potokem (druhým, o něco větším než byl ten první). Za pingpongovými stoly se dejte po asfaltce směrem k bílému domu.
- 18.9  ✕ Vpravo je šedý hrad. Vlevo vám pořadatelé zadají úkol. ! 70
Pokračujte k závoře a dále po cestě.
- 19.1 Přejeli jste most se žlutým zábradlím. Pokračujte dále.
- 19.3  Dojeli jste k rozcestníku na stromě. Jaký je součet kilometrických údajů na rozcestníku? 10
Vydejte se po značené turistické cestě, na jejíž směrovce je nejvíce zkratek, a té se držte až do dalšího stanoviště.
- 21.1 Minuli jste hnědý plot a dojeli na lepší cestu. Pokračujte rovně.
-  21.5  Vpravo jsou včelí úly. Co po vás chce osamocené mládě? 10
- 21.6 Za lávkou s červeným zábradlím se cesta stáčí doleva a následně rozdvouje. Vydejte se pravou větví.
- 21.8 Přejeli jste další lávku s červeným zábradlím a dojeli na asfaltku. Vydejte se po ní doprava.
- 22.0 Rozcestí cyklistických tras. Pokračujte rovně.
- 22.2 Na křižovatce se dejte do zákazu vjezdu motorovým vozidlům a následně do zákazu vjezdu.
- 22.3 ✕  Přijeli jste k restauraci. Co se zapovídá v areálu hradu? 10
Vraťte se ke značce zákazu vjezdu motorových vozidel a 40 m za ní se dejte vlevo z kopce.
- 22.5 Odbočka na most se zákazem vjezdu vozidel nad 3 t. Tam pokračujte.
- 24.1  V obci jste u domu č. 3 dojeli na křižovatku. Naproti vám je žlutá cedule s nápisem RD526. Ve kterém roce se jel slavný cyklistický závod, ke kterému se vztahuje tato cedule? 10
Pokračujte do kopce.
- 24.5 Vyjeli jste na kopec a dojeli na křižovatku, kde dáváte přednost. Pokračujte kolem autobusové zastávky.
- 24.9  Vlevo je bývalý transformátor. Za ním hledejte obálku č. 2. 30
- 25.6  Vpravo je poštovní schránka. Kolik hodin bude v Londýně, až ji budou zítra vybírat? 10

- 🕒 27.8  V obci jste přijeli na křižovatku, kde dáváte přednost. Dejte se směrem k zelenému domu.
- 28.4  Přijeli jste k muzeu. Kolik stojí jeden pytel jehličnatého dřeva?
Pokračujte po hlavní silnici. 10
- 28.6 Za dvěma zrcadly odbočte ke značce, upozorňující na zpomalovací prahy.
- 28.9 Za cedulí konce obce je infotabule.
 V jakém roce získal František Herles čestný doktorát? 10
- 29.0  Pořadatelské stanoviště. Zde vám pořadatelé zadají úkol. 36
- 29.8  Hlavní silnice odbočuje doleva.
Sjedzte z asfaltky a pokračujte rovně po cestě.
- 30.1 Za kolejemi pokračujte stále po stejném typu cesty.
- 30.4 Sjeli jste z kopce a cesta se rozdvouje. Pokračujte směrem k živému plotu.
- 30.5 U živého plotu se cesta rozděluje do 3 směrů. Pokračujte tím prostředním.
- 30.8 Přijeli jste k lesu. Pokračujte do lesa (ne podél lesa).
- 31.2  Přijeli jste ke značce zákazu vjezdu motorovým vozidlům. Pokračujte rovně.
V jakém roce byla značka vyrobena? 10
- 31.7 Větší rozcestí. Stále rovně.
- 32.2 Cesta se rozdvouje a v jednom směru je vidět závora. Pokračujte do toho bez závory.
- 🕒 33.3 Přijeli jste na asfaltku. Pokračujte podél dřevěného plotu.
- 33.6  Přijeli jste k budově. Jaká šachová figura se zde nachází?
Pokračujte podle žluté cedulky. 10
- 34.6  Vystoupali jste krátký kopec a vlevo je červeno-bíle pruhovaný sloupek.
U něj hledejte obálku č. 3. 30
- 35.4 Přijeli jste ke hřišti. Držte se značené cyklotrasy.
- 35.7 U autobusové zastávky jste přijeli na křižovatku, kde dáváte přednost.
Vlevo je odpadkový koš a informační tabule s hnědými nohami.
 Odhadněte vnitřní vzdálenost mezi nohami (v cm).
Pokračujte směrem k zrcadlu a u něj doprava. 10
- 38.2  Přijeli jste do obce a po pravé straně stojí v ohradě odstavený starší autobus.
Napište jeho značku a typ. 10
- 38.5 Přijeli jste na křižovatku, kde dáváte přednost. Dejte se k domu 393.
- 39.1 Odbočte směr CENTRUM a na značené křižovatce po 100 m se dejte do obytné zóny.
- 🕒 39.5  CÍL - Kralovice, náměstí - u hotelu Prusík.